



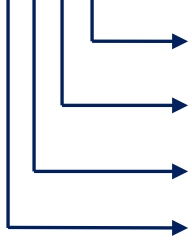
Adı Soyadı :

Numarası :

Konu: Doğal Sayılarda Basamak Adları ve Basamak Değeri Etkinliği

Aşağıdaki sayıların basamak adlarını, basamak değerlerini ve sayı değerlerini yazınız.

4 3 8 4



Basamak Adı

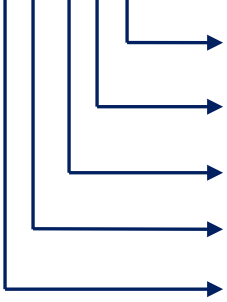
Basamak Değeri

Sayı Değeri

.....
.....
.....
.....

Sayının Okunuşu:

8 4 6 0 9



Basamak Adı

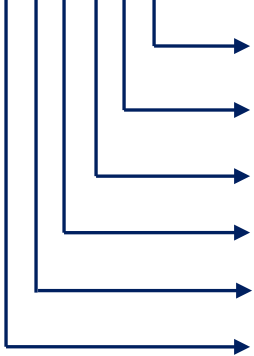
Basamak Değeri

Sayı Değeri

.....
.....
.....
.....
.....

Sayının Okunuşu:

7 8 3 0 5 8



Basamak Adı

Basamak Değeri

Sayı Değeri

.....
.....
.....
.....
.....
.....

Sayının Okunuşu:

Aşağıdaki tabloda verilen doğal sayıların basamak değerlerini yazınız.

	Yüz Binler Basamağı	On Binler Basamağı	Binler Basamağı	Yüzler Basamağı	Onlar Basamağı	Birler Basamağı
6 587						
48 807						
905 870						
74 632						
480 683						

Aşağıdaki basamak tablolarını doldurunuz.

	Yüz Binler Basamağı	On Binler Basamağı	Binler Basamağı	Yüzler Basamağı	Onlar Basamağı	Birler Basamağı
	8			4		
Sayı	864 907					
Okunuşu						

	Yüz Binler Basamağı			Yüzler Basamağı		
		8				2
Sayı						
Okunuşu	Yedi yüz seksen altı bin doksan iki					

Aşağıda basamak değerleri verilen sayıları yazınız.

50 000	4 000	800	30	8
--------	-------	-----	----	---

→ Sayı:

600 000	50 000	6000	700	50	5
---------	--------	------	-----	----	---

→ Sayı:

8 000	300	70	6
-------	-----	----	---

→ Sayı: