

Adı :
Soyadı :
Sınıfı :

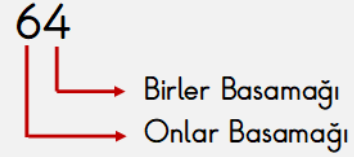
Matematik-2

Basamak Değerini Bulma-1



Bilgi: Bir sayıda rakamların yazıldığı bölüme **basamak** denir. İki rakamla yazılan sayılara **iki basamaklı sayılar** denir. 10'dan başlayarak 99'a kadar olan sayılar iki basamaklı sayılardır.

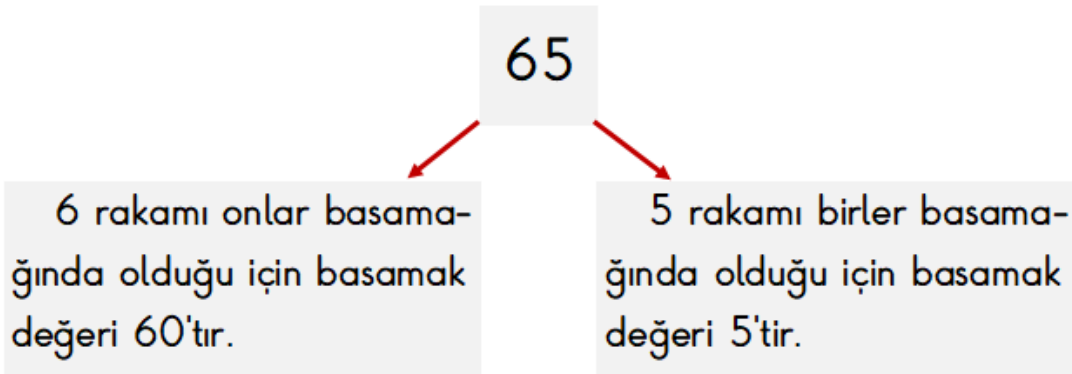
Birliklerin yazıldığı basamağa **birler basamağı**, onlukların yazıldığı basamağa **onlar basamağı** denir.



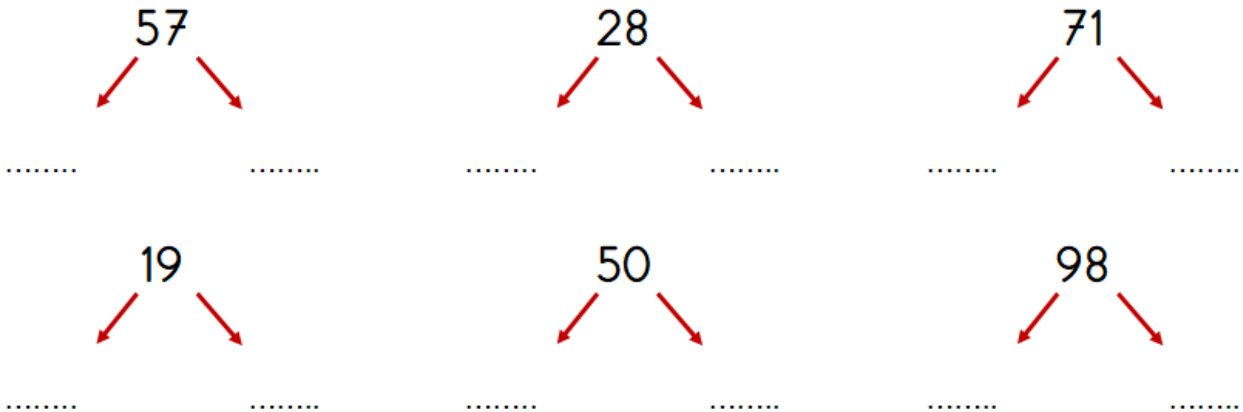
Aşağıdaki doğal sayıların basamak adlarını yazalım.



Bilgi: Rakamların bulunduğu basamağa göre aldığı değere **basamak değeri** denir.



Aşağıdaki doğal sayıları oluşturan rakamların basamak değerlerini bulalım.



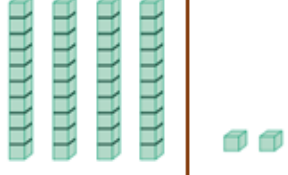
Adı :
Soyadı :
Sınıfı :

Matematik-2

Basamak Değerini Bulma-2



Aşağıdaki tabloları örnekteki gibi dolduralım.

		
Sayı	42	
Basamak Adı	Onlar Basamağı	Birler Basamağı
Basamak Değeri	40	2
Sayının Okunuşu	Kırk iki	

		
Sayı		
Basamak Adı		
Basamak Değeri		
Sayının Okunuşu		

		
Sayı		
Basamak Adı		
Basamak Değeri		
Sayının Okunuşu		

		
Sayı		
Basamak Adı		
Basamak Değeri		
Sayının Okunuşu		

		
Sayı		
Basamak Adı		
Basamak Değeri		
Sayının Okunuşu		

		
Sayı		
Basamak Adı		
Basamak Değeri		
Sayının Okunuşu		