



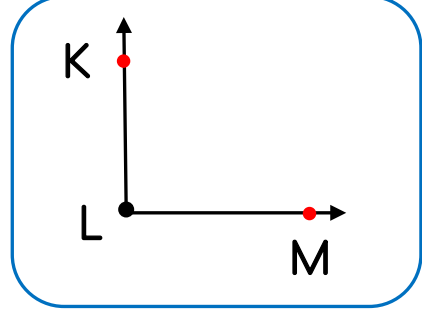
Adı Soyadı :

Numarası :

Konu: Açı ve açı ölçüsü Değerlendirme

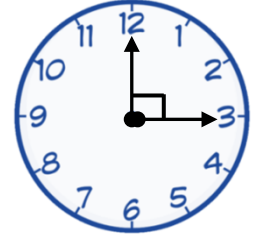
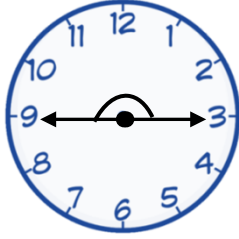
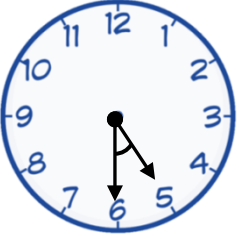
- 1 Yandaki şekilde verilen açı hangi seçenekte doğru olarak isimlendirilmiştir?

A) \hat{K} B) \hat{L} C) \hat{M} D) \hat{N}

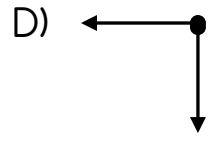
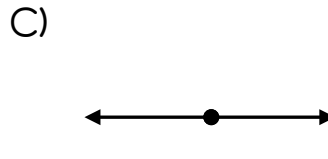
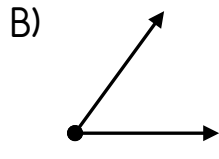
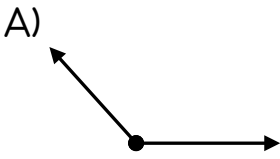


- 2 Aşağıdaki saatlerden hangisinin akrep ve yelkovan arasındaki açı tahminen 100° derecedir?

A) B) C) D)



- 3 Aşağıdaki açılardan hangisi geniş açıya örnektir?



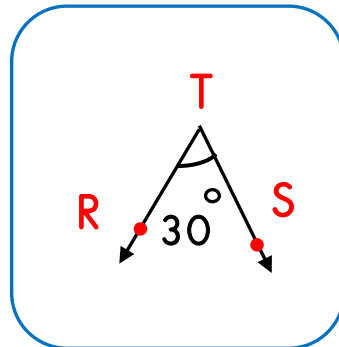
- 4 Yandaki verilen açı ile ilgili aşağıdaki ifadelerden hangisi yanlıştır?

A) Dar açıdır.

B) Dik açıdan 60° küçüktür.

C) \hat{T} olarak adlandırılır.

D) RM ışını, açının kollarından biridir.

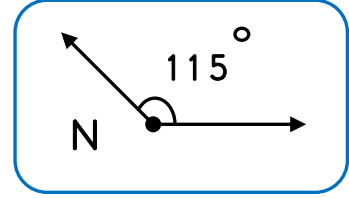


- 5 En büyük geniş açı ile en büyük dar açı arasındaki fark kaç derecedir?
A) 50° B) 79° C) 95° D) 90°

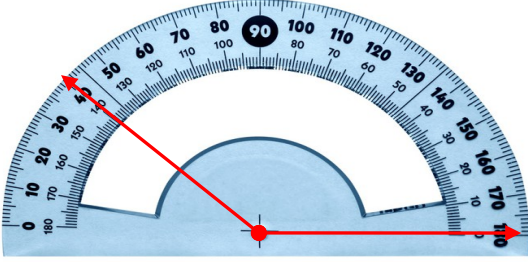
- 6 Aşağıdaki bilgilerden hangisi yanlıştır?

- A) En küçük dar açı 1° 'dir.
B) En büyük dar açı 89° 'dir.
C) En küçük geniş açı 90° 'dir.
D) En büyük geniş açı 179° 'dir.

- 7 Yandaki açıyı kaç eksiltirsek dik açıyı oluştururuz?
A) 20° B) 25° C) 35° D) 30°




8



- Yukarıdaki açı ölçerde ölçülen açı kaç derecedir?
A) 150° B) 140° C) 160° D) 130°

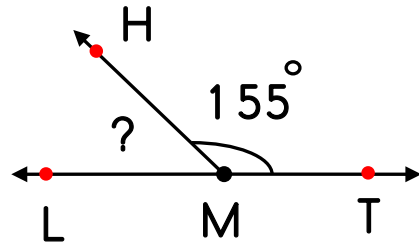
- 9 Yandaki saatte yelkovan hangi rakamın üzerine gelirse dar açı oluşur?

- A) 3 B) 4 C) 2 D) 6



- 10 Yandaki şekilde M açısı doğru açıdır.
Buna göre, $\widehat{S(HML)}$ kaç derecedir?

- A) 25° B) 45° C) 40° D) 30°



CEVAP ANAHTARI

1) B

2) C

3) A

4) D

5) D

6) C

7) B

8) B

9) C

10) A