



Adı Soyadı :

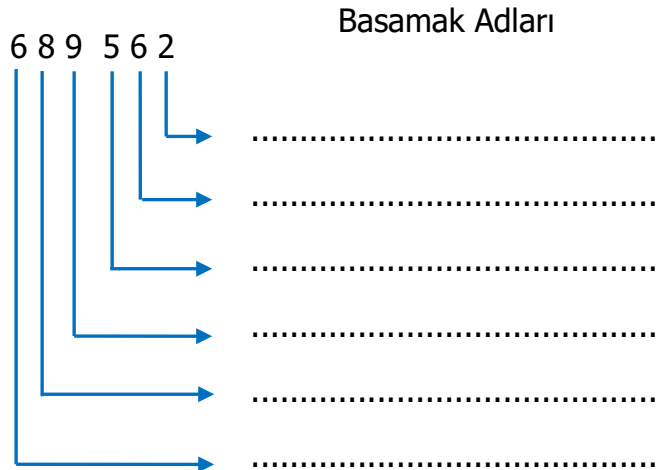
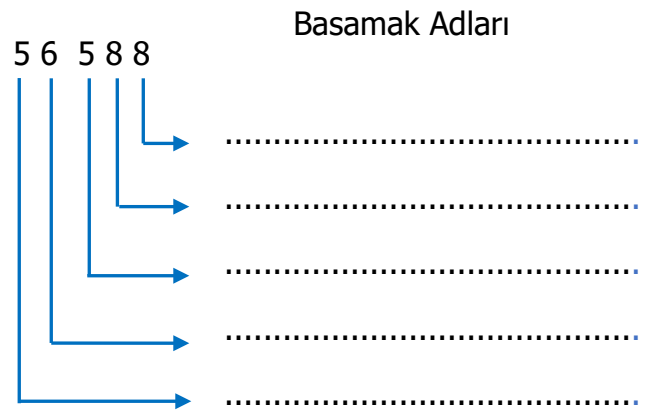

Numarası :

Konu : Doğal Sayıları Bölüklerini, basamaklarını ve basamak değerlerini belirleme

1 Aşağıdaki sayıları örnekteki gibi bölüklerine ayıralım.

Doğal Sayılar	3 588	44 501	666 412	1001	879 500
Binler Bölüğü	3				
Birler Bölüğü	588				

2 Aşağıdaki sayıların basamak adlarını yazalım.



3 Aşağıdaki sayıların basamak değeri ve sayı değerlerini yazınız.

5 2 0 9	Basamak Değeri	Sayı Değeri	7 8 8 9 1	Basamak Değeri	Sayı Değeri

9 1 8 9 2 5	Basamak Değeri	Sayı Değeri

4 Bölüklerine ayrılmış doğal sayıları altlarındaki noktalı yerlere yazalım.

Binler Bölüğü : 25
Birler Bölüğü : 254

.....

Binler Bölüğü : 345
Birler Bölüğü : 401

.....

Binler Bölüğü : 5
Birler Bölüğü : 30

.....

Binler Bölüğü : 2
Birler Bölüğü : 854

.....

Binler Bölüğü : 76
Birler Bölüğü : 9

.....

Binler Bölüğü : 300
Birler Bölüğü : 30

.....