



.....
Kaplumbağa salyangozu görünce şaşırarak:

- Kim, kimsin sen? diye kekelemiş.
- Ben mi? Salyangozum.
- Taş filan sanmıştım seni, demiş kaplumbağa.
- Evimin içindeyken herkes beni taş zannediyor, demiş salyangoz.

Kaplumbağa:

-Annemden dinlemiştim seni. Bizim gibi evini sırtında taşıyormuşsun.

Salyangoz gülererek:

-Ne yaparsın, kira fiyatları çok yüksek. Kendime ev tutamadığım için bu çareyi buldum.

Yavuz BAHADIROĞLU

(İlk 3 soruyu metne göre cevaplayınız.)

1) Kaplumbağa salyangozu görünce onu ne sanmış?

- A) Ağaç sanmış.
- B) Taş sanmış.
- C) Avcı sanmış.

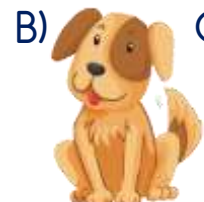
2) Kaplumbağa salyangozu kimden dinlemiş?

- A) Annesinden dinlemiş.
- B) Ninesinden dinlemiş.
- C) Öğretmeninden dinlemiş.

3) Metin ile ilgili verilen bilgilerden hangisi doğrudur?

- A) Metnin türü düz yazıdır.
- B) Başlığı "Kaplumbağa ile Tavşan" olabilir.
- C) Yazarı Hasan Yıldırım'dır.

4) Aşağıdaki hayvanlardan hangisi sözlükte diğerlerinden sonra yer alır?



5)

ç k a ı

Yukarıdaki harfler alfabetik sıraya göre sıralandığında hangi sözcük oluşur?

A) Çakı B) Açık C) Akçı

6)

1- Masal 2- Halı
3- Hikâye 4- Mani

Yukarıdaki sözcükler hangi seçenekte alfabetik sıraya göre sıralanmıştır?

A) 2-3-1-4
B) 4-1-2-3
C) 2-3-4-1

7)

Birler Basamağı	2
Yüzler Basamağı	6
Onlar Basamağı	3

Basamak adları ile verilen doğal sayı aşağıdakilerden hangisidir?

A) 263 B) 632 C) 362

8) "457" sayısı ile ilgili verilen ifadelerden hangisi yanlıştır?

A) Onlar basamağında 5 vardır.
B) 4'ün basamak değeri 40'tır.
C) Okunuşu dört yüz elli yedidir.

9) "362" sayısına en yakın onluk ve en yakın yüzlük sırası ile hangi seçenekte verilmiştir?

A) 360 - 400
B) 370 - 400
C) 360 - 300

10) Hangi sayıya en yakın yüzlük 700, en yakın onluk 650'dir?

A) 649 B) 654 C) 659

11)

845 308 443 809

Yukarıdaki doğal sayılar küçükten büyüğe doğru sıralandığında 3. Sıradaya hangi sayı yer alır?

A) 845 B) 443 C) 809

12) Hangi sıralama doğru yapılmıştır?

A) $258 < 346 < 675 < 599$
B) $618 > 715 > 450 > 182$
C) $199 < 243 < 879 < 900$

13) Hangisi Dünya'mızın gözümüz ile görebildiğimiz katmanlarından biri değildir?

- A) Çekirdek
- B) Su katmanı
- C) Kara katmanı

14) Dünya'mızın dış kısmını oluşturan ince ve kayalık katman hangisidir?

- A) Kara katmanı
- B) Hava katmanı
- C) Su katmanı

15) Hangisi seçenekteki varlıkların hepsi su katmanına aittir?

- A) Irmak, çay, yayla, şehir
- B) Okyanus, deniz, nehir, kaya
- C) Göl, nehir, yeraltı suları

16) Dünya'mızın ile ilgili verilen ifadelerden hangisi yanlıştır?

- A) Dünya'mızın üzerinde okyanuslar ve kıtalar vardır.
- B) Kıtalar, okyanuslardan daha fazla yer kaplar.
- C) Yeryüzü kaplayan sulardan çok azı içilebilir ve kullanılabilir sulardır.

17) Aşağıdakilerden hangisi olumlu bir davranıştır?




- A) Arkadaşımıza kaba davranmak
- B) Derste beslenme yapmak
- C) Söz hakkı alarak konuşmak

18) Arkadaşımızdan hangi ifadeyi duyduğumuzda kendimizi iyi hissederiz?

- A) Seninle oynamak istemiyorum.
- B) Kalemimi versene!
- C) Resmin çok güzel olmuş.

19) Görseldeki kızın yerinde olsaydık yüz ifademiz nasıl olurdu?



- A) 
- B) 
- C) 

20) Teneffüste arkadaşları Eymen'i oynadıkları oyuna almamışlar.

Buna göre aşağıdaki çocuklardan hangisi Eymen olabilir?



Cevap Anahtarı

1-B 2-A 3-A 4-B 5-B 6-C 7-B 8-B 9-A 10-B 11-C 12-C 13-A 14-A 15-C 16-B
17-C 18-C 19-A 20-C

Sınav Ait Konu ve Kazanım Listesi

Ders	Konu	Kazanım
Türkçe	Alfabetik Sıralama	
Matematik	Üç Basamaklı Doğal Sayılar Onluğa ve Yüzlüğe Yuvarlama Doğal Sayıları Karşılaştırma	M.3.1.1.3. Üç bas doğal sayıl bas adlarını, basamaklı rak bas değerlerini belirler. M.3.1.1.4. En çok üç basamaklı doğal sayıları en yakın onluğa ya da yüzlüğe yuvarlar. M.3.1.1.5. 1000'den küçük en çok beş doğal sayıyı karşılaştırır ve sembol kullanarak sıralar.
Fen Bilimleri	Kara ve Su Katmanları	F.3.1.2.1. Dünya'nın yüzeyinde karaların ve suların yer al kavrar.
Hayat Bilgisi	Davranışlarımız Hepimizi Etkiler	HB.3.1.2. Davranışlarının kend ve arkadaşl nasıl etk fark eder.