



Adı Soyadı :

Numarası :

Konu: Doğal sayılarla ilgili değerlendirmeler

1) Aşağıdaki seçeneklerde verilen doğal sayılardan hangisinin sayı değerleri toplamı diğerlerinden fazladır?

A) 654 555

B) 713 809

C) 909 909

D) 900 899

2) "Altı Yüz Yetmiş Sekiz Bin Yirmi Altı" şeklinde okunan doğal sayının çözümlenişi aşağıdakilerden hangisidir?

A) $(6 \times 100\,000) + (7 \times 1\,000) + (2 \times 10) + (1 \times 6)$ B) $(6 \times 100\,000) + (7 \times 10\,000) + (8 \times 1\,000) + (2 \times 10) + (1 \times 6)$ C) $(6 \times 10\,000) + (7 \times 10\,000) + (8 \times 1\,000) + (2 \times 10) + (1 \times 6)$ D) $(6 \times 100\,000) + (7 \times 1\,000) + (8 \times 1\,000) + (2 \times 10)$

3) 608 528 Yandaki tabelada yazan doğal sayının okunuşu aşağıdakilerden hangisidir?

A) Altı yüz seksen bin beş yüz yirmi sekiz

B) Altı yüz sekiz bin beş yüz yirmi

C) Altı yüz seksen sekiz bin beş yüz yirmi sekiz

D) Altı yüz sekiz bin beş yüz yirmi sekiz

4) 256 465 doğal sayısının on binler basamağın 4 eksiltir, binler basamağını 2, eklersek doğal sayı nasıl bir değişiklik olur?

A) Doğal sayı bir değişiklik olmaz

B) Doğal sayı 38 000 artar.

C) Doğal sayı 38 000 azalır

D) Doğal sayı 40 000 artar.

5) "9 999" doğal sayısına 1 eklersek yeni oluşan sayı kaç basamaklı olur?

A) 5

B) 6

C) 4

D) 7

6) Bir doğal sayının binler ve yüzler basamağındaki rakamların sayı değerleri ikişer artırılıyor. Bu sayı ne kadar artar?

A) 2400

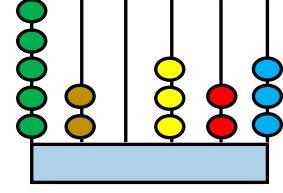
B) 2002

C) 2200

D) 2020

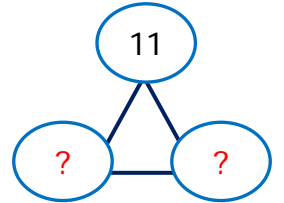
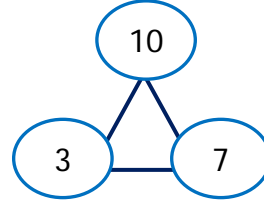
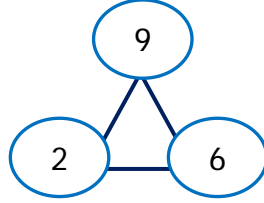
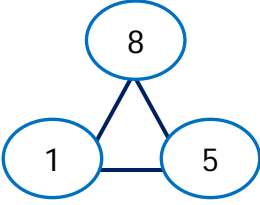
7) Yandaki abaküste modellenen sayı aşağıdakilerden hangisidir?

- A) 502 323 B) 523 323 C) 520 323 D) 520 023



8) Aşağıdaki doğal sayılardan hangisinin yüz binler ve onlar basamağındaki rakam 8'dir?

- A) 808 528 B) 788 582 C) 865 808 D) 800 080



9) Yukarıdaki örüntüde soru işareti olan yerlere han sayılar gelmelidir?

- A) (4 ve 8) B) (5 ve 8) C) (4 ve 9) D) (7 ve 9)

10) Aşağıdaki sayılardan hangisi 700'e yuvarlanmaz?

- A) B) C) D)

11) Aşağıdaki doğal sayıların hangisinde küçükten büyüğe doğru sıralanışında yanlışlık yapılmıştır?

- A) $320\ 519 < 320\ 520 < 320\ 530 < 320\ 540$
B) $988\ 909 < 998\ 919 < 998\ 929 < 999\ 654$
C) $568\ 550 < 575\ 897 < 575\ 797 < 580\ 650$
D) $111\ 970 < 111\ 980 < 111\ 989 < 111\ 990$

12) "6A8 251" doğal sayısının sayı değerleri toplamı 25 olduğuna göre A kaçtır?

- A) 3 B) 4 C) 5 D) 6

13) 6 yüz binlik, 3 binlik , 2 onluk, 5 birlikten oluşan sayı kaçtır?

- A) 630 205 B) 603 025 C) 600 352 D) 603 205

14) "868 508" sayısındaki sekiz rakamlarının basamak değerleri toplamı kaçtır?

- A) 880 800 B) 808 080 C) 800 800 D) 808 008

CEVAP ANAHTARI

1) C

2) B

3) D

4) C

5) A

6) C

7) C

8) D

9) A

10) B

11) C

12) A

13) B

14) D