

.....
Soyunan ağaçların,
Dökülen yaprakları,
Bir sarı yorgan gibi
Örtüyor toprakları.



Çeşit çeşit renkleri
Soluyor çiçeklerin.
Kapanıyor gözleri,
Yaramaz böceklerin.

Çocuklara uzaktan,
Haykırıyor esen yel:
"Korunun ıslanmaktan,
Yağmur var, geliyor sel."



Hasan Ali YÜCEL

(İlk 3 soruyu metne göre cevaplayınız.)

1) Hangisi metinde geçen varlıklardan biri değildir?

A) Yorgan B) Çiçek C) Kar

2) Aşağıdaki olaylardan hangisi metinde geçmemektedir?

A) Yaprakların toprağı örtmesi
B) Çocukların gözlerini kapatması
C) Rüzgârın uzaktan haykırması

3) Metin ile ilgili verilen bilgilerden hangisi doğrudur?

A) Şiir 3 paragraftan oluşmuştur.
B) Başlığı "Güz" olabilir.
C) Şairi Hasan Ali Yıldırım'dır.

4) Aşağıdaki ulaşım araçlarından hangisinin ismi tek hecelidir?

A)



B)



C)



5)

tel-ev-iz-yon

te-nef-füs

pen-çer-e

Türk-i-ye

de-ter-jan

ilk-o-kul

s-por-cu

kur-ba-ğa

Yukarıdaki sözcüklerden kaç tanesi hecelerine doğru bir şekilde ayrılmıştır?

A) 3

B) 4


C) 5


- 6)


arkadaş	bateri
kardelen	pantolon


Yukarıdaki sözcüklerin heceleri kullanılarak hangi sözcük yazılabilir?

- A) Kardeş
B) Balon
C) telefon
- 7) Hangi öğrenci 8'er ritmik saymayı doğru bir şekilde yapmıştır?

A)  6-14-22-32-40-48

B)  4-12-20-28-36-44

C)  2-10-18-24-32-40

8)  17'den başlayarak ileriye doğru 6'şar ritmik sayma yapacağım.

- Hangisi Tunçay'ın söyleyeceği sayılardan biri değildir?
- A) 29 B) 47 C) 66

- 9)

53	26	44	62	35
----	----	----	----	----

Yukarıdaki sayılar küçükten büyüğe doğru sıralandığında hangisi oluşur?

- A) 7'şer ritmik sayma
B) 8'er ritmik sayma
C) 9'ar ritmik sayma

10) Aşağıdakilerden hangisi bir sayı örüntüsü değildir?

- A) 60-54-48-42-36-30-24
B) 12-21-28-39-45-55-64
C) 18-26-34-42-50-58-66

11)

77-70-63-57-49-42-35

Yukarıdaki örüntüde kuralı bozan sayı hangisidir?

- A) 63 B) 57 C) 49

12)

60-?-44-36-?-20-12

Yukarıdaki sayı örüntüsünde soru işareti (?) ile belirtilen yerlere yazılacak olan sayıların toplamı kaçtır?

- A) 72 B) 80 C) 96

13) Güneş sistemindeki gezegenlerden hangisi solunabilir havaya sahip tek gezegendir?

- A) Dünya
- B) Mars
- C) Jüpiter

14) Hangisi hava katmanı ile ilgili bir ifade değildir?

- A) Dünya'mızı Güneş'in zararlı ışınlarından korur.
- B) Hava olayları bu katmanda gerçekleşir.
- C) Canlıların yaşamı için hava katmanı önemli değildir.

15) Hangisi hava katmanının içinde yer almaz?

- A)  B)  C) 

16) "Hava katmanına denir."

Yukarıdaki cümlede boş bırakılan yere hangi sözcük yazılmalıdır?

- A) magma
- B) atmosfer
- C) meteor

17) Hangisi iyi bir arkadaşta bulunması gereken bir özellik değildir?

- A) Saygısız olmak
- B) Dürüst olmak
- C) Yardımsever olmak

18) Yandaki çocuğun yüz ifadesine bakarak hangi sonuca ulaşılabilir?



- A) Güler yüzlü bir çocuktur.
- B) Öfkeli bir çocuktur.
- C) Nazik ve kibar bir çocuktur.

19) Hangi davranış arkadaşlık bağlarını güçlendirir?

- A) Yalan söylemek
- B) Sır tutmak
- C) Hataları affetmemek

20) "Bir yerin, belirli özelliklere göre küçültülerek kâğıda çizilmesine kroki denir."

Aşağıdakilerden hangisi krokinin özelliklerinden biri değildir?

- A) Kuş bakışı çizilir.
- B) Tüm detaylar gösterilir.
- C) Kabataslak çizilir.

Cevap Anahtarı

1-C 2-B 3-B 4-A 5-A 6-B 7-B 8-C 9-C 10-B 11-B 12-B 13-A 14-C 15-C 16-B
17-A 18-B 19-B 20-B

Sınava Ait Konu ve Kazanım Listesi

Ders	Konu	Kazanım
Türkçe	Hece Bilgisi	
Matematik	Ritmik Sayma Sayı Örüntüleri	M.3.1.1.6. 100 içinde altışar, yedişer, sekizer ve dokuzar ileriye ritmik sayar. M.3.1.1.7. Aralarındaki fark sabit olan sayı örüntüsünü genişletir ve oluşturur.
Fen Bilimleri	Hava Katmanı	3.1.2.2. Dünya'da etrafımızı saran bir hava katm bulun açıklar. F.3.1.2.3. Dünya yüzeyind kara ve sul kapl alanl model üz karş
Hayat Bilgisi	Arkadaşım Ol Kroki Çiziyoruz	HB.3.1.4. Arkadaşlık sürecinde dikkat edilmesi ger hususl kavrar. HB.3.1.5. Sınıfının ve okulunun krokisini çizer.