



KARINCA

Hiç durmadan çalışır,
Güçlüklerle uğraşır,
Evine erzak taşır,
Çalışkandır karınca.

Evi yerin altında,
Ambarı alt katında,
Her iş onun sırtında,
Ne aslandır karınca.

Hasan Ali YÜCEL

Not: İlk 3 soruyu metne göre cevaplayınız.

- 1) Karınca, evine **ne** taşımaktadır?
- A) Yakacak odun
B) Erzak
C) Eşya
- 2) Şiire göre karınca ile ilgili aşağıdakilerden hangisi **söylenemez**?
- A) Çalışkan bir hayvandır.
B) Her işi karınca yapmaktadır.
C) Çabuk yorulan bir hayvandır.


- 3) Şiir ile ilgili verilen bilgilerden hangisi **doğrudur**?

- A) 2 kıta, 8 dizedir.
B) 8 kıta, 2 dizedir.
C) 2 kıta, 4 dizedir.

- 4) Aşağıdakilerden hangisi **cümle değildir**?

- A) Geliyor
B) Uçak piste doğru
C) Siz kimsiniz

- 5)



Yukarıdaki kelimelerle anlamlı ve kurallı bir cümle oluşturulursa **sıralama** nasıl olur?

- A) B)
- C)

- 6) Aşağıdakilerden hangisi **istek** belirten bir cümledir?

- A) Yarışmada ikinci oldum.
B) Yarın pikniğe gidelim.
C) Hava güneşli olacakmış.

7) Aşağıdaki cümlelerin hangisi bir duyguyu ifade etmektedir?

- A) Kardeşimle oynarken çok mutlu oluyorum.
B) Bence yarışmayı Osman kazanacak.
C) Kakaolu dondurma yemek istiyorum.

8)


“Bir varmış, bir yokmuş. Evvel zaman içinde, kalbur saman içinde, insanların mutlu yaşadıkları bir köy varmış.”

Bu anlatım kaç cümleden oluşmaktadır?

- A) 4 B) 3 C) 2

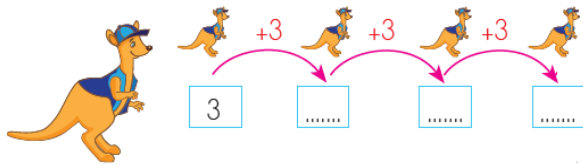
9)



Yukarıda verilen ikişer ritmik saymada  yerine hangi sayı gelmelidir?

- A) 13 B) 14 C) 15

10)



Kangurunun 3'ten başlayarak üçer üçer ritmik sayma yaparken 4. söylediği sayı kaçtır?

- A) 12 B) 15 C) 18

11)



Dörderli ritmik saymada hangisi 16 ile 32 arasında söylediğimiz sayılardan birisi değildir?

- A) 24 B) 26 C) 28

12) 15'ten başlayarak beşer beşer ileriye doğru ritmik sayma yaptığımızda 6. söylediğimiz sayı kaçtır?

- A) 50 B) 45 C) 40

13)



Yukarıdaki sayı örüntüsünün kuralına göre “?” yere hangi sayı gelmelidir?

- A) 24 B) 25 C) 26

14)



Yukarıdaki verilen örüntünün kuralını bozan sayı kaçtır?

- A) 28 B) 30 C) 24

15) Gamze 10'dan başlayarak ikişer ritmik saymada 4 sayma, Okan 9'dan başlayarak üçer ritmik saymada 4 sayma yapmıştır. Gamze ve Okan hangi sayıyı ortak söylemiştir?

- A) 12 B) 15 C) 18



NOT: 16, 17 ve 18. Soruları görselle göre cevaplayınız.

16) Bu görselde verilen okulun bize göre sağında ne vardır?

- A) Market B) Muhtarlık
C) Yüzme havuzu

17) Fatih, evden okula gidebilmek için hangi yoldan geçmesi gerekir?

- A) Okul Sokak B) Atatürk Caddesi
C) Koru Sokak

18) Görsele göre aşağıdakilerden hangisi yanlıştır?

- A) Kütüphanenin karşısında okul vardır.
B) Okulun karşısında yüzme havuzu vardır.
C) Pazar yerinin yanında, park vardır.

19)



Aşağıdakilerden hangisi okulumuzla ilgili öncelikle bilinmesi gereken bilgilerden birisi değildir?

- A) Okulumuzun sokağı
B) Okulumuzun tarihçesi
C) Okulumuzun yakında bulunan binalar

20)



Verilen görselle göre Yıldız Sitesi'nin sol tarafında ne vardır?

- A) Millet Caddesi
B) Postane
C) Okul

Cevap Anahtarı

1)B 2)C 3)A 4)B 5)C
6)B 7)A 8)C 9)B 10)A
11)B 12)C 13)B 14)A 15)A
16)B 17)C 18)A 19)B 20)C