



Çocuktur benim adım,
Oyundur sanatım.
Uygun bir yer bulunca,
Hemen oyuna koşarım.

Oyun benim her şeyim,
Ekmeğim, aşım, suyum.
Eğer oyun yoksa,
○ gün mutsuz olurum.

Hasan YILDIRIM

(İlk 4 soruyu metne göre cevaplayınız.)

- 1) Metne göre çocuğun sanatı aşağıdakilerden hangisiymiş?
A) Ders B) Oyun C) Yemek
- 2) Çocuk uygun bir yer bulunca ne yaparmış?
A) Hemen uykuya koşarmış.
B) Hemen oyuna koşarmış.
C) Hemen kitap okurmuş.


3) Oyunun olmadığı gün çocuğa ne olurmuş?

- A) Mutsuz olurmuş.
B) Çok mutlu olurmuş.
C) İştahı kesilirmiş.

4) Metin ile ilgili verilen bilgilerden hangisi yanlıştır?

- A) Metnin türü şiirdir.
B) Şairi Hasan Yıldırım'dır.
C) Başlığı "Okul" olabilir.

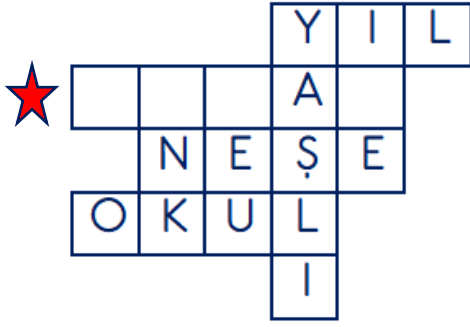
5)



Yukarıdaki papatyada eş anlamlı sözcüklerin bulunduğu yapraklar koparıldığında geriye sözcüğün bulunduğu yaprak kalır?

- A) hatıra B) tören C) anı

6)



Yukarıdaki bulmacaya bazı sözcüklerin eş anlamlıları yerleştirilmiştir.

Buna göre ★ ile belirtilen yere aşağıdaki sözcüklerden hangisinin eş anlamlısı yazılamaz?

A) zaman B) yanıt C) kara

7)



$$\begin{array}{r} 185 \\ + 214 \\ \hline 399 \end{array}$$

$$\begin{array}{r} 347 \\ + 504 \\ \hline 851 \end{array}$$

$$\begin{array}{r} 479 \\ + 355 \\ \hline 734 \end{array}$$

Yukarıdaki çocuklardan hangisi toplama işleminin sonucunu yanlış bulmuştur?

A)



B)



C)



8) Aşağıdaki toplama işlemlerinden hangisinin sonucu diğerlerinden farklıdır?

A) $257 + 75 =$

B) $218 + 119 =$

C) $305 + 27 =$

9)

| | | | |
|----|----|-----|-----|
| + | 50 | 63 | 79 |
| 37 | 87 | A | 116 |
| 44 | 94 | 107 | B |
| 88 | C | 151 | 167 |

Yukarıdaki işlem tablosuna göre "A+B+C" işleminin sonucu kaçtır?

A) 297

B) 332

C) 361

10) Aşağıdaki toplama işlemlerinden hangisinin sonucu diğerlerinden daha büyük bir doğal sayıdır?

A) $356 + 234 =$

B) $482 + 178 =$

C) $527 + 123 =$

11) $(20 + 12) + 15 = 12 + (20 + \dots)$

Yukarıdaki eşitlikte boş bırakılan yere hangi sayı yazılmalıdır?

A) 12

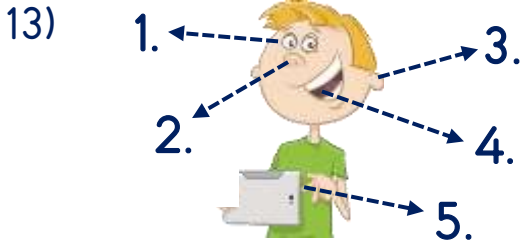
B) 15

C) 20

12) $(35 + 23) + 48$

Yukarıdaki toplama işlemi hangisi ile aynı değildir?

- A) $35 + (18 + 23)$
- B) $(23 + 48) + 35$
- C) $48 + (23 + 35)$



Yukarıdaki görsele göre hangi eşleştirme yanlıştır?

- A) 1. - Görme
- B) 3. - Tat alma
- C) 5. - Dokunma

14) Aşağıdakilerden hangisini yaparken duyu organlarımızdan birini kullanmayız?

- A) Kitap okurken
- B) Yemek yerken
- C) Uyurken

15) Gökyüzünde bulut olup olmadığını hangi duyu organı ile anlarız?

- A) Göz
- B) Burun
- C) Kulak

16) Hangi çocuk tat alma duyu organını kullanacaktır?



17) Aşağıdakilerden hangisi başkasına yardımı ifade etmektedir?

- A) Ödevi zamanında yapmak.
- B) Arkadaşlarımızla oynamak.
- C) Okuldaki kermese katılmak.

18) Hangisi ihtiyaç sahibi birine vermek için uygun değildir?

- A) Okuduğumuz kitap
- B) Bize küçük gelen kıyafet
- C) Eskimiş ayakkabı

19) Hangi etkinlik sosyal yardımlaşma ve dayanışma amaçlı yapılmıştır?

- A) Ben Oynadım, Sen de Oyna
- B) Bilim Adamlarını Tanıyoruz
- C) Temiz Hava İçin Kır Gezisi

20) Hangisi yardımlaşma ve dayanışma ile ilgili bir duygu değildir?

- A) Huzur
- B) Mutluluk
- C) Kibir

Cevap Anahtarı

1-B 2-B 3-A 4-C 5-B 6-A 7-A 8-B 9-C 10-B 11-B 12-A 13-B 14-C 15-A 16-A
17-C 18-C 19-A 20-C

Sınava Ait Konu ve Kazanım Listesi

| Ders | Konu | Kazanım |
|---------------|---|--|
| Türkçe | Eş Anlamlı Kelimeler | |
| Matematik | Toplama İşlemi Toplananların Yer Değiştirilmesi | M.3.1.2.1. En çok üç basamaklı sayılarla eldesiz ve eldeli toplama işlemini yapar. M.3.1.2.2. Üç doğal sayı ile yap topl işi sayıl birb topl sıras deęiş son deęiřt göst. |
| Fen Bilimleri | Duyu Organları ve Görevleri | F.3.2.1.2. Duyu organlarının temel görevlerini açıklar. F.3.2.1.3. Duyu organı saęlığını korumak için yapılm gerek açıklar. |
| Hayat Bilgisi | Hep Birlikte El Ele | HB.3.1.7. Okuldaki sosy yard ve dayanışm ilg çalışm kat ist olur. |