






- 1)  Her satırına dize denir. Elif  
 Ana duygusu vardır. Ozan  
 Ana düşüncesi vardır. Ece  
 Hem eğlendirici hem de öğreticidir. Arda

Hangi çocukları fıkra ile ilgili doğru bilgi vermiştir?

- A) Elif - Ece                      B) Ece - Arda  
 C) Ozan - Arda                    D) Ozan - Ece


- 2)  Birini karalamak, kötü bir işe bulaşmış gibi göstermek ya da kişiye iftira atmak.

Yukarıdaki anlama gelen deyim aşağıdakilerden hangisidir?

- A) Dilinde tüy bitmek  
 B) Ağız kulaklarına varmak  
 C) Çamur atmak  
 D) Kafadan atmak

- 3)  $\Delta$  Sude yeni bir etek almış.  
 Okulların açılması için can atıyorum.  
 Caner topu balkondan aşağı attı.  
 Babamın saçlarındaki aklar çoğalmış.  
 Yukarıdaki cümlelerin hangisinde deyim kullanılmıştır?

- A)                       B)   
 C)                       D)





- 4)  Gaye , doğum gününe gelmediğin için sana çok kırılmış.

Yukarıdaki cümlede hangi kelime gerçek anlamda **kullanılmamıştır**?

- A) için                              B) kırılmış  
 C) doğum                         D) gelmediğin

- 5) Aşağıdaki cümlelerin hangisinde "soğuk" kelimesi gerçek anlamda kullanılmıştır?

- A) Hava soğuk olduğu için montumu giydim.  
 B) Mert bana çok soğuk davrandı.  
 C) Bana soğuk bakışlarından rahatsız oldum.  
 D) Soğuk bir tavırla yanımızdan geçip gitti.

- 6)   $758 + 642 = 1400$  Sude  
  $2408 + 3236 = 5640$  Hasan  
  $5023 + 4151 = 9170$  Utku  
  $1675 + 7044 = 8720$  Ülkü

Yukarıda sayılar en yakın onluğa yuvarlanarak toplama işlemleri yapıldığına göre hangi çocuk işlemi yanlış yapmıştır?

- A) Ülkü                              B) Sude  
 C) Utku                              D) Hasan

7)

$$\begin{array}{l} 2542 + 670 = \blacklozenge \\ 3685 + 2061 = \blacktriangle \end{array}$$

Yukarıdaki sayılar en yakın yüzlüğe yuvarlanarak yapıldığında  $\blacklozenge + \blacktriangle$  işleminin sonucu kaçtır?

- A) 9000                      B) 8800  
C) 8900                      D) 9100

8)



Rakamları birbirinden farklı dört basamaklı en küçük tek sayı ile 6'nın yüz katını zihinden topladım.

Yukarıdaki toplama işlemindeki toplananları en yakın yüzlüğe yuvarlayarak toplarsak toplam kaç olur?

- A) 1623                      B) 1613  
C) 1621                      D) 1631

9)  $\blacklozenge$   $3456 + 800$                        $\blacktriangle$   $3056 + 1200$   
 $\blacklozenge$   $600 + 3556$                        $\blacktriangleright$   $500 + 3756$

Yukarıdaki işlemleri en yakın yüzlüğe yuvarlayarak zihinden yaptığımızda hangisinin sonucu diğerlerinden farklıdır?

- A)  $\blacklozenge$                       B)  $\blacktriangle$   
C)  $\blacklozenge$                       D)  $\blacktriangleright$

10)

$$\begin{array}{r} 3000 + 600 + 20 \\ + 4000 + 300 + 40 \\ \hline = 7000 + 900 + 60 \\ = 7000 + 960 \\ = 7960 \end{array}$$

Yukarıda yapılan zihinden toplama işlemi aşağıdakilerden hangisidir ?

- A)  $3620 + 4304$   
B)  $3620 + 4340$   
C)  $3602 + 4340$   
D)  $3602 + 4348$

11) Aile tarihi hazırlanırken genellikle hangi yöntem kullanılır?

- A) Siyasi tarih  
B) Bilimsel tarih  
C) Uygarlık tarihi  
D) Sözlü tarih

12)  $\triangle$  Öğretmenimiz                       $\circ$  Dedemiz  
 $\square$  Babaannemiz                       $\blacklozenge$  Kardeşimiz

Aile tarihi çalışması yaparken yukarıdakilerden hangilerinin bilgisine ihtiyaç duyarız?

- A)  $\square$   $\circ$                       B)  $\square$   $\blacklozenge$   
C)  $\blacklozenge$   $\triangle$                       D)  $\circ$   $\blacklozenge$

13) I



II



III



IV



Yukarıdaki nesnelere hangisi aile tarihi hakkında bize bilgi **vermez**?

- A) IV                      B) II  
C) I                        D) III

14) Ebru , aile tarihi ile ilgili araştırması için dedesi ile görüşmüş. Aşağıdakilerden sorulardan hangisi sorduğu sorulardan biri **olamaz**?

- A) Babaannemle nasıl evlendiniz?  
B) Seneye köye ev yaptırarak mısınız?  
C) Hangi illerde çalıştınız?  
D) Babam kaç yılında nerede doğdu?

15) I - Sorular sorulur.

II- Soruların cevapları yazılır veya kaydedilir.

III-Sorular hazırlanır.

IV-Görüşme yapılacak aile büyüğü belirlenir.

Aile tarihi ile ilgili araştırma yapılırken yukarıda belirtilen aşamaların doğru sıralanışı aşağıdakilerden hangisidir?

- A) IV – II – I – III                      B) IV – I – III – II  
C) III – II – IV – I                      D) IV – III – I – II

16) ◆ Bal

▲ Sebze

● Meyve

■ Peynir

Yukarıdaki besinlerden hangileri hayvansaldır?

A) ◆ ▲

B) ■ ◆

C) ■ ●

D) ▲ ●

17)

Besinler içeriklerine göre sınıflandırılır.

Aşağıdakilerden hangisi besin sınıflarından biri değildir?

- A) Proteinler  
B) Karbonhidratlar  
C) Tuzlar  
D) Yağlar

18)



Annem ve babam her gün süt içmem gerektiğini söylüyor.

Sıla'ya neden süt içmesi gerektiği söylenmiştir?

- A) Sütün ucuz olmasından dolayı  
B) Evde süt çok olduğu için  
C) Büyüyüp gelişmesi için  
D) İştah artırdığı için

- 19)  Karbonhidratlar Sinem  
 Proteinler Aytaç  
 Mineraller Ümit  
 Yağlar Betül

Öğretmen öğrencilere hangi besin içeriğinin vücudumuza enerji verdiğini sormuş. Bu soruya kimler doğru cevap vermiştir?

- A) Sinem ve Aytaç  
B) Aytaç ve Ümit  
C) Ümit ve Betül  
D) Sinem ve Betül

- 20) Doktor , Melih'e hastalıklardan korunması için vitamini bol olan besinlerden tüketmesini istemiş.

Bu durumda Melih'in daha çok hangi besinlerden yemesi gerekir?

- A) Sebze ve meyve  
B) Ekmek  
C) Zeytin  
D) Süt

## CEVAP ANAHTARI

TÜRKÇE	MATEMATİK	SOSYAL BİL.	FEN BİLİM.
1) B	6) D	11) D	16) B
2) C	7) A	12) A	17) C
3) D	8) A	13) D	18) C
4) B	9) C	14) B	19) D
5) A	10) B	15) C	20) A