

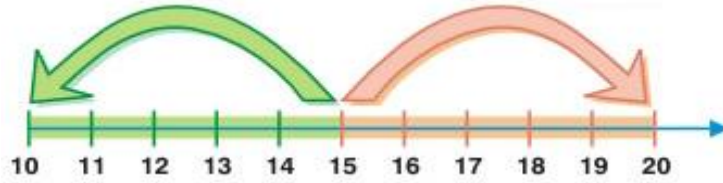
Konu : Hangi Onluğa Yakın?

Kazanım : M.2.1.1.8. 100'den küçük doğal sayıların hangi onluğa daha yakın olduğunu belirler.

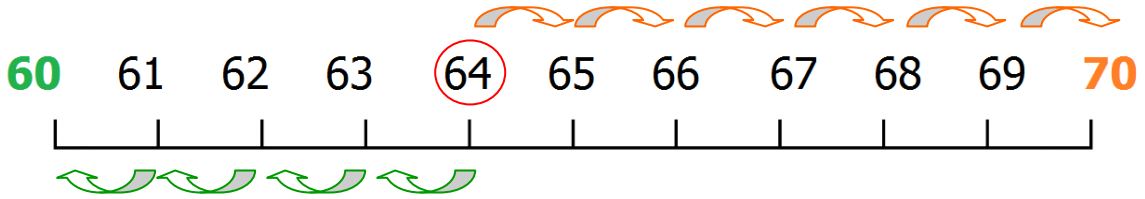
→ Doğal sayıları en yakın onluklarına yuvarlamak için **birler** basamaklarına bakarız.

- **Birler** basamağında **1 - 2 - 3 - 4** bulunan sayı kendi onluğuna yuvarlanır.

- **Birler** basamağında **5 - 6 - 7 - 8 - 9** bulunan sayı sonraki onluğuna yuvarlanır.

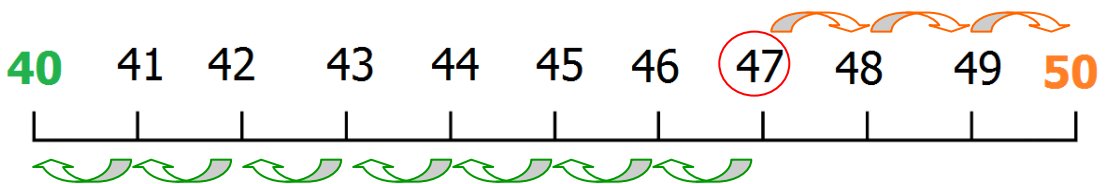


→ **64** sayısının hangi onluğa yakın olduğunu inceleyelim.



★★ Birler basamağında **4** olduğu için **64** sayısı kendi onluğı olan **60'a** yuvarlanır.

→ **47** sayısının hangi onluğa yakın olduğunu inceleyelim.



★★ Birler basamağında **7** olduğu için **47** sayısı sonraki onluk olan **50'ye** yuvarlanır.

→ Sayıları en yakın oldukları onluğa yuvarlamak; işlem yaparken ve tahminde bulunurken kolaylık sağlar.