

1) Aşağıdakilerden hangisi okulda ortak kullanılan eşyalardandır?



A)



B)



C)

2)

1 Çöpleri çöp kutusuna atarım.

2 Güneşli havalarda lambaları açarım.

3 İşim bitince musluğu kapatırım.



Esra'nın kaç numaralı konuşması yanlıştır?

A) 3

B) 2

C) 1

3) Okulumuzda suyu _____ tasarruflu kullanmalıyız.

Yukarıda yazılan cümledeki boş alana hangisi yazılamaz?

A) bazen

B) sürekli

C) daima

4) Aşağıdakilerden hangisi okulda kullanılan kaynaklardan birisi değildir?

A) elektrik

B) su

C) termal

5) lambaları sınıfımızda yanan söndürmeliyiz gereksiz

Duvarda karışık olarak verilen sözcüklerin cümle halindeki yazılışı aşağıdakilerden hangisidir?

- A) Sınıfımızda gereksiz yanan lambaları söndürmeliyiz.
 B) Gereksiz yanan lambaları sınıfımızda söndürmeliyiz.
 C) Sınıfımızda yanan gereksiz lambaları söndürmeliyiz.

6) Su kullanımı ile ilgili en doğru davranış aşağıdakilerden hangisidir?



- A) Suyu çok açmak.
 B) Suyu açık bırakmak.
 C) Suyu yeteri kadar kullanmak.

7) Aşağıdakilerden hangisi doğru bir davranış değildir?

- A) Elimizi yıkadıktan sonra musluğu açık bırakmak.
 B) Elektriği tasarruflu kullanmak.
 C) Okulumuzu temiz tutmak.

8) Kaynakları tasarruflu kullanmayan bir insan aşağıdakilerden hangisine sebep olur?

A) israf




B) verim

C) tutum

9) Okulumuzda ısınma ve aydınlatmada kullanılan kaynaklar hangi seçenekte doğru verilmiştir?

- A) Tebeşir, bilgisayar, karton, silgi
- B) Su, klima, fotokopi makinesi
- C) Elektrik, doğalgaz, odun, kömür

10) Aşağıdaki öğrencilerden hangisi kaynakları verimli ve tasarruflu kullanmamıştır?

- A)  Öğretmenin verdiği fotokopileri kaybettim.
- B)  Musluğun bozuk olduğunu öğretmenime söyledim.
- C)  Su ve temizlik malzemelerini yeteri kadar kullandım.

11) Aşağıdakilerden hangisi okulda temizlik yapılırken kullanılan kaynaklardan birisi değildir?

- A) deterjan
- B) doğalgaz
- C) su

12) Aşağıdaki kaynaklar ve kullanım alanları ile ilgili eşleştirmelerden hangisi yanlıştır?

<u>Kaynak</u>	<u>Kullanım Alanı</u>
A) Deterjan	Isınma
B) Elektrik	Aydınlatma
C) Su	Temizlik

13)



Murat

Kışın, sınıfımızı havalandırmak için pencereleri kısa süre açmalıyız.

Murat'ın söylediği ifade hangi kaynakta tasarruf sağlar?

- A) temizlik
- B) su
- C) doğalgaz

14) Aşağıdaki bilgilerden hangisi doğru değildir?

- A) Elektriği boşa harcamak güzel bir davranıştır.
- B) Tutumlu olmak her vatandaşın görevidir.
- C) Bilgisayar, akıllı tahta ve projeksiyon gibi araçlar elektrikle çalışır.

15) Öğrenciler tarafından temiz ve düzenli tutulan bir okulda _____ .

Yukarıdaki cümle hangisi ile tamamlanmalıdır?

- A) pencereler sürekli açık olur.
- B) doğalgaz faturası çok gelir.
- C) su ve deterjan israfı olmaz.

16) Lambaları sürekli açık bırakılan bir okulda aşağıdaki kaynaklardan hangisi israf ediliyor demektir?

- A) elektrik
- B) su
- C) deterjan