



KORKUTAN RÜZGÂR

Rüzgârın uğultusu hala kulaklarımdan gitmiyor. Ağaçları yıkmak istercesine esiyordu. Belki küçük olduğu içindir, evde en çok kardeşim korkmuştu. Bu yüzden babam; "Yelizciğim korkacak bir şey yok." diye defalarca tekrarlardı.

Yatağıma tek başıma gitmek istemiyordum. Bu yüzden annemden benim için kitap okumasını rica ettim. Annemin güzel sesiyle uyuyakalmışım.

Not: İlk 3 soruyu metne göre cevaplayınız.

- 1) Rüzgar nasıl esiyormuş?
 - A) Yavaş yavaş esiyor.
 - B) Çatıları uçuracak şiddette
 - C) Ağaçları yıkacak şiddette
- 2) Yeliz'in kardeşi neden rüzgârdan en çok korkan kişidir?
 - A) Rüzgârı sevmediği için
 - B) Küçük olduğu için
 - C) Evde yalnız kaldığı için

- 3) Yeliz, annesinden ne rica etmiştir?

- A) Annesinden kitap okumasını
- B) Annesinden onu uyutmasını
- C) Annesinin yanında yatmasını

- 4) Aşağıdaki cümlelerin hangisinde özel isim kullanılmıştır?

- A) Bugün okulda yarışma yapacağız.
- B) Teyzem bana hediye aldı.
- C) Çiftlikteki köpeğimin adı Karabaş'tır.

- 5)



Yukarıdaki tabelalardaki hayvanların tuttıkları isimlerden hangisinin ilk harfi daima büyük harfle yazılır?

- A) Lale
- B) Irmak
- C) Osman

- 6) "Ali'nin köpeği Çomar, Oya'nın kedisini Boncuk'u kovalıyordu."

Yukarıdaki cümlede kaç tane özel isim vardır?

- A) 3
- B) 4
- C) 5

7)



“Özgür” kelimesi aşağıdaki cümlelerin hangisinde özel isim olarak kullanılmıştır?

- A) Özgür yarın akşam gelecekmiş.
B) Özgür kuşlar, havada uçuyordu.
C) Özgürce yaşamak çok güzeldir.

8)

Menekşe

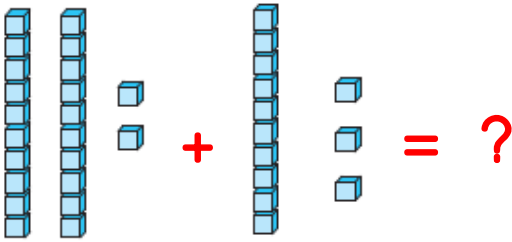
Çiğdem

Marul

Bazı isimler hem bitki hem de insan ismi olarak kullanılmaktadır. Yukarıdaki isimlerden hangisi buna örnek olarak gösterilemez?

- A) Menekşe B) Çiğdem
C) Marul

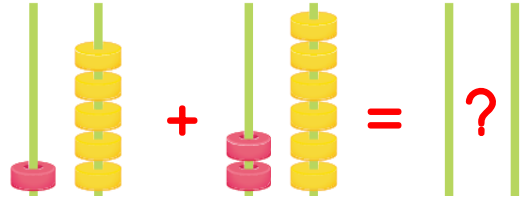
9)



Yukarıda taban blokları ile yapılan toplama işleminin sonucu aşağıdakilerden hangisidir?

- A) $22 + 12 = 34$
B) $22 + 13 = 35$
C) $12 + 13 = 25$

10)



Yukarıda abaküs ile modellenen toplama işleminin sonucu nedir?

- A) 21 B) 31 C) 41

11)

$24 + 19$

$29 + 12$

$16 + 27$

Yukarıdaki işlemlerden hangi ikisinin sonucu esittir?

A)

B)

C)

12) 2 düzine ve 3 destenin toplamı aşağıdakilerden hangisidir?

- A) 54 B) 56 C) 66


13) 40 doğal sayısından bir önce ve bir sonra gelen sayıların toplamı kaçtır?

A) 79

B) 80

C) 81

14)



Yukarıdaki tabelalarda yazılan rakamlar birer kez kullanılarak yazılabilecek iki basamaklı en büyük ve en küçük sayıların toplamı kaçtır?

- A) 88 B) 52 C) 98

15) 4 onluk 8 birlikten oluşan sayı ile 2 onluk 4 birlikten oluşan sayının toplamı kaçtır?

- A) 90 B) 62 C) 72

16) Hangisini söyleyen kişinin arkadaşlarıyla ilişkileri iyi değildir?

- A) Arkadaşlarıma yardım etmem.
B) Arkadaşlarım düşerse kalkmasına yardım ederim.
C) Gerektiğinde eşyalarımı arkadaşlarımla paylaşıyorum.

17) Aşağıdakilerden hangisi nezaket ifadesi değildir?

- A) Seninle tanıştığıma sevindim.
B) Anneciğim eline sağlık.
C) Önüne baksana!

18)



Koşu yarışmasında 1. olan arkadaşımıza karşı nezaket kuralları içerisinde aşağıdakilerden hangisini söylemek daha doğru olur?

- A) Rakiplerin zayıf olduğu için kazandın.
B) Bu kadar sevinmene gerek yok.
C) Tebrik ederim. Bu başarını kutlarım.

19)



Seda

Arkadaşım Mert, bahçede top oyun oynarken sert bir şekilde bana çarptı.

Mert arkadaşı Seda'ya aşağıdakilerden hangisini söylemelidir?

- A) Önümden çekilmelisin!
B) Çok özür dilerim!
C) Dikkatli ol!

20) Aşağıdakilerin hangisini söyleyen birinin, saygılı ve nazik olduğunu düşünmeyiz?

A)



Şu kapıyı kapat!

B)



Lütfen, pencereyi açar mısın?

C)



Kalemimi kullanabilir miyim?

Cevap Anahtarı

1)C 2)B 3)A 4)C 5)C
6)B 7)A 8)C 9)B 10)C
11)A 12)A 13)B 14)A 15)C
16)A 17)C 18)C 19)B 20)A