

1) Sürücü hurdaya dönmüş arabadan sapasağlam çıktı.

Aşağıdaki kelimelerden hangisi yukarıdaki cümleye pekiştirme anlamı katmıştır?

- A) dönmüş                      B) sürücü  
C) arabadan                    D) sapasağlam

2) △ Kıpkırmızı                      □ Simsiyah  
○ Mavimsi                          ◇ Dümdüz

Yukarıdaki kelimelerden hangisi pekiştirme sözcüğü **değildir**?

- A) ○                                  B) □  
C) △                                  D) ◇

3) Aşağıdaki sözcüklere pekiştirme anlamı katmak için noktalı yere farklı bir harf eklenir?

- A) Sa...sarı                      B) Ka...kara  
C) Si...sıkı                      D) Hı...hızlı

4) Annem balkonun camlarını silince ..... olmuş.

Aşağıdaki kelimelerden hangisi noktalı yere yazılırsa pekiştirme anlamı oluşur?

- A) temiz                          B) güzel  
C) tertemiz                      D) parlamış

5) Aşağıdaki cümlelerin hangisinde pekiştirme sözcüğü **kullanılmamıştır**?


- A) Hasan asansörde yapayalnız kalmış.  
B) Sinem'in sevimli bir kedisi var.  
C) Dedem merdivenleri usul usul çıktı.  
D) Bomboş sokakta top oynadık.


6) Ozan Bey 5030 lira maaş almaktadır. 825 lira kiraya , 482 lira faturalara ve 1264 lira aylık alışverişe harcamış.

Yukarıda verilenlere göre Ozan Bey'in maaştan geriye kaç lirası kalmıştır?

- A) 2450                              B) 2459  
C) 2359                              D) 2469


7)  425 soru çözdüm. Elif

 Elif'ten 87 fazla soru çözdüm. Ercan

 ..... Umut


Umut'un çözdüğü soru sayısı Ercan'dan fazla olduğuna göre , üçünün çözdüğü toplam soru **en az** kaç olabilir?

- A) 1450                              B) 1024  
C) 1449                              D) 1451

- 8)  3500 TL  2950 TL

Oya'nın babası fırınla çamaşır makinesi almış. Yukarıdaki etiket fiyatlarından 275 TL fırın için , 185 TL çamaşır makinesi için indirim yapılmış. Buna göre Oya'nın babası toplam kaç TL ödemiştir?

- A) 6450                      B) 6175  
C) 5900                      D) 5990

- 9)  Bir fırında 1. gün 1462 ekmek satılmış. Sonraki günler bir önceki günden 185 ekmek fazla satılmış.

Yukarıda verilenlere göre 3 gün sonunda toplam kaç tane ekmek satılmıştır?

- A) 4941                      B) 4571  
C) 4386                      D) 4756

- 10) Sıla bir kağıda 3 tane sayı yazmış. Yazdığı her sayı diğerinden 200 fazladır. Yazdığı üç sayının en küçüğü 978'dir.





Yukarıda verilenlere göre Sıla'nın yazdığı üç sayının toplamı kaçtır?

- A) 2934                      B) 3134  
C) 3534                      D) 3334

- 10) Sinemadaki filmi pazartesi günü 1635 kişi, salı günü 2097 kişi izlemiş. Çarşamba günü ise salı gününden 248 kişi fazla izlemiş.

Yukarıda verilenlere göre 3 gün sonunda filmi toplam kaç kişi izlemiştir ?

- A) 6077                      B) 6067  
C) 5977                      D) 6177

- 11)  Çocuk oyunlarının tarihi insanlık tarihi kadar eskidir.  
 Çocuk oyunları milli kültür öğelerimizden değildir.  
 Tüm çocuk oyunları geçmişten günümüze hep aynı kalmıştır.  
 Çocuklar büyüklerin oyunlarını değiştirerek de oynamışlardır.

Yukarıdakilerden hangi ifadeler yanlıştır ?

- A)                        B)    
C)                        D)  

- 12) I – Mendil kapmaca



III - Basketbol

- II - Körebe




IV – İp atlama



Yukarıdaki oyunlardan hangisi geleneksel çocuk oyunlarından **değildir**?

- A) IV                      B) II                      C) III                      D) I

- 13)  Geçmişte oynanan, günümüzde artık pek oynanmayan bir oyundur. Genellikle erkek çocukları tarafından , bir kemik parçasıyla oynanmıştır .

Yukarıda Ceyda'nın tarif ettiği oyun aşağıdakilerden hangisidir?

- A) Bilye oyunu      B) Körebe oyunu  
C) Beştaş oyunu      D) Aşık oyunu

- 14)  Çoğu oyun grup halinde oynanırdı.  
 Çocuk oyunları çoğunlukla evin dışında oynanırdı.  
 Çocuklar evde bilgisayar oyunları oynardı.

Geçmişteki oyunlarla ilgili yukarıdaki ifadelerden doğru olanlara "D" , yanlış olanlara "Y" yazarsak hangi sonuç ortaya çıkar?

- A) 

Y
Y
D

      B) 

D
D
Y




      C) 

D
Y
D

      D) 





D
D
D

- 15) Aşağıdakilerden hangisi geçmişte çocukların oynadığı oyuncaklardan biri olamaz?

- A)       B)   
C)       D) 

- 16) Aşağıdakilerden hangisi dengeli beslenmenin sonuçlarından **değildir**?

- A) Sağlıklı beslenmiş oluruz.  
B) Kilo alır , şişmanlarız.  
C) Organlarımız daha rahat çalışır.  
D) Hastalıklardan korunuruz.

- 17)  En sevdiğimiz yemekleri Azra yemeliyiz.  
 Sadece sebze yemeliyiz. Ergün  
 Tüm besinlerden yeteri kadar Orhan yemeliyiz.  
 Hayvansal besinlerden uzak Eda durmalıyız.

Yukarıdaki çocuklardan hangisi dengeli beslenme ile ilgili doğru bir cümle kurmuştur?

- A) Eda      B) Orhan  
C) Azra      D) Ergün

- 18) Vücudumuzun ihtiyacı olan mineralleri ..... karşılayabiliriz.

Yukarıdaki ifadede noktalı yere yazılabilecek en doğru kelime aşağıdakilerden hangisidir?

- A) etten      B) sebzelerden  
C) tüm besinlerden      D) süttten

- 19) ■ Pişirip kullanabiliriz.  
▲ Kesinlikle kullanmamalıyız.  
◆ Buzdolabında beklettikten sonra kullanabiliriz.  
● Yemeklerde azar azar kullanabiliriz.

Yukarıdakilerden hangisi son kullanma tarihi geçen bir besin için yapılması gerekenidir?

- A) ◆ B) ■  
C) ● D) ▲

- 20) Besinlerin kullanım sürelerini uzatmak için kullanılan maddelere ..... denir.

Yukarıdaki ifadede noktalı yere yazılabilecek en doğru kelime aşağıdakilerden hangisidir?

- A) Katkı maddeleri  
B) Şeker  
C) Mineral  
D) Tuz

## CEVAP ANAHTARI

TÜRKÇE	MATEMATİK	SOSYAL BİL.	FEN BİLİM.
1) D	6) B	11) D	16) B
2) A	7) A	12) C	17) B
3) C	8) D	13) D	18) C
4) C	9) A	14) B	19) D
5) B	10) C	15) A	20) A