

## BAYKUŞ

Kuş büyüklüğünde olan baykuşlar ağaç kovuklarında ve mağaralarda yaşarlar.



Yaşam süreleri ortalama 50-60 yıldır. Başlarını neredeyse tam arkaya döndürebilirler. Gece avlandıkları için görme yetenekleri çok gelişmiştir. İşitme yetenekleri de o kadar iyi gelişmiştir ki en küçük sese bile duyarlıdırlar. Tüyleri çok yumuşaktır ve bundan dolayı uçuşları çok sessizdir. Genellikle küçük kemiricilerle beslenirler. Bazı türleri ot ile de beslenir. Bir baykuş günde bir fare yer. Bazı türlerinin günde üç tane yediği olur. Baykuşlar besinlerini bütün olarak yutar.

**Not:** İlk 3 soruyu metne göre cevaplayınız.

1) Aşağıdakilerden hangisi baykuşların yaşadıkları yerlerden birisi **değildir**?

- A) Ağaç kovuğu                      B) Mağara  
C) Dere kenarı

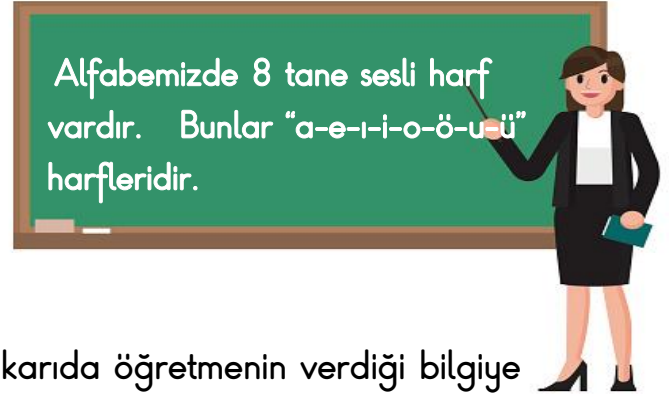
2) Baykuşların yaşam süreleri **ne kadar yıl** sürmektedir?

- A) 40-50                                  B) 50-60  
C) 60-70

3) Aşağıdakilerden hangisi baykuşlara ait bir özellik **değildir**?

- A) Görme yetenekleri çok gelişmiştir.  
B) Uçuşları çok seslidir.  
C) En küçük sesi bile işitebilirler.

4)



Yukarıda öğretmenin verdiği bilgiye göre aşağıdaki hangi cümlede alfabemizdeki **tüm sesli harfler** kullanılmıştır?

- A) Orhan önündeki vazoyu kırdı.  
B) Selim üzümüleri poşete koydu.  
C) Akın mavi önlükleri nereye götürdü?

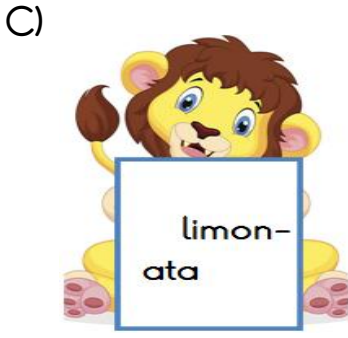

5)



Yukarıda verilen hecelerle hangi şıktaki kelimelerin tamamını **olusturamayız**?

- A) Yaka - Masa  
B) Kasa - Koma  
C) Yasa - Kaya

6) Aşağıdaki satır sonuna sığmayan hecelerden hangisi yanlış ayrılmıştır?




7) Aşağıdaki görsellerin hangisinin adı sözlükte diğerlerinden sonra gelir?

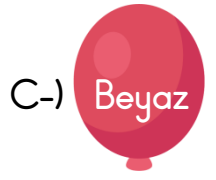
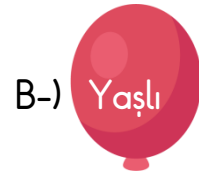
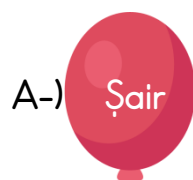


8) Dolu	Aşağı	Konut
Esir	Vakit	Acemi

Yukarıda tabloda verilen kelimelerin **zıt anlamlı olanları** boyanırsa nasıl bir şekil ortaya çıkar?



9)  Efe aşağıdaki balonların üzerinde yazan kelimelerin hem eş hem de zıt anlamlısı olmayan balonu patlatmak istiyor. Hangi balonu patlatmalıdır?



10)  yaramaz	 Pinokya
 kukladır	 bir

Yukarıda verilen kelimelerle anlamlı ve kurallı bir cümle yazılırsa sıralama nasıl olmalıdır?

A-)     B-)    

C-)    

11)



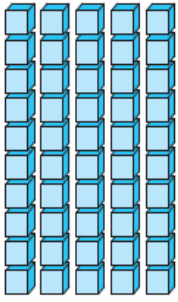
Ömer

Arkadaşlar, 3 ve 8 rakamını kullanarak iki basamaklı doğal sayılar yazalım.

Ömer, 3 ve 8 rakamını kullanarak aşağıdaki doğal sayılardan hangisini yazamaz?

- A) Seksen üç
- B) Otuz sekiz
- C) Elli sekiz


12)



Yandaki taban bloklarıyla modellenen doğal sayı için aşağıdaki bilgilerden hangisi yanlıştır?

- A) 5 onluk 5 birlikten oluşur.
- B) İki basamaklı bir doğal sayıdır.
- C) Basamak değerleri toplamı 10 'dur.

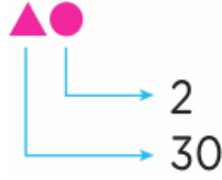
13)



Kümeadaki civciv sayısı 2 düzineden kaç eksiktir?

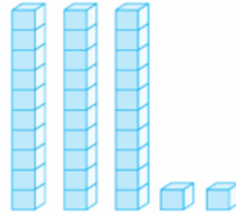
- A) 4
- B) 5
- C) 6

14)

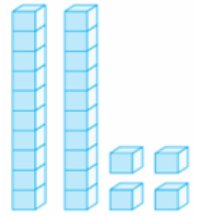


Yukarıda basamak değerleri verilen sayıların modelle gösterimi aşağıdakilerden hangisi olamaz?

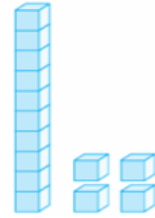
A)



B)



C)



15)

Yeşil topun numarası 2 desteden 5 fazla, sarı topun numarası 2 düzineden 4 eksiktir.

Yukarıda verilen bilgilere göre yeşil ve sarı topların numaraları hangi seçenekte doğru olarak verilmiştir?

- A) 15 20
- B) 25 20
- C) 25 28

16)



Şenol

$$12 - 15 - 18 - ? - 24$$



Nurcan

$$16 - 20 - 24 - ? - 32$$

Şenol ve Nurcan'ın yaptığı ritmik saymalarda "?" ile gösterilen yere sırasıyla hangi sayılar gelmelidir?

Şenol      Nurcan

- A) 28 - 21  
B) 21 - 27  
C) 21 - 28

17) Aşağıda verilen hangi sayı örüntüsünün kuralı diğerlerinden farklıdır?

- A) 24 - 21 - 18 - 15  
B) 36 - 32 - 28 - 24  
C) 24 - 20 - 16 - 12

18)

34 ↔ T

65 ↔ I

89 ↔ K

28 ↔ A

Harflerle eşleştirilen rakamlar büyükten küçüğe doğru sıralanırsa hangi sözcük oluşur?

- A) ATKI                      B) KITA  
C) KATI

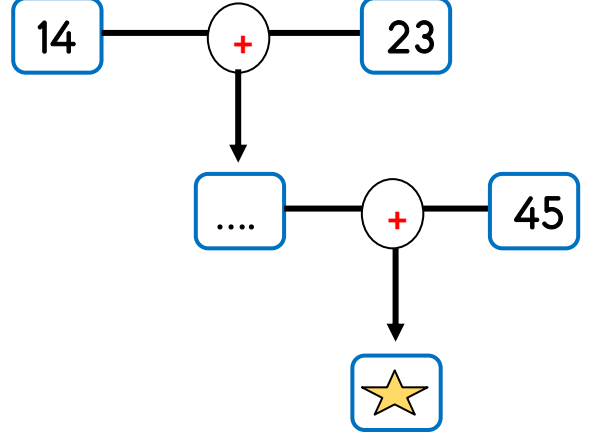
19)



Efe basketbol toplarının üzerindeki sayılardan, en yakın onluğu 50 olan basketbol toplarını potaya atıyor. Efe kaç tane topu potaya atmıştır?

- A) 1                      B) 2                      C) 3

20)



Yukarıdaki şema ile verilen toplama işlemleri oklar yönünde yapılarak "★" ile belirtilen sayı bulunuyor. Bu sayı kaçtır?

- A) 82                      B) 72  
C) 91

21)



Biraz zayıf birisiyim. Saçlarımın rengi ise kahverengidir.



Çok güzel basketbol oynarım.



Biraz kiloluyum. Gözlerim ela renklidir.

Yukarıdaki çocuklar çeşitli özelliklerinden bahsetmiştir. Hangi çocuk fiziksel özelliğinden bahsetmemiştir?

A)



B)



C)



22)

Saç ve göz rengimiz, boyumuz kilomuz .....❤️..... özelliklerimizdir.

Sahip olduğumuz beceriler, ilgi alanlarımız, duygusal yapımız ise .....▲..... özelliklerimizdir.

Yukarıda boş bırakılan ❤️ ve ▲ yerlerine sırasıyla hangi ifadeler gelmelidir?

- A) fiziksel - zihinsel
- B) duygusal - fiziksel
- C) fiziksel - kişisel

23)



Merhaba ben Arda, sınıf arkadaşlarımdan Ersin çok güzel futbol oynuyor. Melek ise çok güzel resim yapar. Elif, çok güzel keman çalıyor.

Arda'nın söylediklerinin hepsini düşündüğümüzde hangisini **söyleyebiliriz?**

- A) Spor yapmak güzeldir.
- B) Herkes keman çalabilir.
- C) Herkesin güçlü ve yetenekli olduğu alanlar farklıdır.

24)



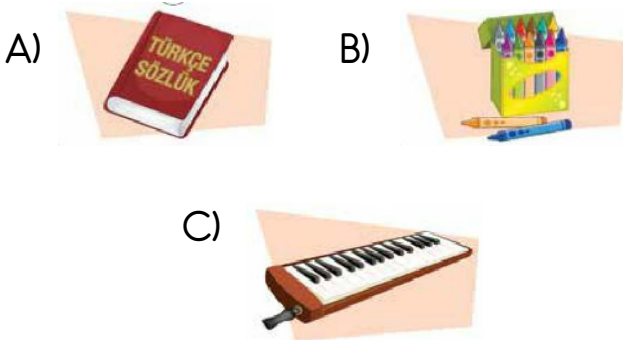
Yukarıda verilen resim ile ilgili hangisi **yanlıştır?**

- A) Engelli arkadaşlarımıza yardım etmeliyiz.
- B) Engelli arkadaşlarımızın zarar görmemesi için oyunlarımıza almamalıyız.
- C) Engelli arkadaşlarımıza karşı duyarlı davranmalıyız.

25) Okul çantasını akşamdan hazırlamayan bir öğrenci için hangisi söylenebilir?

- A) Ders araç gereçlerinden bazılarını unutup derste zorluk yaşayabilir.
- B) Verimli ve başarılı bir gün geçirir.
- C) Ödevleri için daha fazla zaman ayırır.

26) Ders programında görsel sanatlar dersi olan bir öğrencinin yanında bulundurması gereken malzeme aşağıdakilerden hangisidir?



27) Okul ve sınıf eşyalarının zarar görmesini istemeyen bir öğrenci;

- I. Duvarlara yazı yazmak
- II. Sıraları çizmek
- III. Kapıları yavaş kapatmak

Yukarıdaki davranışlardan hangisini ya da hangilerini yapmamalıdır?

- A) I ve II      B) II ve III      C) I ve III

28)



Yukarıda verilen resme göre aşağıdakilerden hangisini söyleyemeyiz?

- A) Okulun karşısında kırtasiye vardır.
- B) Okulun çevresinde market yoktur.
- C) Okulun çevresinde eczane vardır.

29) Aşağıdakilerden hangisi sınıf ve okulda yapılan grup çalışmalarının faydalarından birisi olamaz?

- A) İş bölümü ve dayanışmayı öğreniriz.
- B) Arkadaşlarımızın farklı bilgi ve yeteneklerinden faydalanırız.
- C) İşlerimizi diğer grup üyelerine yaptırırız.

30) Aşağıdakilerden hangisi okulda arkadaşlarımızla iletişim kurarken dikkat etmemiz gereken davranışlardan birisi değildir?

- A) Karşımızdaki kişiden önce konuşmak
- B) Karşımızdakine saygılı davranmak
- C) Karşımızdakinin sözünü kesmeden dikkatle dinlemek

## Cevap Anahtarı

1)C 2)B 3)B 4)A 5)B 6)C 7)A 8)B 9)A 10)C  
11)C 12)C 13)A 14)C 15)B 16)C 17)A 18)B 19)C 20)A  
21)B 22)C 23)C 24)B 25)A 26)B 27)A 28)B 29)C 30)A