

Farkında mısınız çocuklar?  
Soyundu bütün ağaçlar,  
Toprağı sardı yapraklar,  
Bu yıl da geldi sonbahar.



Gitti artık göçmen kuşlar,  
Yerine geldi yağmurlar,  
Soğuk eser oldu rüzgâr,  
Bu yıl da geldi sonbahar.

Hasan YILDIRIM

(1-5. soruları metne göre cevaplayınız.)

1) Metinde aşağıdaki varlıklardan hangisi vardır?



2) Metne göre hangisi sonbaharda gerçekleşen bir olay değildir?

- A) Rüzgârların soğuk esmesi  
B) Yağmurların başlaması  
C) Karıncaların yuvalarına girmesi

3) Metin ile ilgili verilen bilgilerden hangisi doğrudur?

- A) Metnin türü düz yazıdır.  
B) Başlığı "Mevsimler" olabilir.  
C) İki dörtlükten oluşmuştur.

4) Metinde aşağıdaki sözcüklerden hangisinin zıt anlamlısı vardır?

- A) Uzun B) Sıcak C) Tatlı

5) Metinde aşağıdaki sözcüklerden hangisinin eş anlamlısı yoktur?

- A) Sene B) Yel C) Yaşlı

6)

Benim adımda bulunan ünsüz harf sayısı ünlü harf sayısından 2 fazladır.



Verdiği bilgiye göre yukarıdaki çocuğun adı hangisidir?

- A) Muhammed  
B) Mustafa  
C) Kemal

7)

Sonbahar mevsiminde ağaçlar yapraklarını dökerler.

Yukarıdaki cümle ile ilgili verilen bilgilerden hangisi doğrudur?

- A) 4 kelimedenden oluşmuştur.
- B) 18 heceden oluşmuştur.
- C) Hece sayısı en fazla olan kelime 'ağaçlar'dır.

8)



Yukarıdaki ailenin isimleri hangi seçenekte sözlük sırasına göre sıralanmıştır?

- A) Fadime - Fatih - Fuat - Gizem
- B) Fatih - Fadime - Fuat - Gizem
- C) Fuat - Gizem - Fadime - Fatih

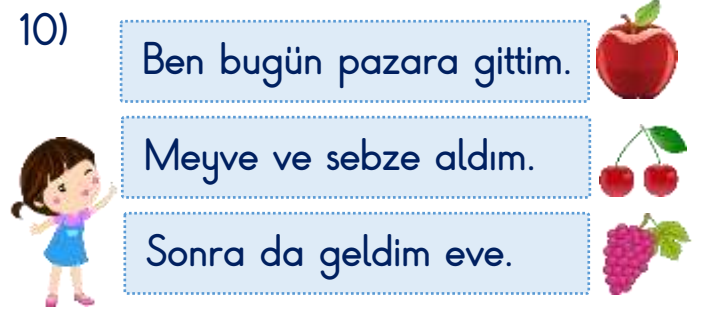
9)

1	çay
2	fil
3	gül
4	kim
5	yüz

Yukarıdaki sözcüklerden hangileri eş seslidir?

- A) 1, 2 ve 4
- B) 1, 3 ve 5
- C) 2, 4 ve 5

10)



Melek kurallı ve devrik cümleler yazmıştır.

Buna göre Melek'in yazdığı cümlelerden hangisi devrik bir cümledir?

- A)
- B)
- C)

11) Aşağıdaki öğrencilerden hangisi verilen sayıyı doğru okumuştur?

A)



371

Üç yüz on yedi

B)



860

Sekiz yüz altı

C)



590

Beş yüz doksan

12)

- 🌸 Üç basamaklı bir sayıdır.
- 🌸 Onlar basamağında 7 rakamı vardır.
- 🌸 3'ün basamak değeri 3'tür.

Yukarıda özellikleri verilen doğal sayı aşağıdakilerden hangisidir?

A) 78      B) 378      C) 673

13) Aşağıdaki ritmik saymalardan hangisinde boş bırakılan yere "240" yazılamaz?

- A) 90-100-110-120-130-.....  
 B) 210-220-230-.....-250  
 C) 260-255-250-245-.....235

14)

Bisikletin fiyatı:

En yakın onluk : 450

En yakın yüzlük: 500



Verilen bilgiye göre Tuncay bisikleti kaç liraya almış olabilir?

B) 437      B) 448      C) 454

15)

347 ▲ 568

479 ■ 419

963 ● 876

İşaretili yerlerden hangisine veya hangilerine ">" işareti gelmelidir?

A) ▲      B) ▲ ve ■      C) ■ ve ●

16)



Yukarıda verilen örüntünün kuralı aşağıdakilerden hangisidir?

- A) 10 artmış, 5 artmış.  
 B) 10 artmış, 5 azalmış.  
 C) 5 azalmış, 10 artmış.

17)



Yaşımın basamak-  
larındaki rakamların  
toplamı çift sayıdır.

Verdiği bilgiye göre Hasan öğ-  
retmenin yaşı hangisi olamaz?

- A) 35      B) 38      C) 42

18)

Ben on dört yaşındayım.



Ben Eliften  
beş yaş küçü-  
ğüm.

Verdikleri bilgilere göre Elif ile  
Ezel'in yaşlarının Romen rakamları  
ile gösterilişi sırası ile hangisidir?

- A) XIX - VIII  
B) XIV - IX  
C) XVI - IIX

19)

$$\begin{array}{r} 445 \\ + 55 \\ \hline \end{array} \quad \begin{array}{r} \dots\dots\dots \\ - 148 \\ \hline \end{array} \quad \begin{array}{r} \dots\dots\dots \\ + 279 \\ \hline \end{array} \quad ?$$

Yukarıdaki işlem şemasına göre  
soru işareti (?) ile belirtilen yere  
hangi sayı gelmelidir?

- A) 631      B) 842      C) 927

20)



Çiçeklerde yazılı olan rakamlar  
birer kez kullanılarak yazılan üç  
basamaklı en küçük ve en büyük  
sayıların toplamı kaçtır?


- A) 385      B) 655      C) 835

- 21) ( ) Dünya düz bir tepsiye benzer.  
 ( ) Dünya öküzün boynuzları arasındadır.  
 ( ) Dünya'nın şekline geoit denir.

Yukarıdaki ifadelerin başına doğru ise "D", yanlış ise "Y" sırası ile nasıl yazılmalıdır?

- A) (D)      B) (Y)      C) (Y)  
 (Y)      (Y)      (D)  
 (D)      (D)      (D)

22)



Yaz tatilinde Mars'a ayak basan Celil, Dünya'mızın uzaydan mavi gözüktüğünü fark etmiştir.

Bu durumun nedeni aşağıdakilerden hangisidir?

- A) Dünya'mızın yuvarlak olması  
 B) Dünya'mızın yüzeyindeki suların karalardan daha çok yer kaplaması  
 C) Dünya'mızın etrafında hava tabakasının olması

- 23) Sahilde ayaklarını suya sokan Tuncay, Dünya'nın hangi katmanlarını hissetmektedir?



- A) Su katmanını  
 B) Kara ve su katmanını  
 C) Kara, su ve hava katmanını

24)

Hava küre ●	● Manto
Su katmanı ●	● Atmosfer
Magma ●	● Su küre

Dünya'mızın katmanları ile ilgili verilen ifadeler doğru bir şekilde nasıl eşleştirilmelidir?

- A) B) C)

- 25) Aşağıdakilerden hangisi duyu organı değildir?

- A) B)   
 C)

26) Zeynep odasında otururken bir kedi sesi duydu. Hemen bahçeye çıktı. Duvarın dibinde yavru bir kedi gördü. Onu kucağına aldı ve sevip okşadı.



Verilen bilgiye göre Zeynep sırası ile hangi duyu organlarını kullanmıştır?

- A) görme-dokunma-koklama
- B) işitme-görme-koklama
- C) işitme-görme-dokunma

27) Duyu organlarımız ile ilgili verilen eşleştirmelerden hangisi yanlıştır?

- A) Kulak - Dokunma
- B) Göz - Görme
- C) Burun - Koklama

28) Aşağıda verilen bilgilerden hangisi doğrudur?

- A) Çevremizdeki varlıklardan bazıları hareketli, bazıları hareketsizdir.
- B) Canlı varlıkların hareket etmesi için dışarıdan bir etki gereklidir.
- C) Bitkiler yer değiştirme hareketi yaparlar.

29)

1	hızlanma
2	yavaşlama
3	durma
4	dönme
5	sallanma

Yukarıda verilenlerden hangileri varlıkların hareket özelliklerindedir?

- A) 1, 2 ve 3
- B) 1, 2, 4 ve 5
- C) Hepsi

30) Aşağıdakilerden varlıklardan hangisi diğerlerinden farklı bir hareket yapmaktadır?



- 31) Arkadaşım bana bir şeyler anlatırken sözünü kesmeden onu dikkatle dinlerim.



Verdiği bilgilere göre Miraç için aşağıdakilerden hangisi doğrudur?

- A) Arkadaşına saygısızlık yapmıştır.  
B) Arkadaşını önemsemektedir.  
C) İyi bir dinleyici değildir.
- 32) Aşağıdaki görsellerden hangisi görselde bulunan çocuğun güçlü yönünü yansıtmaktadır?

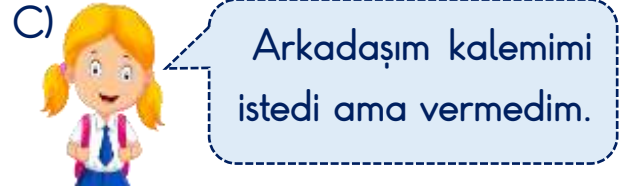
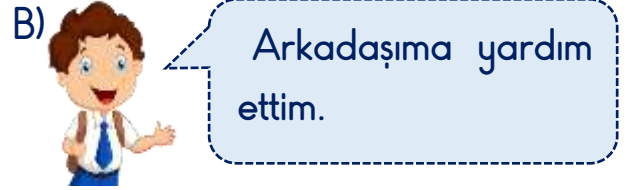
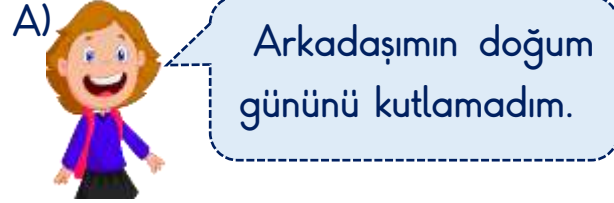


- 33) "Güçlendirmemiz gereken yönlerimizi güçlendirmek için neler yapabiliriz?"

Hangisi yukarıdaki sorunun cevaplarından biri değildir?

- A) Çok çalışmak  
B) Başaracağımıza inanmak  
C) Kendimize güvenmemek

- 34) Aşağıdaki çocuklardan hangisi sergilediği olumlu bir davranışı anlatmaktadır?



- 35) ▲ Yardımsever olmalı  
■ Cimri olmalı  
● Sır saklamasını bilmeli  
♥ Çalışkan olmamalı  
✦ Ayrımcılık yapmalı

Yukarıdakilerden hangileri iyi bir arkadaşta bulunması gereken özelliklerdendir?

- A) ▲ ve ●  
B) ■, ♥ ve ✦  
C) ▲, ● ve ✦

36)



Yukarıdaki kroki ile ilgili verilen bilgilerden hangisi yanlıştır?

- A) Kroki bir okula aittir.
- B) Okulda kantin yoktur.
- C) Müdür odasının karşısında kütüphane vardır.

37)



Afişe göre hangisi Mevlana İlkokulunda düzenlenen kulüp faaliyetlerinden biri değildir?

- A) Satranç Kulübü
- B) İzcilik Kulübü
- C) Bilim ve Teknoloji Kulübü

38) Aşağıdaki sloganlardan hangisi okulda yapılan bir yardımlaşma faaliyetine ait olabilir?

A)

Gezip Öğrenelim

B)

Paylaş Mutlu Et

C)

Biraz da Eğlenelim

39) Okuldaki istek ve ihtiyaçlarımızı belirtme ile ilgili verilen bilgilerden hangisi yanlıştır?

- A) Velilerimize söylemek
- B) Öğretmenimize söylemek
- C) Okul idaresine dilekçe yazmak

40) Hangisi okul kaynaklarını bilinçli bir şekilde kullanan öğrencinin davranışıdır?

- A) Sınıf aydınlıkken boş yere yanan lambayı kapatmak
- B) Derste söz hakkı alarak konuşmak
- C) Okula zamanında gelmek



## Cevap Anahtarı

1-B 2-C 3-C 4-B 5-C 6-A 7-B 8-A 9-B 10-A 11-C 12-C 13-A 14-C 15-C 16-B 17-B  
18-B 19-A 20-C 21-B 22-B 23-C 24-A 25-C 26-C 27-A 28-A 29-B 30-B 31-B  
32-C 33-C 34-B 35-A 36-B 37-C 38-B 39-A 40-A