







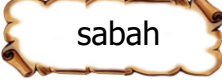

- 1)  Her satıra dize denir.
Ayşe
-  Şiirde verilmek istenen mesajı ana düşünce denir.
Erkan
-  Yazan kişiye şair denir.
Oya
-  Dörtlüklerden oluşan satıra kıta denir.
Okan

Şiir hakkında hangi çocuk **yanlış** bir bilgi vermiştir?

- A) Oya B) Erkan
C) Okan D) Ayşe

- 2) göremeyince – çok – sabah
telaşlandım - kafesinde – Geveze'yi

Yukarıda karışık olarak verilen kelimeleri kurallı cümle haline getirdiğimizde cümle sonuna hangi kelime gelmelidir?

- A)  B) 
C)  D) 

- 3) Bahçedeki fidanları çok **sık** dikmişler.

Yukarıdaki sık kelimesinin karşıt anlamlısı aşağıdakilerden hangisidir ?

- A) seyrek B) az
C) fazla D) ince

- 4) Aşağıdaki cümlelerin hangisinde pekiştirme anlamı olan bir kelime **kullanılmamıştır**?

- A) Çamaşırlar yıkanınca bembeyaz oldu.
B) Güvercinler masmavi gökyüzünde uçuyordu.
C) Bu yaz denizde fazla yüzemedim.
D) Suna sırlıklam bir şekilde eve geldi.

- 5) Aşağıdakilerden hangisi " Olduğundan güzel göstermek." anlamında kullanılan bir deyimdir?

- A) Karnı zil çalmak
B) Elinden tutmak
C) Göz boyamak
D) Çenesi düşmek

- 6) I- 15 Eylülde II- Tanerler
III- Sivaslı IV- Sedanın

Yukarıdaki kelimelerin hangilerinde kesme işareti kullanılmalıdır ?

- A) I-IV B) I-II
C) II-III-IV D) Hepsi

- 7) Aşağıdaki cümlelerin hangisinde "**dik**" kelimesi farklı anlamda kullanılmıştır?

- A) **Dik** merdivenleri çıkmak insanı yoruyor.
B) Bu saksıya güzel bir çiçek **dik**.
C) Yokuş o kadar **dik** ki bisikletle çıkamadım.
D) Adam **dik** ağaçlara çok kolay çıkıyordu.

- 8) ● Odamdaki halıyı yıkadık.
■ Hasan'daki kalem benim.
▲ Erken yatki sabah erken kalk.
◆ Tabaktaki biberler çok acı.
Yukarıdaki cümlelerin hangisinde yazım yanlışı yapılmıştır?

- A) ▲ B) ■
C) ● D) ◆

- 9) Aşağıdaki cümlelerin hangisinde "ısınmak" kelimesi farklı anlamda kullanılmıştır?
- A) Havalar ısınınca karlar eridi.
B) Kalorifer yanınca oda ısındı.
C) Fatma ısınınca kabanını çıkardı.
D) Yeni taşınan komşumuz bize çok çabuk ısındı.

- 10) Sinem kaşıkları () çatalları ve peçeteleri masaya koydu mu () Koymadıysa ona yardım et ()

Yukarıdaki cümlelerde () içine sırayla hangi noktalama işaretleri gelmelidir?

- A) (,) (?) (!) B) (,) (?) (.)
C) (.) (?) (.) D) (,) (.) (.)

- 11) Ablam sınava hazırlanmak için iki yüz bin iki yüz iki tane soru çözmüş.



Mert'in ablasının çözdüğü soru sayısı hangisinde doğru yazılmıştır?

- A) 20202 B) 200202
C) 202202 D) 202002

- 12) 1. Gün 6 2. Gün 12 3. Gün 10 4. Gün 20 5. Gün 18

Yukarıda Pelin'in günlere göre okuduğu sayfa sayısı bulunmaktadır . Sayılar aralarında belirli bir kurala göre sıralanmaktadır. Buna göre 6. ve 7. gün toplam kaç sayfa okumuş olur ?

- A) 36 B) 72 C) 68 D) 70

- 13) 5 - 8 - 0 - 3 - 4

Ozan yukarıdaki rakamları birer defa kullanarak beş basamaklı en küçük doğal sayıyı yazmış. Buna göre yazdığı sayıyla ilgili aşağıdakilerden hangisi yanlıştır ?

- A) Birler basamağında sıfır vardır.
B) On binler basamağında 3 vardır.
C) Yüzler basamağında 4 vardır.
D) Onlar basamağında 5 vardır.

- 14) 857546

Bir çiftçinin sattığı kavunun ağırlığı yukarıda ki sayıda bulunan 5'lerin basamak değerlerinin farkı kadardır. Buna göre çiftçi kaç kg kavun satmıştır?

- A) 50000 B) 50500
C) 49000 D) 49500

- 15) □ < 874 ◎ > 2449

Yukarıdaki karşılaştırmalarda □ yerine yazılabilecek en büyük sayı , ◎ yerine yazılabilecek en küçük sayı aşağıdakilerden hangisidir?

- | | □ | ◎ |
|----|-----|------|
| A) | 875 | 2450 |
| B) | 873 | 2451 |
| C) | 873 | 2450 |
| D) | 871 | 2451 |

- 16) 2640'tan başlayarak ileriye doğru yüzer ritmik saydım.



Sude ilk olarak 2640 sayısını söylediğine göre 5. ve 8. Sırada hangi sayıları söyler? lerden kaç tane fazladır?

- A) 3040 - 3240 B) 3040 - 3340
C) 2940 - 3240 D) 2940 - 3340

17)

850

En yakın onluğa yuvarladığımızda yukarıdaki sayıyı elde ettiğimiz en büyük ve en küçük sayı aşağıdakilerden hangisidir?

- A) 855 - 845 B) 854 - 849
C) 854 - 845 D) 854 - 846

18) 80630 – 83060 - 86030 – 83600 - 86300

Yukarıdaki sayılar büyükten küçüğe doğru sıralanınca 3. sırada hangi sayı olur?

- A) 83600 B) 83060
C) 80630 D) 86030

19)

$$\begin{array}{r} 2 \diamond 54 \\ + 347 \triangle \\ \hline 6927 \end{array}$$

Yukarıdaki toplama işlemine göre $\triangle \times \diamond$ işleminin sonucu kaçtır?

- A) 9 B) 10
C) 12 D) 14

20)

$$\begin{array}{r} 8K19 \\ - 536L \\ \hline 3354 \end{array}$$

Yukarıdaki çıkarma işleminde K ve L yerine hangi sayılar gelmelidir ?

- A) L = 5 B) L = 5
 K = 6 K = 8
C) L = 4 D) L = 5
 K = 7 K = 7

21) ● Kimlik kartları Emniyet Müdürlüğü tarafından verilir.

■ T.C. kimlik numarası birden fazla kişiye verilebilir.

◆ Yeni kimlik kartlarında çip vardır.

▲ Kimlik kartları 10 yıl geçerlidir.

Yukarıdaki bilgilerden hangileri yanlıştır?

A) ■ ◆

B) ● ■

C) ▲ ■

D) ● ▲

22) I- 10 Mayıs 2011'de doğdum.
II- Mayıs 2012'de yürümeye başladım.
III- Temmuz 2012'de konuşmaya başladım.
IV- Eylül 2016'da anaokuluna gittim.
V- Haziran 2014'de yemeğimi kendim yemeye başladım.
VI- Eylül 2017'de ilkokula başladım.

Yukarıda yapılan kronolojik sıralamada yapılan hata hangi numaralardaki olayların yer değiştirmesiyle düzelir?

A) II ile III B) IV ile V

C) IV ile VI D) III ile IV

23) Arda halk oyunları kursuna gitmek istiyor.

Yukarıdaki ifade aşağıdakilerden hangisiyle ilgilidir?

A) ilgi B) empati

C) ihtiyaç D) yetenek

24) Aşağıdaki olaylardan hangisi empatiye örnektir?

A) Kemal'in kütüphaneye giderek ders çalışması.

B) Mert'in resim yapmayı sevdiği için resim kursuna gitmesi.

C) Pelin'in güzel tenis oynaması.

D) Gaye'nin , bisikleti olmayan arkadaşına bisikletini sürdürmesi.

25) Gel , gel , ne olursan ol yine gel.
Mevlana

Mevlana'nın yukarıdaki ifadesi aşağıdakilerden hangisiyle ilgilidir?

A) Adalet

B) Yardımlaşma

C) Sorumluluk

D) Farklılıklara saygı

26) Her milletin kültürü kendine özgüdür.

Paskalya bayramı milli kültürümüze aittir.

Türk milleti zengin bir kültüre sahiptir.

Yukarıdaki ifadelerden doğru olanlara "D" , yanlış olanlara "Y" yazarsak hangi sonuç ortaya çıkar?

A)

D
Y
Y

 B)

D
D
D


 C)


D
Y
D


 D)

Y
D
D

27)  Hikayeci tarih


 Siyasi tarih

 Genel tarih

 Sözel tarih

Öğretmen öğrencilerden aile tarihlerini yazmalarını istemiş. Öğrenciler de kullanacakları yöntemi söylemişler. Hangi çocuğun kullanacağı yöntem doğrudur?

- A) Kenan
- B) Suna
- C) Şahin
- D) Pelin

28)  Öğretmenim çok güzel resim yaptığımı söylüyor. Aynı zamanda güzel masa tenisi oynarım.

Ozan'ın bahsettiği şeyler aşağıdakilerden hangisidir?

- A) İhtiyaçları
- B) Duyguları
- C) Yetenekleri
- D) İstakleri

29) Yeni kimlik kartlarımızdan önce kullandığımız nüfus cüzdanlarında aşağıdaki bilgilerden hangisi yazılı olarak **bulunmaz**?

- A) T.C. Kimlik Numarası
- B) Cinsiyet
- C) Doğum tarihi
- D) Doğum yeri

30) Ş → Dede

I → Muhtar

K → Babaanne

O → Anneanne

Aile tarihimizi hazırlarken bilgisine başvurduğumuz kişilerin başlarındaki harfleri kullanarak iki kelime yazabiliriz. Bu kelimeler aşağıdakilerden hangisidir?

- A) Koş - Kış
- B) Şok - Kış
- C) Şok - Şık
- D) Koş - Şok

- 31) Ekonomik değeri olan kayalara denir.



Yukarıdaki ifadede noktalı yere aşağıdakilerden hangisi gelmelidir?

- A) fosil B) taş
C) maden D) mineral

- 32) Hülya : Taş küre Uğur: Ateş küre
Ercan: Ağır küre Eda: Hava küre

Öğretmen öğrencilere Dünya'nın görülemeyen veya hissedilemeyen katmanlarını sormuş. Buna göre kimler doğru cevap vermiştir?

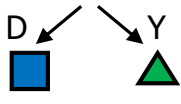
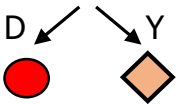
- A) Hülya - Ercan
B) Ercan - Uğur
C) Uğur - Eda
D) Ercan - Eda

- 33) Dünya kendi eksenini etrafında dönmesiyle mevsimler oluşur.

D Y

Dünya'nın karanlık yüzü gecedir.

Dünya Güneş çevresinde dolanmasını 1 yılda tamamlar.



Yukarıdaki ifadelerin doğru ve yanlış olmalarını dikkate alarak ilerlersek hangi şekle ulaşırız?

- A) B) C) D)

- 34) Sevda: Güneş Dünya etrafında döner.
Öner: Dünya'nın günlük hareketi sonucunda gece ve gündüz oluşur.
Nisa: Ülkemizde Doğu'daki illerde Güneş daha önce doğar.

Yukarıdaki ifadelerin doğruluğu kontrol edildiğinde aşağıdaki sonuçlardan hangisi ortaya çıkar?

	Sevda	Öner	Nisa
A)	Yanlış	Doğru	Doğru
B)	Yanlış	Doğru	Yanlış
C)	Doğru	Doğru	Doğru
D)	Yanlış	Yanlış	Doğru

- 35) mermer – kum – altın – bakır – toprak çakıl – demir – gümüş – bor - taş

Yukarıdakilerden kaç tanesi madendir?

- A) 8 B) 5
C) 7 D) 6

- 36) Aşağıdakilerden hangisi doğrudur?

- A) Dünya önce kendi eksenini etrafında döner, sonra Güneş etrafında dolanır.
B) Dünya önce Güneş etrafında dolanır, sonra kendi eksenini etrafında döner
C) Dünya dönme ve dolanma hareketini aynı anda yapar.
D) Dünya Ay çevresinde dolanır.

37)



Ablamın yaraları çok geç iyileşiyor. Aynı zamanda boyu çok uzamıyor.

Yukarıdaki ifadeye göre ablası hangi besin içeriğini yeteri kadar tüketmiyor olabilir?

- A) yağ B) karbonhidrat
C) su D) protein

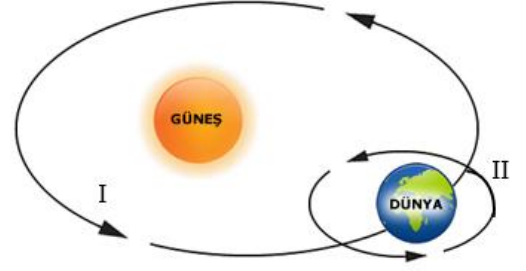
38)



Yukarıdaki besinlerde içerik yönünden aşağıdakilerden hangisi bol miktarda bulunur?

- A) karbonhidrat B) yağ
C) mineral D) protein

39)



- ◇ I numaralı ok Güneş'in Dünya etrafında dolanışını gösterir.
▣ II numaralı ok Dünya'nın dönme hareketini gösterir.
△ I numaralı ok Dünya'nın dönme , II numaralı ok dolanma hareketini gösterir.

Yukarıdaki ifadelerden hangisi doğrudur?

- A) ◇ △ B) Yalnız ▣
C) Yalnız ◇ D) △ ▣

40)

Canlı kalıntılarının yıllar içinde taşlaşması sonucu oluşur.

Yukarıdaki ifadede noktalı yere aşağıdakilerden hangisi gelmelidir ?

- A) kaya B) fosil
C) maden D) mineral

CEVAP ANAHTARI

TÜRKÇE	MATEMATİK	SOSYAL BİL.	FEN BİLİM.
1) B	11) B	21) B	31) C
2) D	12) D	22) B	32) B
3) A	13) A	23) A	33) D
4) C	14) D	24) D	34) A
5) C	15) C	25) D	35) D
6) A	16) B	26) C	36) C
7) B	17) C	27) A	37) D
8) A	18) A	28) C	38) A
9) D	19) C	29) B	39) B
10) B	20) D	30) D	40) B