



Adı Soyadı :





Numarası :

Çalışma Kağıdı

Konu: Ondalık Kesirleri Karşılaştırma


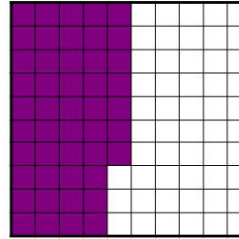

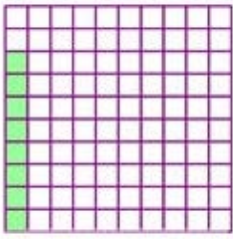
Kazanım 1 : İki ondalık kesri karşılaştırarak aralarındaki ilişkiyi büyük, küçük veya eşit sembolle gösterir.

- 1 Aşağıdaki modelleri inceleyiniz. Renkli kısımlarının belirttiği ondalık kesirleri karşılaştırınız ve aralarına " $<$ ", " $>$ ", " $=$ " işaretlerinden uygun olanı yazınız.



.....

.....



.....

.....

- 2 Aşağıdaki ondalık kesirlerin arasına " $<$ ", " $>$ ", " $=$ " işaretlerinden uygun olanını yerleştiriniz.

a. $0,8 \dots 0,7$

g. $51,55 \dots 51,50$

p. $4,2 \dots 4,1$

b. $0,6 \dots 0,60$

h. $5,25 \dots 6,2$

r. $32,6 \dots 30,75$

c. $0,07 \dots 0,7$

l. $2,2 \dots 1,3$

s. $2,30 \dots 2,3$

d. $0,87 \dots 0,85$

m. $5,01 \dots 5,1$

t. $5,8 \dots 5,9$

e. $0,95 \dots 0,9$

n. $80,80 \dots 79,90$

u. $44,32 \dots 44,3$

f. $3,48 \dots 21,2$

o. $3,5 \dots 3,50$

v. $9,8 \dots 9,80$

- 3 Aşağıdaki soruları tablodaki sayılara göre cevaplayınız.

a. $3,65$ 'ten küçük olan ondalık kesirler

.....,,,,

b. $3,65$ 'ten büyük olan ondalık kesirler

.....,,,,

3,50

3,75

3,92

3,52

3,01

4,28

4,5

3,60

3,30

4,2

4 Aşağıdaki verilen rakamları birer kez kullanarak istenilen ondalık kesirleri yazınız.

5 0 4

8 1 6

3 5 1

En büyük : ,

En küçük : ,

En büyük : ,

En küçük : ,

En büyük : ,

En küçük : ,

6 0 3

2 9 7

8 4 6

En büyük : ,

En küçük : ,

En büyük : ,

En küçük : ,

En büyük : ,

En küçük : ,

5 Aşağıdaki kutucukların içine yazılabilecek en büyük rakamları yazınız.

a. $0, \square < 0,6$

c. $0,8 > 0, \square$

e. $2,5 < 2, \square$

b. $0,6 > 0, \square$

d. $0,54 < 0, \square$

f. $41,8 > 41, \square$

6 Aşağıdaki kutucukların içine yazılabilecek en küçük rakamları yazınız.

c. $0, \square < 0,7$

c. $0,8 > 0, \square$

e. $3, \square < 3,7$

d. $0, \square > 0,8$

d. $0, \square < 0,6$

f. $35,5 > 35, \square$

7 Aşağıdaki ondalık kesirleri küçükten büyüğe doğru sıralayınız.

2,45

2,5

2,70

2,6

..... , , ,

8 Aşağıdaki ondalık kesirleri küçükten büyüğe doğru sıralayınız.

3,11

3,1

3,20

3,15

..... , , ,