



Adı Soyadı :



Numarası :

Çalışma Kağıdı2


Konu : Simetri

Kazanım 1: Düzlemsel şekillerdeki simetri doğrularını belirler ve çizer.


1 Aşağıdaki varlıkların simetri doğrularını çiziniz.



2 Aşağıdaki şekillerin verilen doğrulara göre simetrik parçalarını tamamlayınız.



3 Aşağıdaki varlıklardan simetrik olanları işaretleyiniz.



4 Simetri doğruları verilen aşağıdaki şekilleri tamamlayınız?

