



## GERÇEK VE HAYAL ÜRÜNÜ İFADELER

☘ Aşağıdaki cümlelerde gerçek ifadelerle "G" harfi , hayal ürünü ifadelerle "H" harfi yazalım.

- ... Suda yüzen köpek gördüm.
- ... İzmir'e Arabayla uçarak gittik.
- ... Kedi fareyi yakalamak için plan yapıyordu.
- ... Kuşlar yerdeki yeme doğru uçtular.
- ... Annem halıları yıkarken yardım ettim.
- ... Kurt , tilki ile sohbete başladı .
- ... Ne kadar acıktıysam on tencere yemek yedim.
- ... Sinem gökkuşağının ucundaki altınları bulmuş.
- ... Kedi kuş avlamak için ağaca tırmandı.
- ... Tuğçe balkondaki çiçekleri suladı.
- ... Bahçedeki güller çok güzel açmış.
- ... Ejderha yumurtalarını başka bir ağaca taşımış.
- ... Tatilde dedemle birlikte tarla işlerin koyunları otlattık.
- ... Yıldızlar uyumam için bana ninni söyledi.
- ... Teyzemin el işi dokumaları çok güzel olmuş.
- ... Bu haftaki ödevler çok olunca yetiştiremedim.



## BENİM CANIM ÖĞRETMENİM

Bir çok şeyler öğrettin,  
Yaramazlıklarına sabrettin,  
Hatalarımı düzelttin,  
Benim canım öğretmenim.

Atatürk'ü översin,  
Onu örnek alın dersin,  
En iyi olmamızı istersin,  
Benim canım öğretmenim.

Sen bir gül gibisin,  
Bize hep gülümsersin,  
Bilirim bizi seversin,  
Benim canım öğretmenim.

Birbirinizi sevin dersin,  
Hepimizi seversin,  
Barışın güzel olduğunu söylersin,  
Benim canım öğretmenim.



|| = = = = = ||  
|| Aşağıdaki soruları metne uygun bir şekilde cevaplayınız.

|| 1. Öğretmen çocukların neyine sabretmiş?

|| .....

|| 2. Öğretmen çocuklara kimi övüyormuş ?

|| .....

|| 3. Öğretmeni hangi çiçeğe benzetiyorlar ?

|| .....

|| 4. Öğretmen neyi düzeltmiş ?

|| .....

|| 5. Güneş ne işe yarıyormuş ?

|| .....

|| 6. Öğretmen kimi örnek almalarını istemiş ?

|| .....

|| 7. Öğretmen neyi söylemiş ?

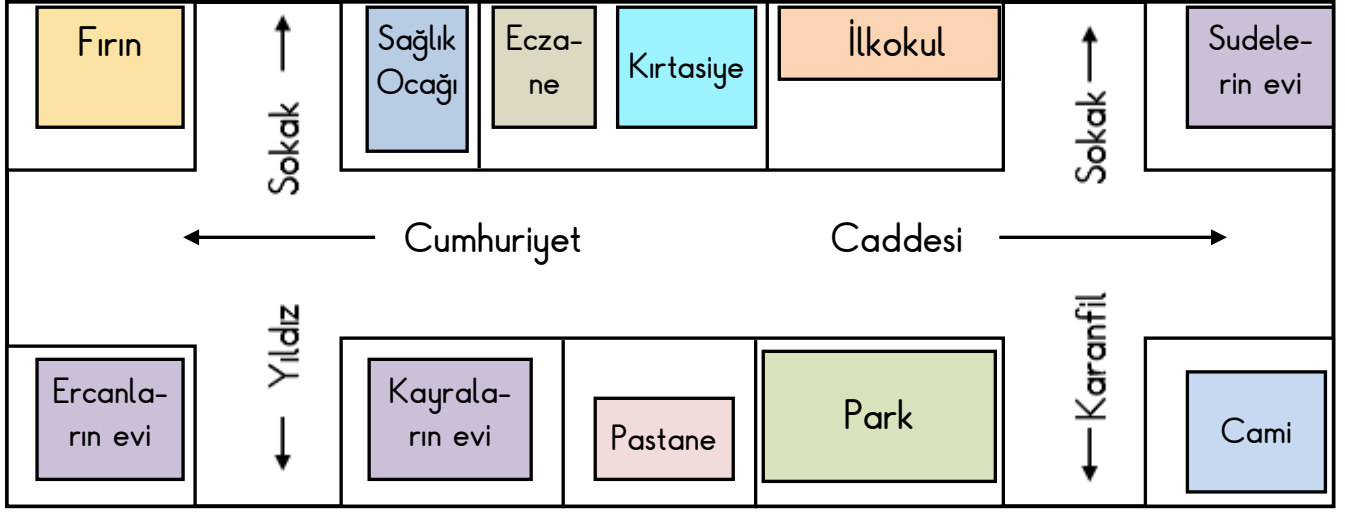
|| .....

|| = = = = = ||



## EVİMİN YERİNİ KROKİYLE GÖSTERİYORUM

☼ Aşağıda verilen krokiyi inceleyelim. Soruları krokiye göre cevaplayalım.



1. Kayraların evi hangi sakaktadır?

.....



2. Kimin evi okula daha yakın?

.....

3. İlkokul hangi caddede?

.....

4. Pastanenin solunda ne var?

.....

5. Fırının karşısında kimin evi var?

.....

6. Kimin evi ilkokula daha yakın?

.....

7. Eczanenin sağında ne var?

.....



8. Sudelerin evi hangi sokakta?

.....

9. İlkokulun tam karşısında ne var?

.....

10. Kimin evi ilkokula daha uzak?

.....

11. Sağlık ocağının tam yanında ne var?

.....

12. Eczaneye kimin evi yakın?

.....



## MADDEYİ NİTELEYEN ÖZELLİKLER

☼ Aşağıdaki maddelerden "yumuşak" olanlara yumuşak , sert olanlara "sert" yazalım.


























☼ Aşağıdaki maddelerden "esnek" olanları işaretleyelim.

tahta



paket lastiği



balon



bardak



yay



çatal



kalem



sünger



silgi



yastık



plastik top



portakal



halı



araba lastiği



kek




domates





## MADDEYİ NİTELEYEN ÖZELLİKLER

Verilen bilgiye göre aşağıdakilerden madde olanları işaretleyelim.



Yer kaplayan ,  
ağırlığı olan her  
şey maddedir.

masa

taş

korku

elektrik

defter

dolap

vazo

ışık

hava

rüya

hayvanlar

biber

ses

şeker

su

ısı

elma

çiçek

Verilen maddenin özellikleri dikkate alınarak uygun olanı işaretleyelim.

karpuz

pürüzlü  pürüzsüz

portakal

pürüzlü  pürüzsüz

ceviz

pürüzlü  pürüzsüz

yay

esnek  kırılğan

cam bardak

esnek  kırılğan

balon

esnek  kırılğan

bisiklet tekeri

pürüzlü  pürüzsüz

mermer

Pürüzlü  pürüzsüz

cam

pürüzlü  pürüzsüz

sünger

esnek  kırılğan

fayans

esnek  kırılğan

porcelain tabak

esnek  kırılğan

ceviz

pürüzlü  pürüzsüz

plastik eldiven

esnek  kırılğan

boyalı demir

pürüzlü  pürüzsüz

## VERİ TOPLAMA VE DEĞERLENDİRME

1. Etkinlik: Dayımların bahçesinde 6 tane elma, 8 tane kayısı , 2 tane armut ve 4 tane kiraz ağacı varmış.

Yukarıdaki verileri kullanarak çetele ve sıklık tablosu oluşturalım. Tablolardan faydalanarak şekil grafiği oluşturalım.

### ÇETELE TABLOSU

Tablo: .....

Ağaçlar	Sayısı

### SIKLIK TABLOSU

Tablo: .....


### GRAFİK

Grafik: .....



Grafikte her şekil 2 ağacı göstermektedir.

2. Etkinlik: Kutuda 12 tane sarı , 9 tane kırmızı, 15 tane mavi ve 6 tane yeşil boncuk var.

Yukarıdaki verileri kullanarak çetele ve sıklık tablosu oluşturalım. Tablolardan faydalanarak şekil grafiği oluşturalım.

### ÇETELE TABLOSU

Tablo: .....

Boncuklar	Sayısı

### SIKLIK TABLOSU

Tablo: .....


### GRAFİK

Grafik: .....



Grafikte her şekil 3 boncuğu göstermektedir.

## VERİ TOPLAMA VE DEĞERLENDİRME

1. Etkinlik: Sepette 12 tane elma , 4 tane muz, 8 tane ayva ve 16 tane armut var .

Yukarıdaki verileri kullanarak çetele ve sıklık tablosu oluşturalım. Tablolardan faydalanarak şekil grafiği oluşturalım.

### ÇETELE TABLOSU

Tablo: .....


### SIKLIK TABLOSU

Tablo: .....


### GRAFİK

Grafik: .....



Grafikte her şekil 4 meyveyi göstermektedir.

2. Etkinlik: Kümeste 20 tane hindi, 25 tane tavuk , 15 tane ördek ve 10 tane horoz var.

Yukarıdaki verileri kullanarak çetele ve sıklık tablosu oluşturalım. Tablolardan faydalanarak şekil grafiği oluşturalım.

### ÇETELE TABLOSU

Tablo: .....


### SIKLIK TABLOSU

Tablo: .....


### GRAFİK

Grafik: .....




Grafikte şekil 5 hayvanı göstermektedir.


## VERİ TOPLAMA VE DEĞERLENDİRME

1. Etkinlik: Aşağıdaki grafikteki bilgilere bakarak çetele ve sıklık tablosu oluşturalım.

### GRAFİK

Grafik: Sınıfta Sevilen Meyveler



Grafikte her  2 kişiyi göstermektedir.

### ÇETELE TABLOSU

Tablo: .....

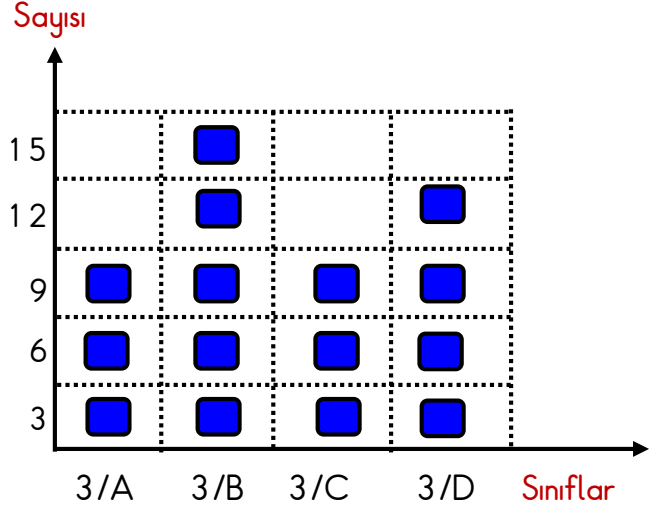

### SIKLIK TABLOSU

Tablo: .....


2. Aşağıdaki grafikteki bilgilere bakarak çetele ve sıklık tablosu oluşturalım.

### GRAFİK

Grafik: 3. Sınıflardaki Erkek Öğrenci Sayıları



Grafikte her  3 öğrenciyi göstermektedir.

### ÇETELE TABLOSU

Tablo: .....


### SIKLIK TABLOSU

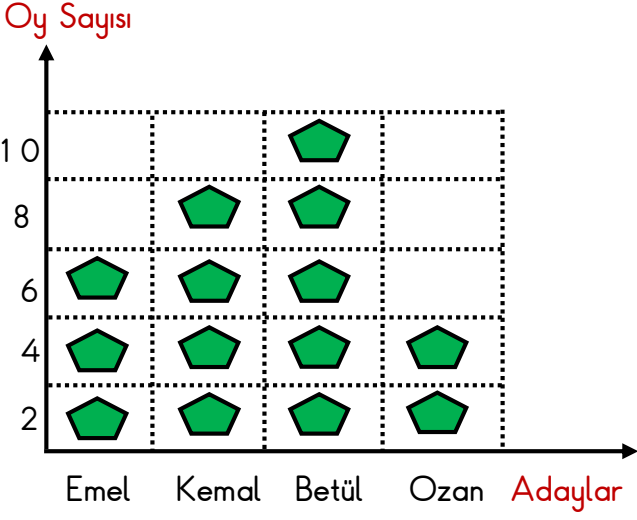
Tablo: .....




## VERİ TOPLAMA VE DEĞERLENDİRME

1. Etkinlik: Aşağıdaki grafikteki bilgilere bakarak soruları cevaplayalım.

Grafik: Başkanlık Seçimi



Grafikte her  2 oyu göstermektedir.

1. Seçime kaç aday katılmıştır?  
.....
2. En az oyu kim almıştır ? Kaç tane ?  
.....
3. Kim başkan seçilmiştir ?  
.....
4. Betül Emel'den kaç fazla oy almıştır ?  
.....
5. Sınıfta kaç öğrenci oy kullanmıştır ?  
.....
6. Erkek adaylar toplam kaç oy almıştır?  
.....
7. Betül' sonra en fazla oyu kim almıştır?  
Kaç tane ?  
.....
8. Kız adaylar toplam kaç oy almışlardır?  
.....

2. Etkinlik: Aşağıdaki çetele tablosundaki bilgilere bakarak soruları cevaplayalım.

Tablo: Sevilen Dersler

Dersler	Kişi Sayısı
Matematik	+++ III
Görsel Sanatlar	+++ +++
Türkçe	+++ I
Beden Eğitimi	+++ +++ +++ I

1. En çok sevilen ders hangisidir? Kaç kişi sevmektedir?  
.....
2. En az sevilen ders hangisidir? Kaç kişi sevmektedir?  
.....
3. Sınıfta toplam kaç öğrenci vardır ?  
.....
4. Matematik ve Türkçe dersini toplam kaç kişi sevmektedir ?  
.....
5. İkinci sırada sevilen ders hangisidir ? Kaç kişi sevmektedir ?  
.....
6. Beden eğitimi dersini sevenler Türkçe dersini sevenlerden kaç fazladır ?  
.....
7. Görsel sanatlar dersini sevenler matematik dersini sevenlerden kaç fazladır ?  
.....