

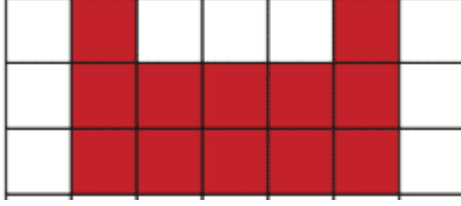


Adı Soyadı : .....


Numarası : .....

Konu: Düzlemsel bölgelerin alanını belirleme

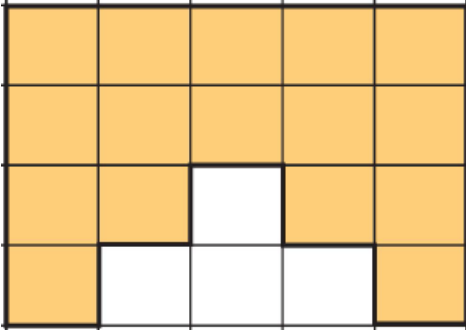
Aşağıdaki şekillerin alanlarının kaç birim kare olduğunu bulunuz.



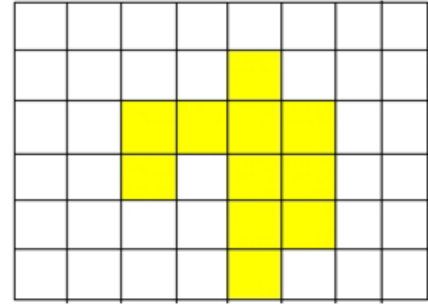
Alan : ..... birim kare



Alan : ..... birim kare

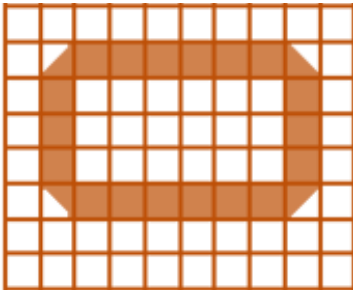


Alan : ..... birim kare



Alan : ..... birim kare

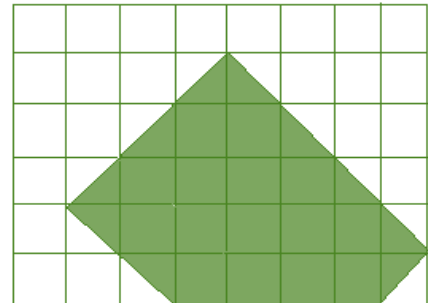
Aşağıdaki boyalı alanların toplamının kaç birim kare olduğunu bulunuz.



Birim karelerin sayısı : .....

Yarım birim karelerin sayısı : .....

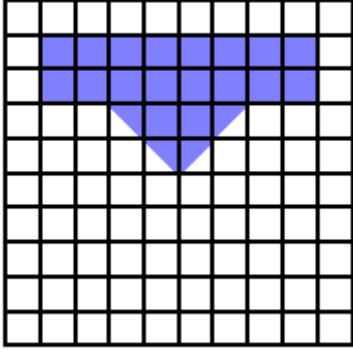
Alan : ..... birim kare



Birim karelerin sayısı : .....

Yarım birim karelerin sayısı : .....

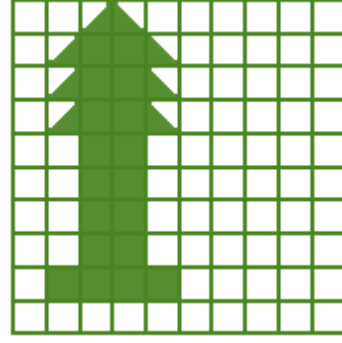
Alan : ..... birim kare



Birim karelerin sayısı :.....

Yarım birim karelerin sayısı : .....


**Alan** : ..... birim kare



Birim karelerin sayısı :.....

Yarım birim karelerin sayısı : .....

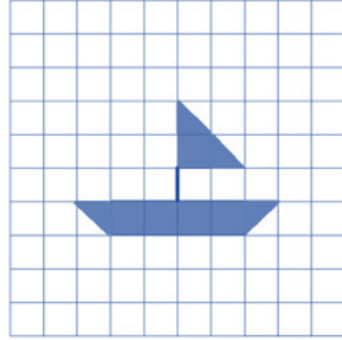
**Alan** : ..... birim kare



Birim karelerin sayısı :.....

Yarım birim karelerin sayısı : .....


**Alan** : ..... birim kare



Birim karelerin sayısı :.....

Yarım birim karelerin sayısı : .....


**Alan** : ..... birim kare



Birim karelerin sayısı :.....

Yarım birim karelerin sayısı : .....

**Alan** : ..... birim kare



Birim karelerin sayısı :.....

Yarım birim karelerin sayısı : .....

**Alan** : ..... birim kare