






VERİ TOPLAMA VE DEĞERLENDİRME

1. Etkinlik: Aşağıdaki şekil grafiğine bakarak soruları cevaplayalım.

Tablo: Çiçekçide Satılan Çiçekler

Çiçekler	Sayısı
Karanfil	
Papatya	
Gül	
Menekşe	

Grafikte her  7 çiçeği göstermektedir.

1. En çok hangi çiçek satılmış ? Kaç tane satılmıştır?

2. En az hangi çiçek satılmış ? Kaç tane satılmıştır?

3. Menekşeler güllerden kaç tane fazla satılmıştır?

4. 16 tane daha satılmış olsaydı kaç tane karanfil satılmış olurdu?

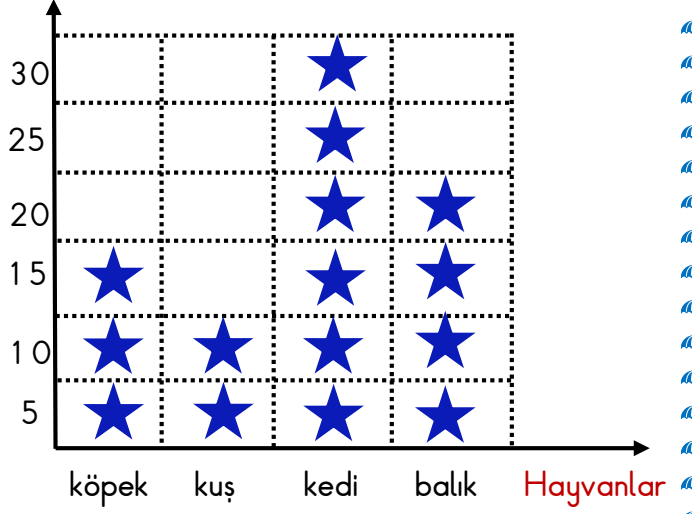
5. Papatya ve gül toplam kaç tane satılmıştır ?

6. Menekşeler 15 tane eksik satılsaydı kaç tane satılmış olurdu ?

2. Aşağıdaki şekil grafiğine bakarak soruları cevaplayalım.

Grafik: 3. Sınıflarda En Çok Sevilen Hayvanlar

Kişi Sayısı



Grafikte her  5 hayvanı göstermektedir.

1. En fazla hangi hayvan sevilmiştir ? Kaç kişi sevmektedir?

2. En az hangi hayvan sevilmiştir ? Kaç kişi sevmektedir?

3. Kedileri sevenler , köpekleri sevenlerden kaç kişi fazladır ?

4. Balık ve kuşları sevenler toplam kaç kişidir ?

5. 17 kişi daha sevmiş olsaydı köpekleri kaç kişi sevmiş olurdu ?

6. Balıkları sevenler 8 kişi eksik olsaydı kaç kişi olurdu?