

## AH GENÇLİK !

Memleketin birinde çok güçlü bir delikanlı yaşarmış. Birçok işi hiç yorulmadan yaparmış. Memleketteki herkesten daha hızlı, daha çevik, daha güçlüymüş.



Ama gel zaman git zaman delikanlı yaşlanmış. Artık az iş yapıyormuş ve yaptığı işler onu hemen yoruyormuş.

Memlekette herkes onun gücünden, hızından, çevikliğinden söz ederken, artık kimse söz etmez olmuş. Bu durum adamın çok gücüne gitmiş ve şöyle demiş:

- Ah, ah! Ne oldum dememeli ne olacağım demeli, demiş.

"Bugünlerim rahat, güzel derken yarını düşünemedim. Her şeyin değişebileceğini göremedim." diyerek çok üzülmüş.

**Not:** İlk 3 soruyu metne göre cevaplayınız.

1) Hikâyenin kahramanı **hangi özelliklere** sahipmiş?

- A) Narin, güçsüz ve zayıf
- B) Yavaş, zayıf ve kibar
- C) Çevik, güçlü ve hızlı

2) Delikanlının özellikleri **niçin** kaybolmaya başlamış?

- A) Yaşlandığı için
- B) Az çalıştığı için
- C) Hastalandığı için

3) Hikâyeden **nasıl bir ders** çıkarabiliriz?

- A) Yorulmamak için az çalışmalıyız.
- B) Zamanla her şey değişebilir, ileriye düşünerek hareket etmeliyiz.
- C) Güçlü olmak için kendimize iyi bakmalıyız.

4)

|   |   |    |    |    |
|---|---|----|----|----|
| 2 | 1 | 15 | 11 | 14 |
|---|---|----|----|----|

Yukarıdaki tabloda adı **alfabedeki harf** **sirasına** göre sıralanan varlık aşağıdakilerden hangisidir?

A)




B)





C)



5) Aşağıda görseli verilen kelimelerden hangisinin hece sayısı ve hecelerine ayrılışı **yanlıştır**?

A)   
Hece sayısı: 4  
Hecelere ayrılışı:  
O - to - mo - bil

B)   
Hece sayısı: 4  
Hecelere ayrılışı:  
He - li - kop - ter

C)   
Hece sayısı: 3  
Hecelere ayrılışı:  
T - rak - tör

6) “ Dağların arka tarafında kar var.”

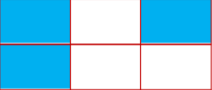
Yukarıda verilen cümlede altı çizili kelimenin **zıt anlamlısı** aşağıdakilerden hangisidir?


A) yan B) ön C) üst


7)

|        |       |       |
|--------|-------|-------|
| tutsak | sıcak | anı   |
| savaş  | acı   | akşam |

Yukarıda tabloda verilen kelimelerin **eş anlamlı olanları** boyanırsa nasıl bir şekil ortaya çıkar?

A) 

B) 

C) 

8)



“Ekin” kelimesi aşağıdaki cümlelerin hangisinde **özel isim** olarak kullanılmıştır?

- A) Ekin tarlasında porsuk gördüm.  
B) Ekin, hafta sonu bize gelecekmiş.  
C) Ekinler başak açmış mı?

9)





“ Yarı yıl tatilinde, Uludağ’a çıkıp kayak yapacağım.”















Yukarıda öğretmenin tahtaya yazdığı cümlede aşağıdaki sorulardan hangisinin cevabı **yoktur**?

- A) Ne zaman? B) Nerede?  
C) Niçin?

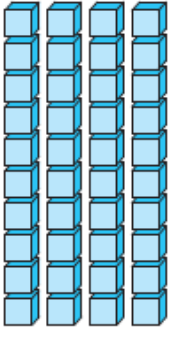
10)

|   |  |
|---|--|
|  önce        |  elimizi  |
|  yıkamalıyız |  yemekten |

Yukarıda verilen kelimelerle **anlamlı ve kurallı** bir cümle yazılırsa sıralama nasıl olmalıdır?

- A-)     B-)    
- C-)    

11)



Yandaki taban bloklarıyla modellenen doğal sayı için aşağıdaki ifadelerden hangisi yanlıştır?

- A) 4 onluk, 5 birlikten oluşur.  
B) En yakın onluğu 40'tır.  
C) Basamak değerleri toplamı 45'tir.

12)



Ali



Ela

Ali'nin tuttuğu sayıyı 3 desteye, Ela'nın tuttuğu sayıyı ise 3 düzineye tamamlamak istersek nasıl bir işlem yapmalıyız?

Ali

- A) 2 eklemeli  
B) 2 eklemeli  
C) 2 eklemeli

Ela

- A) 4 çıkarmalı  
B) 6 çıkarmalı  
C) 2 çıkarmalı

13)



Yukarıda verilen örüntünün kuralını bozan sayı kaçtır?

- A) 21      B) 25      C) 28

14)






44 kg

Efe, tartıda tartılıyor ve " Yaklaşık olarak ..... kilogramım." diyor noktalı yere aşağıdakilerden hangisi gelmelidir?

- A) 40      B) 50      C) 60

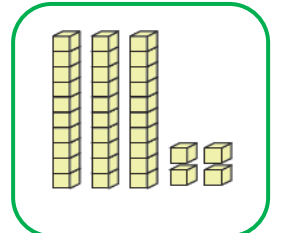
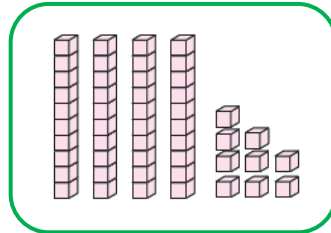
15)



Yukarıdaki toplama işleminde "  " yerine 47, "  " yerine 39 yazılırsa sonuç kaç olur?

- A) 96      B) 86      C) 76

16)



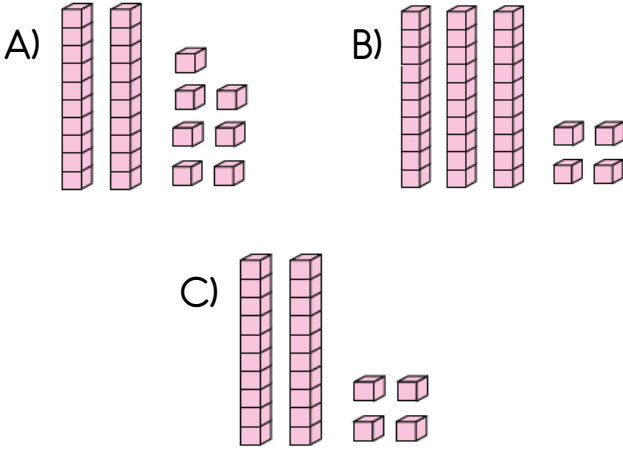
Yukarıda modellenen sayıların farkı kaçtır?

- A) 15      B) 25      C) 83

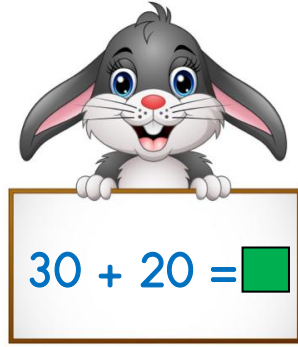
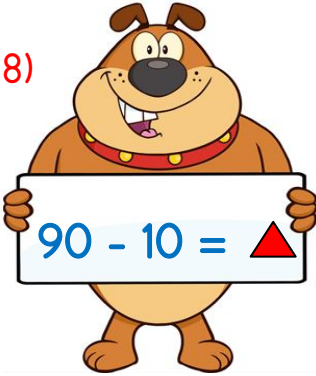
17)

$$\begin{array}{r} 52 \\ - 28 \\ \hline \end{array}$$

Yukarıda verilen çıkarma işleminin modellenmiş sonucu hangi seçenekte verilmiştir?



18)



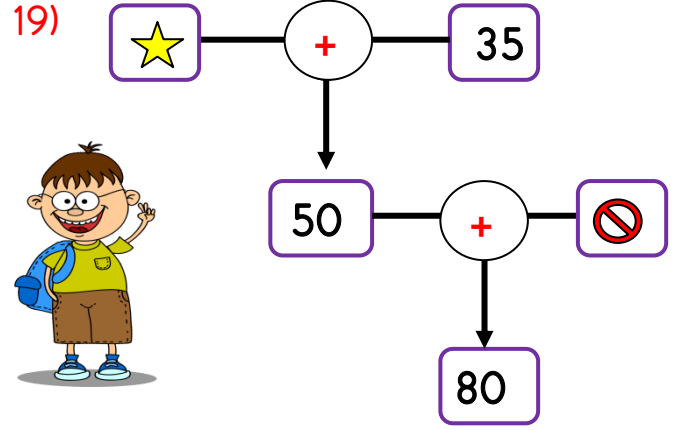
Yukarıda verilen toplama ve çıkarma işlemlerini zihinden hesaplayan bir öğrenci "▲ - ■ = ?" işleminin sonucunu kaç bulmuştur?

A) 50

B) 40

C) 30

19)



Okan, yukarıdaki toplama işlemlerinde **verilmeyen toplananları** doğru bir şekilde bulmuştur. Buna göre Okan "★ + ⊘ = ?" işleminin sonucunu kaç bulmuştur?

A) 15

B) 30

C) 45

20)



56 TL



24 TL




Nalan yukarıdaki fiyatları verilen çanta ile boya kalemlerini satın almak istiyor. **Tahmini olarak** kaç para ödeyecektir?

A) 80


B) 70

C) 60

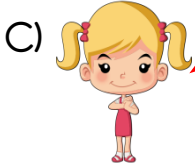
21) Aşağıdaki öğrencilerden hangisinin fiziksel özelliklerimiz ile ilgili verdiği bilgi yanlıştır?



Vücudumuzla ilgili özelliklerimiz fiziksel özelliklerimizdir.



Fiziksel özelliklerimiz hiç değişmez.



Fiziksel özelliklerimiz zamanla değişebilir.

22)

Nail, çok iyi satranç oynuyor.  
Aslı ise güzel resim çiziyor.

Yukarıdaki bilgilere göre hangisini söyleyemeyiz?

- A) Bireysel farklılıkları doğal karşılamalıyız.
- B) Her bireyin farklı özelliği vardır.
- C) Nail ile Aslı'nın yetenekleri farklı olduğu için anlaşamazlar.

23) Aşağıdaki seçeneklerde verilen hangi öğrencinin davranışı yanlıştır?

A) Ali, çantasındaki kitapları ders programına göre hazırlıyor.

B) Elif, akşam hazırladığı çantasını, sabah evden çıkmadan tekrar kontrol ediyor.

C) Yılmaz, unutmamak için kitap ve defterlerini her gün çantasında taşıyor.

24)



Yukarıdaki şemada boş bırakılan yere hangisi yazılamaz?

- A) Kibirli olma
- B) Hoşgörülü olma
- C) Yardımsever olma

25) Hangisi başarılı bir çalışma grubunun özelliği **değildir**?

- A) Birbirlerinin görüşlerine değer vermek.
- B) Birbirlerine güvenmemek
- C) Farklı fikirlere saygılı olmak

26)



Oyun oynarken aşağıdaki ifadelerden hangisini uygularsak **doğru davranmış** oluruz?

- A) Sadece bize yakın olan arkadaşımız ile oynamalıyız.
- B) Kaybedeceğimizi anladığımızda oyunun kurallarını değiştirebiliriz.
- C) Oyunlarımızı sevgi, neşe ve saygı içinde oynamalıyız.

27)



1



2



3

Ali'nin almak istediği nesnelere verilmiştir. Bunlardan hangisi ya da hangileri **istektir**?

- A) 1 ve 2
- B) Yalnız 2
- C) 1 ve 3

28)

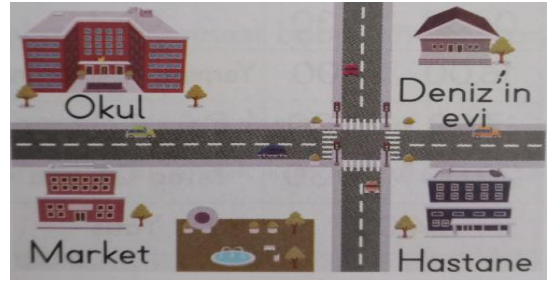


Annemin erkek kardeşine ..... , babamın kız kardeşine ..... derim.

Sare yukarıda verilen noktalı yerlere akrabalarını uygun olacak şekilde yazmak istiyor. **Sırasıyla noktalı yerlere** ne yazılmalıdır?

- A) Amca - Teyze
- B) Dayı - Hala
- C) Dayı - Teyze

29)



Yukarıda Deniz'in evinin yeri gösterilmiştir. Buna göre hangisi **doğrudur**?

- A) Deniz'in evi, okulun sağındadır.
- B) Okul, Deniz'in evinin sağındadır.
- C) Okul, marketin solundadır.

30) Aşağıdakilerden hangisi evde üzerimize düşen görev ve sorumluluklarımızdan birisi **değildir**?

- A) Küçük kardeşimizin bakımını üstlenmek
- B) Odamızı toplamak ve temiz tutmak
- C) Sofranın hazırlanmasına yardım etmek

## Cevap Anahtarı

1)C 2)A 3)B 4)A 5)C 6)B 7)A 8)B 9)C 10)B  
11)B 12)C 13)A 14)A 15)B 16)A 17)C 18)C 19)C 20)A  
21)B 22)C 23)C 24)A 25)B 26)C 27)B 28)B 29)A 30)A