



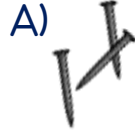
Bir zamanlar kötü huyları olan bir çocuk varmış. Babası, oğlunun davranışlarını düzeltmek için ona tahta parçası ile bir torba da çivi vermiş. Yaptığı her kötü davranış için tahtaya bir çivi çakmasını, her iyi davranış için ise tahtadan bir çivi sökmesini istemiş. İlk günlerde tahtaya sürekli çivi çakan çocuk bir süre sonra sadece çaktığı çivileri sökmeye başlamış. Çünkü artık kötü davranışları bırakmış ve hep iyi davranışlar sergiliyormuş.

Sonunda hiç çivi kalmayan tahtayı babasına göstermiş. Babası oğluna şu nasihati vermiş:

-Aferin oğlum. Ama tahta artık eskisi gibi olmayacak. İnsanlar kötü davranışlarda bulunduğu zaman karşı tarafın kalbinde aynı bu tahtadaki delikler gibi yaralar bırakır. Bu nedenle davranışlarımıza dikkat etmeliyiz.

(1-4. soruları metne göre cevaplayınız.)

1) Hangisi metinde geçen varlıklardan biri değildir?



2) Hangisi çocuğun yapması gerekenlerden biri değildir?

- A) Kötü davranışı için çivi çakmak
B) İyi davranış için çivi sökmek
C) Her davranış için çivi çakmak

3) Çocuk, bir süre sonra niçin sadece çaktığı çivileri sökmeye başlamış?

- A) Kötü davranışları bırakıp iyi davranışlar sergilediği için
B) İyi davranışları bırakıp kötü davranışlar sergilediği için
C) Kötü ve iyi bütün davranışları sergilediği için

4) Metnin türü ile ilgili verilen ifadelerden hangisi doğrudur?

- A) Metnin türü şiirdir.
B) Bilgilendirici bir metindir.
C) Hikâye edici bir metindir.

1.	öğrenci	4.	okul
2.	sınıf	5.	ders
3.	ödev	6.	öğretmen

Yukarıda verilen kelimelerle ilgili hangi ifade doğrudur?

- A) Tek heceli iki kelime vardır.
 B) 1. kelime satır sonuna sığmadığı zaman hecesinden ayrılamaz.
 C) Sözlük sırasına koyduğumuzda 2. kelime en sonda olur.

Kelime	Eş Anlamlısı	Zıt Anlamlısı
ufak	küçük	büyük
		

Yukarıdaki tabloda sembollerle belirtilen kutucuklara sırası ile hangi kelimeler yazılabilir?

- A)  uzun  kısa  ince
 B) ihtiyar yaşlı genç
 C) gece akşam sabah

7) "yağ" sözcüğü hangi seçenekte diğerlerinden farklı bir anlamda kullanılmıştır?

- A) Ekmeğime yağ sürdüm.
 B) Ne zamandır yağmur yağmıyor.
 C) Yağ satarım, bal satarım.

8)




Sabah erkenden sınıfa geldim. Sınıfta kimse yoktu. Ben de yerime oturdum. Başladım kitap okumaya.

Melisa'nın konuşmasındaki kaçınıcı cümle devrik bir cümledir?

- A) 1. B) 3. C) 4.

9) Hangi öğrenci satır sonuna sığmayan kelimeyi yanlış yazmıştır?



A) Bugün derste hızlı okuma yarışması yaptık.



B) Arkadaşım Mustafa'nın okuma hızı artmış.







C) Arda ise hecelemeden okumaya başlamış.







10) Anlamını bilmediğimiz sözcüklerin anlamlarını öğrenmek için ders materyalinin hangi bölümünden yararlanırsınız?

- A) İçindekiler
 B) Sözlük
 C) Kaynakça

11)

Sembol	Sayı	En Yakın Onluk	En Yakın Yüzlük
	327	330	400
	465	470	500
	618	620	600
	771	770	700

Yukarıdaki tabloda hangi sembollerle belirtilen sayılar en yakın onluğa ve yüzlüğe doğru şekilde yuvarlanmıştır?

- A)  ve 
 B)  ve 
 C)  ve 

12)     

Yukarıdaki sayı örüntüsü ile aynı kurala sahip olan sayı örüntüsü hangisidir?

- A) 250-260-270-280-290
 B) 320-325-315-320-310
 C) 460-465-475-480-490


13)



Çocukların tuttuğu rakamlarla yazılabilecek üç basamaklı en küçük tek sayı ile üç basamaklı en büyük çift sayı sırası ile hangi seçenekte verilmiştir?

- A) 306 - 906
 B) 309 - 960
 C) 369 - 963


14) Aşağıdaki çocuklardan hangisi toplama işleminin sonucunu yanlış bulmuştur?



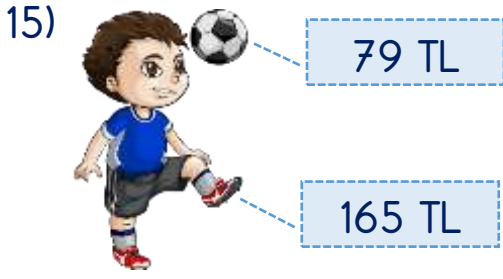
$$\begin{array}{r} 325 \\ + 77 \\ \hline 392 \end{array}$$



$$\begin{array}{r} 596 \\ + 148 \\ \hline 744 \end{array}$$



$$\begin{array}{r} 641 \\ + 279 \\ \hline 920 \end{array}$$




Miraç, aldığı ayakkabı ve futbol topu için yaklaşık olarak kaç lira ödeme yapmıştır?


- A) 230 B) 240 C) 250



16) Bir çıkarma işleminde eksilen sayı 623, çıkan sayı 468'dir. Buna göre fark hangi acil durum numarasına eşittir?



17)

+	20	30
50	70	
60		

-	70	60
90	20	
80		

Yukarıdaki işlem tablolarına göre " + 

- A) 50 B) 80 C) 110

18) $\text{Basketbol} + \text{Basketbol} + \text{Basketbol} = 300$
 $\text{Basketbol} + \text{Futbol} + \text{Futbol} = 500$
 $\text{Futbol} + \text{Tenis} + \text{Tenis} = 800$

Toplama işlemlerinde verilen her bir top bir sayıyı göstermektedir.

Buna göre 2 basketbol, 1 futbol ve 1 tenis topunun toplamı kaçtır?

- A) 700 B) 800 C) 900

19) Annesinden 195, babasından 268 lira harçlık alan Ahmet 399 liraya bisiklet almıştır. Ahmet'in geriye kaç lirası kalmıştır?

- A) 54 B) 64 C) 74




20) Grafik: Elifsu'nun Okuduğu Kitap Sayısı

Sınıflar	Kitap Sayısı
1.Sınıf	
2.Sınıf	
3.Sınıf	

Not: Her bir nesne 5 kitabı göstermektedir.

Yukarıdaki nesne grafiğine göre Elifsu'nun okuduğu kitap sayılarıyla ilgili hangi bilgi yanlıştır?

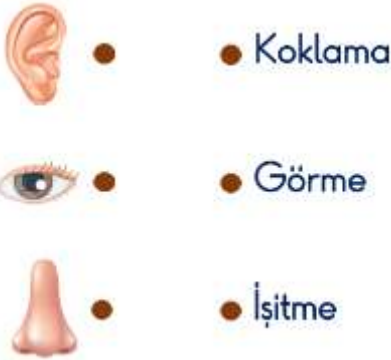
- A) En çok kitabı 2. sınıfta okumuş.
 B) 3. sınıfta 5 kitap okumuştur.
 C) Toplam 75 kitap okumuştur.

- 21)  Diğer adı atmosferdir.
 Yağmur ve fırtına gibi hava olayları bu katmanda gerçekleşir.
 Dünya'yı Güneş'in zararlı ışınlarından korur.




Yukarıda özellikleri verilen katman aşağıdakilerden hangisidir?

- A) Hava katmanı
 B) Su katmanı
 C) Kara katmanı

22)



Yukarıda verilen duyu organları ile görevleri hangi seçenekte doğru bir şekilde eşleştirilmiştir?

- A)  B)  C) 

- 23) Elisa, saksıdaki çiçeklerin solmaya başladığını görünce hemen suladı. Sulanan çiçekler de mis gibi koktu.



Metne ve görsele göre Elisa hangi duyu organlarını kullanmıştır?

- A) Göz, deri, burun
 B) Burun, deri, kulak
 C) Deri, göz, dil

24)



Görsellerdeki varlıklar sırası ile hangi hareketleri yapmaktadır?

- A) Hızlanma - dönme - yavaşlama
 B) Sallanma - dönme - yön değiştirme
 C) Dönme - sallanma - hızlanma

25) Aşağıdaki oyunlardan hangisinde oyuncular oyunu kazanmak için çekme kuvveti uygulamalıdır?

A)



B)



C)



26) (1) Çekmeceyi açıp kapatmak
(2) Elektrik süpürgesi kullanmak
(3) Testere ile odun kesmek

Yukarıdakilerden hangisinde veya hangilerinde hem itme hem de çekme kuvveti uygulanmaktadır?

- A) Sadece 1
B) 1 ve 2
C) 1, 2 ve 3

27) Hareket hâlindeki bir cisme hareket yönüne ters bir kuvvet uygulandığında hangisi görülmez?

- A) Hızlanma
B) Yavaşlama
C) Durma

28) Hareket hâlindeki cisimleri durdurmaya çalışmak bazen tehlikeli olabilir.

Buna göre aşağıdakilerden hangisinin tehlikeli bir durum olduğu söylenemez?

- A) Çalışan matkabı el ile durdurmaya çalışmak
B) Balkondan düşen saksıyı yakalamaya çalışmak
C) Yerde yuvarlanan topu tutmaya çalışmak

29) Yandaki meyvenin özellikleri ile ilgili verilen hangi ifade doğrudur?



- A) Pürüzsüzdür.
B) Renksizdir.
C) Kırılgandır.

30)



Yukarıdaki maddelerin ortak özelliği hangisidir?

- A) Esneklik
B) Pürüzsüzlük
C) Kırılganlık

- 31) () Yeni arkadaşlar ediniriz.
 () Sadece okuma yazma öğreniriz.
 () Hayata ve geleceğe hazırlanırız.
 () Yeteneklerimizi geliştirmeye katkısı yoktur.

Okulun katkıları ile ilgili verilen ifadelere doğru ise 'D', yanlış ise 'Y' nasıl yazılmalıdır?

- | | | |
|--------|--------|--------|
| A) (D) | B) (D) | C) (Y) |
| (Y) | (Y) | (D) |
| (D) | (D) | (Y) |
| (Y) | (D) | (D) |

32)



Yukarıdaki görsellerden kaç tanesi yardımlaşmaya örnektir?

- A) 2 B) 3 C) 4

- 33) Okul, hastane, otel gibi birçok kurumda dilek ve şikâyet kutuları bulunur.



Dilek ve şikâyet kutularına aşağıdakilerden hangisi atılmaz?

- A) İstek ve önerilerimiz
 B) Şikâyetlerimiz
 C) Kişisel ihtiyaçlarımız

- 34) Aşağıdaki atasözlerinden hangisi kaynakları tasarruflu kullanma ile ilgili değildir?

- A) Damlaya damlaya göl olur.
 B) Ev alma, komşu al.
 C) Sakla samanı, gelir zamanı.

35)



Annem polis olmamı istiyor, babam ise doktor. Ancak ben öğretmen olmak istiyorum.

Verdiği bilgilere göre Kerem için en uygun meslek hangisidir?

- A) Polis
 B) Doktor
 C) Öğretmen

36)

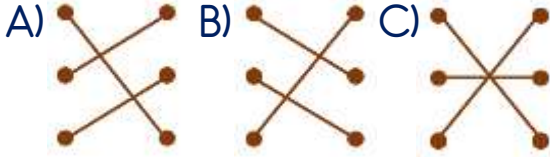


● Marangoz

● Aşçı

● Müzisyen

Yukarıdaki meslekler hangi seçenekte doğru eşleştirilmiştir?



37)

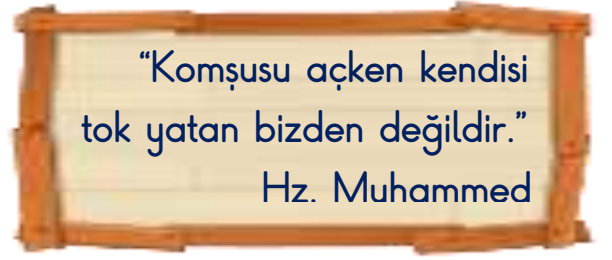


Bizim çocukluğumuzda şimdiki gibi türlü türlü oyuncaklar yoktu. Kendi oyuncığımızı kendimiz yapardık. Zamanla oyuncaklar gibi oyunlar da, kıyafetler de, teknolojik araçlar da değişti.

Yusuf amcanın bahsettiği değişimlerin en büyük nedeni hangisidir?

- A) Teknolojinin gelişmesi
- B) İnsanların oyuncak ve kıyafet yapmaya vakit bulamaması
- C) Her şeyin fiyatının ucuzlaması

38)



Yukarıdaki özlü sözde hangisinin önemi vurgulanmaktadır?

- A) İyi bir komşuya sahip olma
- B) Komşular arası yardımlaşma
- C) Komşular arası iletişim



(39 ve 40. soruyu krokiye göre cevaplayınız.)

39) Evden parka giden Arda hangi cadde veya sokağı kullanmaz?

- A) Lara Caddesi
- B) Düdenbaşı Sokak
- C) Muratpaşa Caddesi

40) Hangisi Miraç'ın evine diğerlerinden daha yakındır?

- A) Demirgöl Ortaokulu
- B) Arda'nın Evi
- C) Firinim Market

Cevap Anahtarı

1-C 2-C 3-A 4-C 5-C 6-B 7-B 8-C 9-A 10-B 11-B 12-C 13-B 14-A 15-C 16-C 17-C
18-A 19-B 20-B 21-A 22-C 23-A 24-B 25-B 26-C 27-A 28-C 29-A 30-A 31-A
32-A 33-C 34-B 35-C 36-B 37-A 38-B 39-A 40-C