

- 1)  Ablam artık babama **yük** olmak istemiyor.  
 Poşetleri taşıırken kollarım **koptu**.  
 Büyük kutu **ağır** olduğu için kaldıramadım.

Yukarıdaki cümlelerde altı çizili kelimeler mecaz veya gerçek anlamda kullanılmıştır. Mecaz anlamda kullanılmışsa baştaki kutuya "M" , gerçek anlamda kullanılmışsa "G" yazarsak aşağıdaki sonuçlardan hangisi ortaya çıkar?

- A) 

M
G
M

 B) 

M
G
G

 C) 

M
M
M

 D) 

M
M
G

- 2) Aşağıdaki cümlelerin hangisinde yazım yanlışı vardır?  
A) Arkadaşımla odamda oyun oynadık.  
B) Umut ile merdivenlerde karşılaştık.  
C) Tencere de yemek kalmamış.  
D) Orhan defterini de unutmuş.





- 3) 

hep – oldu – eğitim – boyunca hayatım – destek - bana
--

Yukarıdaki kelimelerin hepsini kullanarak kurallı bir cümle oluşturursak ilk kelime hangisi olur?

- A) destek  
B) eğitim  
C) oldu  
D) boyunca

- 4) 

	<input type="text" value="fakir"/>	Pelin
	<input type="text" value="cevap"/>	Ömer
	<input type="text" value="sıcak"/>	Eda
	<input type="text" value="pis"/>	Kağan

Öğretmen, öğrencilerden hem eş anlamlısı, hem de zıt anlamlısı olan kelimelere örnek vermelerini istemiş. Buna göre hangi çocuk yanlış örnek vermiştir?

- A) Kağan B) Eda  
C) Ömer D) Pelin

- 5) Aşağıdaki cümlelerin hangisinde **yanlış** noktalama işareti kullanılmıştır?

- A) Ayşe güzel mi güzel bir toka almış ?  
B) Bu resmi sen mi yaptın?  
C) Kahvaltıda yumurta yedin mi ?  
D) Köpeğin ağaca tırmanışını gördün mü?

- 6) 

Çiçekleri sulamak Maviş'e yem vermek Suna'nın görevidir.
---

Yukarıdaki cümlede hangi kelimedden sonra virgöl konulmalıdır?

- A) Maviş'e  
B) Suna'nın  
C) sulamak  
D) vermek

- 7) I- Dizeler halinde yazılır.  
II- Hem eğlendirici hem de öğreticidir.  
III- Kahramanlar , zaman , yer ve olay gibi unsurlar yoktur.  
IV- Ana düşünce vardır.  
Yukarıdaki bilgilerden hangileri fıkra için doğru **değildir**?

- A) I-IV                      B) I-II  
C) II-III                     D) I-III

- 8) Amcamlara gidecektik ..... akşam başka bir planları varmış.

Yukarıdaki cümlede noktalı yere aşağıdaki kelimelerden hangisi **yazılamaz**?

- A) çünkü                    B) fakat  
C) ama                        D) lakin

- 9) Polis ( ) soktakilere seslendi ( )  
( ) Çabuk bu tarafa gelin ( )

Yukarıdaki yay ayrıçla belirtilen yerlere sırayla hangi noktalama işaretleri gelmelidir?

- A) ( , ) ( : ) ( - ) ( . )  
B) ( , ) ( : ) ( - ) ( ! )  
C) ( , ) ( . ) ( - ) ( . )  
D) ( , ) ( . ) ( - ) ( ? )

- 10) Ozan , Tanerlerin kaybolan köpeği dumanı 18 ekimde parkta görmüş.

Yukarıdaki cümlede hangi kelimeler **yanlış** yazılmıştır?

- A) Tanerlerin - dumanı  
B) Tanerlerin - ekimde  
C) köpeği - ekimde  
D) dumanı - ekimde

11)  $\diamond + \odot + \odot + \odot = 130$   
 $\diamond + \odot + \odot = 100$

Yukarıda verilen işlemlere göre  $\diamond + \odot$  işleminin sonucu kaçtır?

- A) 60                      B) 40  
 C) 70                      D) 50

12) Aralarında üçer sayı olan 3 sayının toplamı 231'dir.

Yukarıdaki ifadeye göre büyük sayı kaçtır?

- A) 71                      B) 80  
 C) 74                      D) 77

13)  $4608 > \dots > 2574$

Noktalı yere gelebilecek en büyük ve en küçük sayının toplamı kaçtır ?

- A) 7182                      B) 7172  
 C) 6182                      D) 7082

14)  $( 25 \times 18 ) \times 14 = ( 18 \times 14 ) \times \square$

Yukarıdaki işleme göre  $\square \times 4$  işleminin sonucu kaçtır?

- A) 25                      B) 100  
 C) 60                      D) 90

15) Yandaki çarpmaya göre  $\triangle \times \square$  işleminin sonucu kaçtır?

$$\begin{array}{r} 387 \\ \times \triangle \square \\ \hline 2322 \\ +1548 \\ \hline 17802 \end{array}$$

- A) 20                      B) 28  
 C) 24                      D) 32

16) Her biri dört basamaklı birbirinden farklı olan 3 sayının toplamını 5678 buldum.



Ayşe'nin yaptığı toplama işleminde toplananların en büyüğü en fazla kaç olabilir?

- A) 3668                      B) 3667  
 C) 3678                      D) 3677

17) 
$$\begin{array}{r} \boxed{A} \\ - 2584 \\ \hline 3867 \end{array} \quad \begin{array}{r} 6025 \\ - \boxed{B} \\ \hline 4848 \end{array}$$

Yukarıdaki işlemlere göre A + B işleminin sonucu kaçtır?

- A) 7728                      B) 7548  
C) 7630                      D) 7628

18) 
$$4 - 8 - 11 - 22 - 25 - \square - \triangle$$

Yukarıdaki sayılar belli bir kurala göre sıralanmıştır. Buna göre  $\square + \triangle$  işleminin sonucu kaçtır?

- A) 103                      B) 100  
C) 102                      D) 104

19) 
$$\begin{array}{l} \bullet 800000 + 5000 + 600 + 70 \\ \square 40000 + 400 + 40 + 4 \end{array}$$

Yukarıda çözümlenmiş şekli verilen sayılar aşağıdakilerden hangisinde doğru verilmiştir?

- $$\begin{array}{r} \bullet \\ \hline \end{array} \quad \begin{array}{r} \square \\ \hline \end{array}$$

A)  $\begin{array}{r} 850670 \\ \hline \end{array}$                        $\begin{array}{r} 40444 \\ \hline \end{array}$   
B)  $\begin{array}{r} 805670 \\ \hline \end{array}$                        $\begin{array}{r} 44044 \\ \hline \end{array}$   
C)  $\begin{array}{r} 805670 \\ \hline \end{array}$                        $\begin{array}{r} 40444 \\ \hline \end{array}$   
D)  $\begin{array}{r} 856070 \\ \hline \end{array}$                        $\begin{array}{r} 44044 \\ \hline \end{array}$

20) Bir çıkarma işleminde eksilen 45 artırılır , çıkan 26 azaltılırsa farkta nasıl bir değişiklik olur?

- A) fark 71 artar                      B) fark 21 artar  
C) fark 71 azalır                      D) fark 21 azalır

21)

Kahramanmaraş	Şanlıurfa
Adıyaman	Gaziantep

Milli Mücadele sırasında bazı iller büyük kahramanlıklar göstermiştir. Bu nedenle TBMM o illerin isimlerini değiştirmiştir.

Buna göre yukarıdaki tabloda ismi değiştirilmeyen il boyanırsa aşağıdakilerden hangisi ortaya çıkar?

- A) 


 B) 

- C) 


 D) 


- 22) I- Sivas Kongresi yapıldı.  
II- Amasya Genelgesi yayınlandı.  
III- Ankara'da TBMM açıldı.  
IV- Erzurum Kongresi yapıldı.

Yukarıdaki olayların kronolojik olarak doğru sıralanışı aşağıdakilerden hangisidir?

- A) II - I - III - IV B) II - IV - I - III  
C) III - II - IV - I D) II - IV - III - I

- 23) Aşağıdaki savaşlardan hangisi Milli Mücadele ( Kurtuluş Savaşı) sırasında **yapılmamıştır**?

- A) Çanakkale Savaşı  
B) Sakarya Savaşı  
C) 1. İnönü Savaşı  
D) Başkomutanlık Meydan Muharebesi

- 24) Milli kültür öğelerinin sergilendiği müzelerle **etnografya müzeleri** denir.

Yukarıda bahsedilen müzeye gitmeye gidersek aşağıdakilerden hangisini **göremeyiz** ?

- A) Eski dokuma halılar  
B) Eski elbiseler  
C) Eskiden kullanılan mutfak eşyaları  
D) Eski bir oyun konsolu

- 25) Sinem, aile tarihini araştırırken ninesinin sandığından faydalanmış.

Buna göre sandıktan çıkan eşyalardan hangisi Sinem'in işine **yaramaz**?

- A) Cep telefonu  
B) Evlilik cüzdanı  
C) Dedesinin askerlik fotoğrafı  
D) Ninesinin el işlemleri

- 26)  Birçok oyunu çocuklar kendileri geliştirmiştir.  
 Teknolojinin gelişimi çocuk oyunlarını olumlu etkilemiştir.  
 Kimi çocuk oyunları zaman içinde ortadan kalkmıştır.

Yukarıdaki ifadelerden doğru olanlara "D", yanlış olanlara "Y" yazarsak hangi sonuç ortaya çıkar?

- A) 

D
Y
Y

 B) 

D
D
D

 C) 

Y
Y
D


 D) 

D
Y
D

27) Konukseverlik milli kültürümüzün önemli unsurlarından biridir.

Aşağıdaki atasözlerinden hangisi konukseverlikle ilgilidir?

- A) Dost kara günde belli olur.
- B) Misafir bereketi ile gelir.
- C) Birlikten kuvvet doğar.
- D) Komşu komşunun külüne muhtaçtır.

28)  Karşıya geçmeye çalışan tekerlekli sandalyeli bir kişiye arkadan iterek yardım ettim.

Ozan'ın bahsettiği olay daha çok aşağıdakilerden hangisiyle ilgilidir?

- A) Adalet
- B) İlgı
- C) Empati
- D) Doğruluk

29) I- Haziran 2004'te babamın Adana'ya tayini çıktı.  
II- Ağustos 2011'de üniversiteyi kazandım.  
III- Eylül 1998'de ilkokula başladım.  
IV- Eylül 2017'de askerlik görevimi yapmaya gittim.  
V- Temmuz 2015'te üniversiteyi bitirdim.  
VI- Eylül 2002'de ortaokula başladım.

Yukarıdaki olaylarda kronolojik sıralama yapıldığında 3. sırada hangisi bulunur?

- A) II
- B) IV
- C) I
- D) II

30) Ela yeni kimlik kartını 2017 yılında almış.

Yukarıdaki ifadeye göre Ela'nın kimlik kartının son geçerlilik tarihi aşağıdakilerden hangisidir?

- A) 2026
- B) 2028
- C) 2025
- D) 2027

- 31) Akciğerlerin düzgün çalışmasını engeller. Soluk alıp vermeyi güçleştirir.

Yukarıdaki ifadeler aşağıdakilerden hangisinin daha fazla etkisiyle oluşur?

- A) sigara                      B) alkol  
C) tuz                              D) yağlı yiyecekler

- 32) Yandaki resim aşağıdakilerden hangisiyle ilgilidir?



- A) Diyabet  
B) Obezite  
C) Romatizma  
D) Tansiyon

- 33) Sağlıklı beslenme için aşağıdakilerden hangisi **yanlıştır**?

- A) Aldığım ürünün son kullanma tarihine bakarım.  
B) İçinde katkı maddeleri olan ürünleri seçerim.  
C) Doğal ve taze ürünleri seçerim.  
D) Sebze ve meyveleri mevsiminde tüketirim.

- 34) Vücudumuzun ihtiyacı olan enerjinin temel kaynağı karbonhidratlardır.

Karbonhidratlardan alınan enerjinin yetmesi durumunda aşağıdakilerden hangisinden enerji sağlanır?

- A) Vitaminler                      B) Proteinler  
C) Yağlar                              D) Mineraller

- 35) Dünya güneş etrafında 4 haftalık dolanışını tamamlayınca kendi eksenini etrafında kaç kez dönmüş olur?

- A) 4                                      B) 7  
C) 21                                      D) 28

- 36) Aşağıdakilerden hangisi Dünya'nın dolanma hareketinin sonucudur?

- A) Gece ve gündüz oluşur.  
B) Mevsimler oluşur.  
C) Yönler oluşur.  
D) Geceler soğuk olur.

37)



Kayaçlar parçalanarak toprağı meydana getirir.

◇ Rüzgar      ◎ Su      □ Sıcaklık

Toprağın oluşumuna neden olan faktörler aşağıdakilerden hangisidir?

- A) ◇ ◎ □      B) ◇ ◎  
C) ◇ □      D) ◎ □

38) Yer kabuğunun hemen altında hangi katman vardır?

- A) çekirdek      B) taş küre  
C) magma      D) atmosfer

39)

Batıdan doğuya → 5x3  
Güneyden kuzeye → 4x2  
Doğudan batıya → 5x4  
Kuzeyden güneye → 4x3

Aysu Dünya'nın kendi eksenini etrafında hareket ettiği yönün karşısındaki işlemi yapacaktır.

Yukarıdaki ifadeye göre Aysu'nun yapacağı işlemin sonucu kaçtır?

- A) 20      B) 12  
C) 8      D) 15

40) I- Sebze ve meyve ile beslenmek.

II- Hayvansal besinlerle beslenmek.

III-Vücudumuzun ihtiyacı olan besinlerden yeteri kadar almak.

IV-Az yemek yemek.

Yukarıdaki ifadelerden hangisi dengeli beslenme ile ilgilidir ?

- A) II      B) IV  
C) I      D) III



## CEVAP ANAHTARI

TÜRKÇE	MATEMATİK	SOSYAL BİL.	FEN BİLİM.
1) D	11) C	21) C	31) A
2) C	12) B	22) B	32) B
3) B	13) A	23) A	33) B
4) B	14) B	24) D	34) C
5) A	15) C	25) A	35) D
6) C	16) D	26) D	36) B
7) D	17) D	27) B	37) A
8) A	18) A	28) C	38) C
9) B	19) C	29) C	39) D
10) D	20) A	30) D	40) D