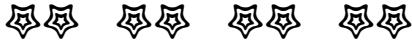




ÇARPMA İŞLEMİ



Aşağıdaki cümlelerdeki ve işlemlerdeki noktalı yerleri örnekteki gibi doldurunuz.



4 tane 2 , 8 eder.

4 kere 2 , 8 eder.

$$4 \times 2 = 8$$



... tane ... , ... eder.

... kere ... , ... eder.

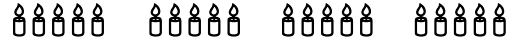
$$\dots \times \dots = \dots$$



... tane ... , ... eder.

... kere ... , ... eder.

$$\dots \times \dots = \dots$$



... tane ... , ... eder.

... kere ... , ... eder.

$$\dots \times \dots = \dots$$



... tane ... , ... eder.

... kere ... , ... eder.

$$\dots \times \dots = \dots$$



... tane ... , ... eder.

... kere ... , ... eder.

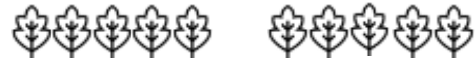
$$\dots \times \dots = \dots$$



... tane ... , ... eder.

... kere ... , ... eder.

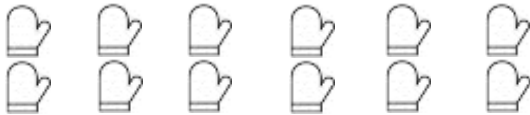
$$\dots \times \dots = \dots$$



... tane ... , ... eder.

... kere ... , ... eder.

$$\dots \times \dots = \dots$$



... tane ... , ... eder.

... kere ... , ... eder.

$$\dots \times \dots = \dots$$



... tane ... , ... eder.

... kere ... , ... eder.

$$\dots \times \dots = \dots$$