





ÇOKLUKLARIN NESNE SAYILARI 7

Aşağıda gruplarda verilen varlıkları sayalım. Varlıkların sayılarını rakamla aşağıda verilen yazma alanına yazalım



ÇOKLUKLARIN NESNE SAYILARI 8

Aşağıda gruplarda verilen varlıkları sayalım. Varlıkların sayılarını rakamla aşağıda verilen yazma alanına yazalım

