



# ONLUK BİRLİK ÇALIŞMASI 1



- Aşağıda verilen şekilleri onluk birlik olarak gruplandırarak tabloya yazınız. İskender07



Onluk	Birlik
Sayı:	



Onluk	Birlik
Sayı:	




Onluk	Birlik
Sayı:	



Onluk	Birlik
Sayı:	



Onluk	Birlik
Sayı:	



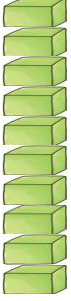
Onluk	Birlik
Sayı:	



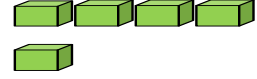
# 1.SINIF MATEMATİK ONLUK BİRLİK ÇALIŞMASI 2



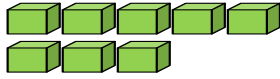
Aşağıda verilen onluk birlik modellerini tabloya uygun doldurunuz.



Onluk	Birlik
Sayı:	



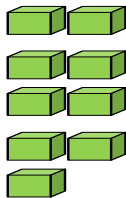
Onluk	Birlik
Sayı:	




Onluk	Birlik
Sayı:	



Onluk	Birlik
Sayı:	



Onluk	Birlik
Sayı:	



Onluk	Birlik
Sayı:	