

VAN KEDİSİ

Kedilerin en güzeli Van Kedisi, sadece Van Denizi Havzası'nda yaşayan bir kedi türüdür. En önemli özelliği genetik bir bozukluk sonucu oluşan iki farklı göz rengidir. Bir gözü mavi, bir gözü kehribar rengindedir. Tüyları kışın artarken; yazın azalır.



Tilki kuyruğuna benzeyen kabarık bir kuyruğa ve beyaz, ipeksi tüylere sahiptir. Kavun, karpuz gibi meyveleri, hatta

dondurmayı büyük bir iştahla yer. Suyu ve yüzmeyi çok sever. Hareketlidir, sevmekten ve oynamaktan hoşlanır. Sahiplerine sadıktır.

Not: İlk 3 soruyu metne göre cevaplayınız.

1) Van Kedisi sadece **nerelerde** yaşayan bir kedi türüdür?

- A) Van Dağı çevresi
- B) Van Göleti Havzası
- C) Van Denizi Havzası

2) Van Kedisi'nin **en önemli özelliği** nedir?

- A) Kabarık bir kuyruğa sahip olmaları
- B) Suyu ve yüzmeyi çok sevmesi
- C) İki farklı göz renklerinin olması

3) Aşağıdakilerden hangisi Van Kedileri'nin özelliklerinden birisi **değildir**?

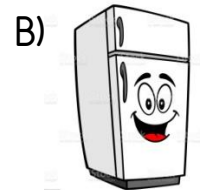
- A) Bir gözü mavi, bir gözü kehribar rengindedir.
- B) Tüyları kışın azalırken; yazın artar.
- C) Hareketlidir, sevmekten ve oynamaktan hoşlanır.

4) Hecelerimin sayısı dördür.

Hecelerimin ikisi iki harfli, ikisi üç harflidir.

İlk iki hecemden anlamlı bir sözcük oluşuyor.

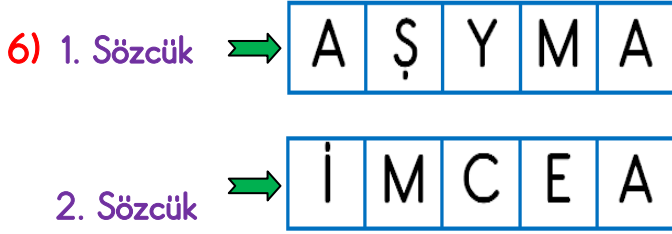
Yukarıda verilen ipuçlarını kullanarak kendisini ifade eden **sözcük** hangisidir?





Öğretmen tahtadaki isimleri alfabetik olarak sıralayacaktır. Hangi iki ismi yer değiştirirse sıralama doğru olur?

- A) Müjgan-Murat B) Murat-Mine
C) Müjgan-Mine



Efe, yukarıda karışık harflerle verilen 1. sözcüğün eş anlamlısını, 2. sözcüğün zıt anlamlısını yazmak istiyor. Hangi seçenekte cevap doğru olarak yazılmış?

- A) Hayat - Usta B) Ölüm - Usta
C) Hayat - Acemi



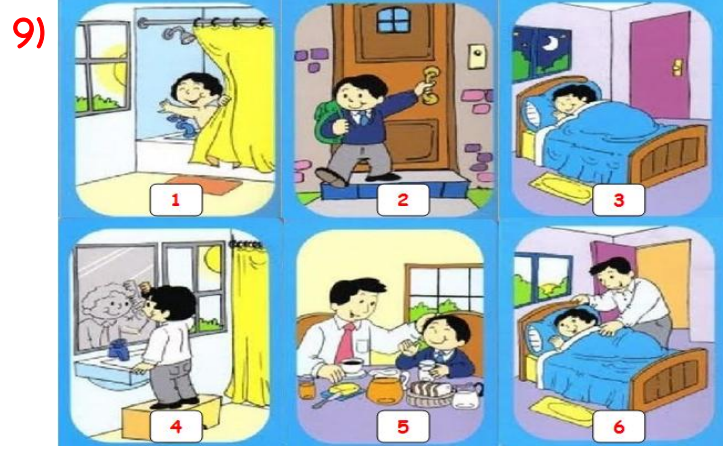
Mert yukarıda verilen cümlelerde doğru kullanılan noktalama işaretinin belirtildiği meyveyi alacaktır. Buna göre Mert hangi meyveyi alacaktır?

- A) B) C)

8) Kitap okuma, anlama gücümüzü ve konuşma yeteneğimizi kuvvetlendirir. Kitap okuyan kişinin bilgi dağarcığı ve kelime hazinesi zenginleşir. Kitap okuma genel kültürümüzü artırır.

Yukarıdaki metnin ana fikri nedir?

- A) Herkes okuma yazma öğrenmelidir.
B) Kitap okumanın birçok yararı vardır.
C) Her yaşta eğitim almalıyız.



Hangi seçenekte oyunların oluş sırası doğru olarak verilmiştir?

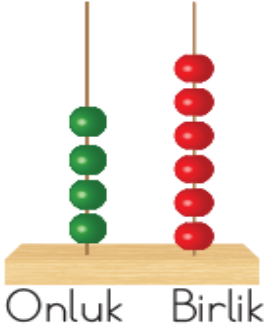
- A) 6-1-4-2-5-3 B) 3-6-1-4-5-2
C) 3-1-5-4-2-6

10) "Evimiz, büyük kestane ağaçlarının arkasında kaybolmuş gibiydi. Evimizin bahçesinden söğütler altında akan derenin şırlıtısını işitirdik. Küçük kardeşimle ben zamanımızın çoğunu bahçede geçirirdik."

Yukarıdaki altı çizili sözcük hikâyenin hangi unsuru olabilir?

- A) Olay B) Zaman C) Yer

11)



Yandaki abaküs ile modellenen doğal sayı için aşağıdaki ifadelerden hangisi yanlıştır?

- A) Sayı 6 birlik, 4 onluktan oluşur.
 B) Sayı 5 düzineden, 4 eksiktir.
 C) Sayının en yakın onluğa yuvarlanmış hali 50'dir.

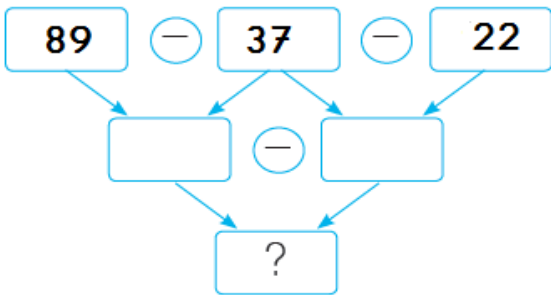
12)



İleriye doğru dörderli ritmik sayma yapmak isteyen Orkun yukarıda verilen 27 ile 43 arasında hangi sayıyı söylememiştir?

- A) 31 B) 36 C) 39

13)



Çıkarma işleminde "?" olan kutucuğa hangi sayı yazılmalıdır?

- A) 37 B) 52 C) 15

14)



Sami, yukarıdaki ürünler için satıcıya toplam **78 TL** ödedi. Buna göre Sami'nin aldığı **futbol topu** kaç liradır?

- A) 54 B) 34 C) 24

15)



Merhaba ben Oğuz, boya kalemimin sayısı 3 düzineden, 3 fazladır.



Merhaba ben Ayla, boya kalemimin sayısı 4 desteden, 5 eksiktir.


Oğuz ile Ayla'nın boya kalemlerinin **toplam sayısı** kaçtır?

- A) 74 B) 78 C) 84

16) $48 - \star = 26$
 $\triangle + 26 = 86$

Yukarıda verilen toplama ve çıkarma işlemlerine göre $\triangle - \star = ?$ işleminin sonucu kaçtır?





- A) 22 B) 38 C) 60









Mehmet, öğretmenin sorduğu **çıkarma işleminin tahmini sonucunu** yukarıdaki işlemi yaparak bulmuştur.

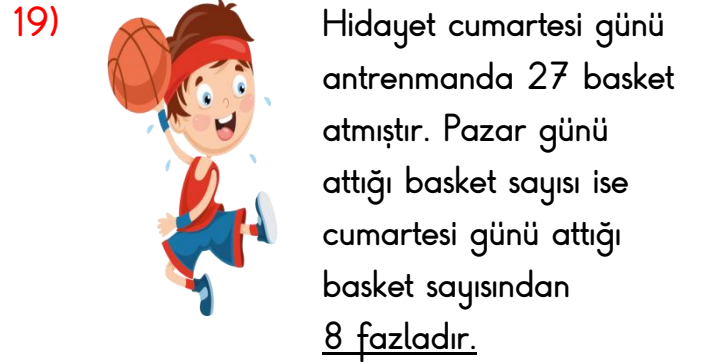
Öğretmeni, Mehmet'e hangi işlemin **tahmini sonucunu** sormuştur?

- A) $75 - 28$
 B) $74 - 25$
 C) $68 - 35$

18) $25+15$  $75-20$ 
 $75-35$  $35+15$ 




Yukarıda verilen hangi iki işlemin sonuçları birbirine **esittir?**

- A)   B)  
 C)  



Hidayet cumartesi ve pazar günü **toplam kaç basket** atmıştır?

- A) 35 B) 52 C) 62

20) $65 - 27$  $72 - 43$  $82 - 39$ 

Yukarıdaki çıkarma işlemlerinin sonuçları **büyükten küçüğe** doğru sıralanırsa **en sonda** hangisi yer alır?

- A)  B)  C) 

21)



Kumralım ve siyah gözlüyüm. Satranç oynamayı, resim yapmayı çok severim.

İlayda kendisini tanıtırken aşağıdaki özelliklerden hangisinden **söz etmemiştir**?

- A) İlgi alanları
B) Fiziksel özellikleri
C) Duygusal özellikleri

22)



Okulumuzun çevresinde bir park, bir market ve bir var.

Kemal'in sözleri hangisi ile tamamlanırsa **okul çevresi için** daha uygun olur?

- A) Tren garı
B) Kırtasiye
C) Fabrika


23) Aşağıdakilerden hangisi aile içinde yapabileceğimiz yardımlardan birisi **değildir**?

- A) Prizleri tamir etmek
B) Kahvaltılıkları sofraya taşımak
C) Çamaşır katlamaya yardım etmek

24)

Babamın kız kardeşine  derim.

Annemin erkek kardeşine  derim.

Dayımın ve amcamın eşlerine  derim.

Yukarıdaki şemaya göre aşağıdaki hangi eşleştirme **doğrudur**?

A)

	Hala
	Dayı
	Yenge

B)

	Yenge
	Hala
	Dayı

C)

	Teyze
	Dayı
	Yenge

25)



Ayakta durmaması için ona yer veririm.

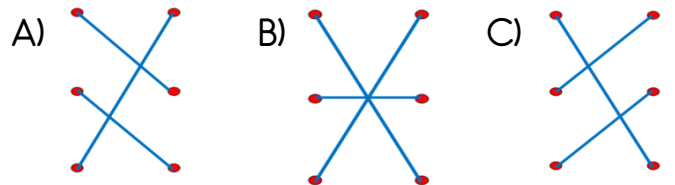


İçmesi gereken ilaçları getiririm.



Eşyalarını taşımasına yardım ederim.

Yukarıda verilen durumlarla uygun görseller hangi seçenekte **doğru eşleştirilmiştir**?



26)

- Evde hırka giyiyoruz.
- Kaloriferin önüne hiçbir eşya koymuyoruz.
- Pencere ve kapı kenarlarına sünger çektik.






Taner ve ailesi **evdeki hangi kaynağın kullanımı** ile ilgili tasarruf yapmak istiyor olabilir?

- A) Su B) Doğal gaz C) Elektrik

27) Aşağıdakilerden hangisi gün içerisinde planlı olmanın yararlarından birisi **olamaz?**

- A) İşlerimizi zamanında yetiştiririz.
B) Zamanı israf ederiz.
C) Başarımız giderek artar.

28) Aşağıdaki çocuklardan hangisi istek ve ihtiyaçları konusunda **doğru** davranmıştır?

- A)  Karnım acıktığı için çikolata aldım.
- B)  Kıyafetimin rengine uygun bir bot daha aldım.
- C)  Havalar soğuduğu için kendime kazak aldım.

29)

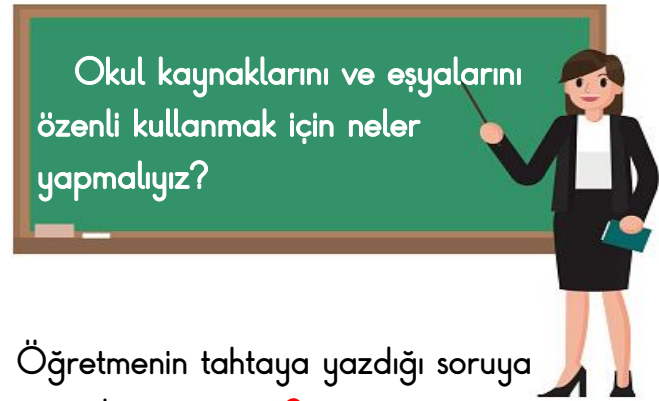


Babası, Mert'e her gün harçlık veriyor. Mert okul kantininden simit ve ayran alıyor. Kalan parasını eve dönünce kumbarasına atıyor. Mert'in kaykay alma hayali var.

Mert için hangisini **söylenebilir?**

- A) Hedefi için birikim yapan tutumlu bir çocuktur.
B) İhtiyaçlarına değil isteklerine para harcar.
C) Tasarrufu bilmiyor, savurgandır.

30)



Öğretmenin tahtaya yazdığı soruya hangi cevabı **veremeyiz?**

- A) Koridorlarda gereksiz yanan lambaları kapatmalıyız.
B) Bahçeye ağaç dikebiliriz.
C) Tuvaletlerde muslukları açık bırakmamalıyız.

Cevap Anahtarı

1)C 2)C 3)B 4)A 5)C 6)A 7)A 8)B 9)B 10)C
11)B 12)B 13)A 14)C 15)A 16)B 17)B 18)A 19)C 20)B
21)C 22)B 23)A 24)B 25)C 26)B 27)B 28)C 29)A 30)B