



Trenle İlk Yolculuk

Henüz 8 yaşındaydım. Dedem beni trenle İzmir'e görmeye götürecekti. Hayatımda hiç trene binmemiştim. O gece heyecandan sabaha kadar uyuyamadım.

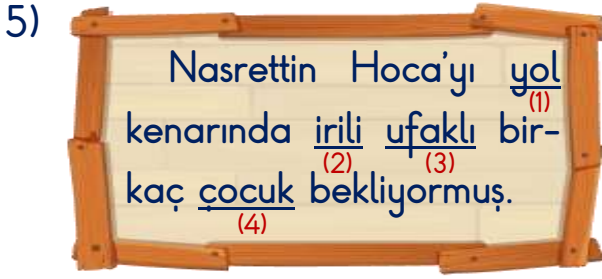
Sabah olunca erkenden tren garına gittik. Trenin gelmesine yarım saat vardı. O kadar sabırsızlanıyordum ki yarım saat geçmek bilmedi. Derken tren geldi ve trene bidik. Görevli bize oturacağımız yeri gösterdi. Trenin koltukları aynı otobüs koltukları gibiydi.

Dedem, İzmir'e varana kadar yirmi bir tane tünelin içinden geçeceğimizi söyledi. Ben de ilk tünelden itibaren tünelleri saymaya başladım. İzmir'e varana kadar tam yirmi bir tane tünelden geçtik. İzmir'de neler mi yaptık? Onu da size bir sonraki sınavda anlatabilirim.

Hasan YILDIRIM

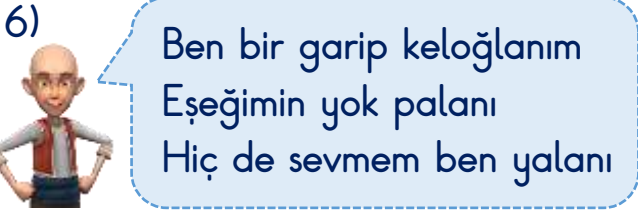
(1-4. soruları metne göre cevaplayınız.)

- 1) Çocuk dedesi ile birlikte nereye ve niçin gidecekti?
 - A) İzmit'e okumaya gidecekti.
 - B) İzmir'e görmeye gidecekti.
 - C) İstanbul'a tatile gidecekti.
- 2) Çocuk o gece heyecandan ne yapmış?
 - A) Sabaha kadar uyuyamamış.
 - B) Yolculukla ilgili hayaller kurmuş.
 - C) Dedesine sürekli sorular sormuş.
- 3) Çocuk yolculuk boyunca neleri saymış?
 - A) Durdukları tren garlarını saymış.
 - B) İçinden geçtikleri tünelleri saymış.
 - C) Gördükleri hayvanları saymış.
- 4) Metnin türü ile ilgili verilen ifadelerden hangisi yanlıştır?
 - A) Metnin türü düz yazıdır.
 - B) Hikâye edici bir metindir.
 - C) Bilgilendirici bir metindir.



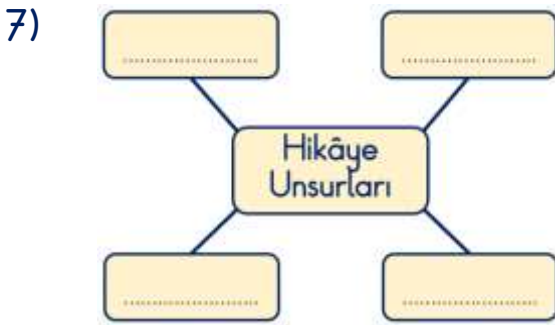
Yukarıdaki cümlede numaralandırılmış kelimelerle ilgili hangi ifade yanlıştır?

- A) 1. kelime eş seslidir.
B) 2. ve 3. kelimeler zıt anlamlıdır.
C) 1. ve 4. kelimeler eş anlamlıdır.



Keloğlan'ın şarkısındaki hangi dize kurallı bir cümleden oluşmuştur?

- A) 1. dize B) 2. dize C) 3. dize



Yukarıdaki şemada boş bırakılan kutucuklara hangisi yazılamaz?

- A) Olay B) Zaman C) Kaynak

8)

Yukarıdaki görsel ile ilgili hangi ifade yanlıştır?

- A) Ders materyalinin "İçindekiler" bölümüne aittir.
B) 1. temada "Millî Mücadele" ile ilgili metinler yer almaktadır.
C) Tema sonlarında değerlendirme çalışmaları vardır.

9) Hangi seçenekte tek başına anlamı olmayan kelimeler bir arada verilmiştir?

- A) ben, diz, kim, gül
B) ve, ile, gibi, veya, için
C) dur, bak, çık, in

10) Aşağıdaki cümlelerden hangisinde yazım yanlışı yapılan bir kelime yoktur?

- A) Bugün beden eyitimi dersi vardı.
B) Sabah eşortmanımı giydim.
C) Heyecanla okula gittim.

11)

$$12+(23+35)=23+(35+\square)$$

$$(20+16)+\square=(40+16)+20$$

$$28+(13+30)=13+(28+\square)$$

Yukarıdaki eşitliklerde verilmeyen sayıların toplamı kaçtır?

- A) 72 B) 82 C) 92

12)



Zihnimden tuttuğum sayıların toplamı 240, farkı 80'dir.

Verdiği bilgilere göre Elifin zihninden tuttuğu sayılar hangileridir?

- A) 170 - 70
B) 160 - 80
C) 140 - 60

13) Yandaki toplama işlemine göre " $\blacktriangle + \blacksquare + \bullet$ " işleminin sonucu kaçtır?

$$\begin{array}{r} 371 \\ + \bullet 6 \blacktriangle \\ \hline 6 \blacksquare 0 \end{array}$$

- A) 13 B) 15 C) 17

14) İki sayı en yakın onluğa yuvarlandığında fark 90 bulunmuştur.

Buna göre bu sayılar hangi seçenekte verilmiştir?

- A) 243 - 148
B) 329 - 215
C) 466 - 371

15)



349 TL



Yukarıdaki bisiklet kaykaydan 250 lira daha pahalıdır.

Bisiklet ve kaykayı alan Ezel, satıcıya kaç lira ödemelidir?

- A) 599 B) 848 C) 948

16) Şerife 264 sayfalık hikâye kitabından birinci gün 64, ikinci gün 72, üçüncü gün 56 sayfa okumuştur.



Hikâye kitabını dördüncü gün bitiren Şerife, o gün kaç sayfa kitap okumuştur?

- A) 72 B) 96 C) 112



(17 ve 18. Soruları grafiğe göre cevaplayınız.)

17) Grafik ile ilgili verilen bilgilerden hangisi yanlıştır?

- A) En fazla belge alan test kurdu Asya'dır.
 B) En az belge alan test kurdu Fatih'tir.
 C) Hasan hiç belge alamamıştır.

18) Grafikte Hasan için de 2 tane nesne yer alsaydı test kurtları toplam kaç belge almış olurdu?

- A) 9 B) 18 C) 27

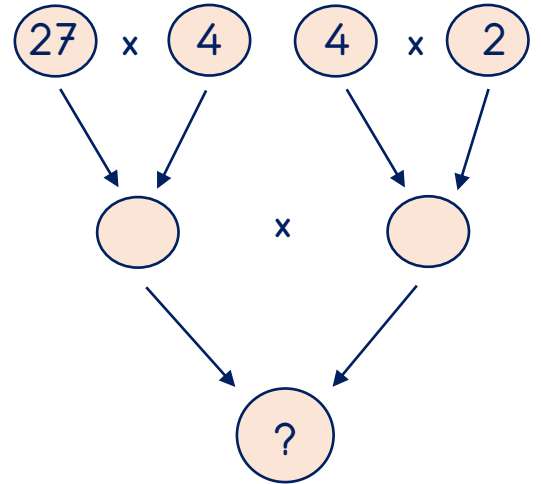
19)

x	3	5	7	9
2	▲			
4				■
6			●	
8		⬡		

Yukarıdaki tabloda yer alan şekillerle ilgili verilen işlemlerden hangisi doğrudur?

- A) ⬡ + ■ = 76
 B) ● x ▲ = 242
 C) ● - ■ = 13

20)



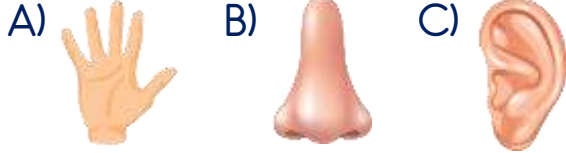
Yukarıdaki çarpma işleminde soru işareti ile belirtilen yere hangi sayı gelmelidir?

- A) 432 B) 704 C) 864

21)

Ağlasam sesimi duyar mısınız,
Mısralarımda;
Dokunabilir misiniz,
Gözyaşlarıma, ellerinizle?
O. Veli KANIK

Şair Orhan Veli Kanık, yukarıdaki mısralarında hangi duyu organı ile ilgili bir ifade kullanmamıştır?



22) Miraç o sabah annesinin hazırladığı nefis yumurta kokusu ile uyanıp mutfığa koştu. Kahvaltı masasının hazır olduğunu gördü. Eline çatal almıştı ki annesi arkadan:



- Uyanınca eller yıkandı mı?

Yukarıdaki metne göre Miraç sırası ile hangi duyu organlarını kullanmıştır?

- A) kulak - göz - burun - deri
B) burun - göz - deri - kulak
C) burun - göz - dil - deri

23) Görseldeki sporcu, çekiç atma sporunu yaparken sırası ile hangi hareketleri yapmıştır?



- A) hızlanma - dönme
B) dönme - sallanma
C) dönme - hızlanma

24)



Nihat kutuyu önce iterek, sonra çekerek okların gösterdiği yönde hareket ettirmiştir.

Yukarıda verilen görsel ve bilgiden yola çıkarak hangi sonuca ulaşamaz?

- A) Cisimleri hareket ettirmek için itme veya çekme kuvveti uygulayabiliriz.
B) Nihat iki durumda da kutuyu aynı yönde hareket ettirmiştir.
C) Nihat itme kuvveti uygularken kutuyu daha hızlı hareket ettirmiştir.

25) Görseldeki araç ok yönünde hareket etmektedir.



Buna göre aşağıdaki ifadelerden hangisi yanlıştır?

- A) Araca arkadan uygulanan itme kuvveti aracı hızlandırır.
- B) Araca önden uygulanan çekme kuvveti aracı hızlandırır.
- C) Araca önden uygulanan itme kuvveti aracı hızlandırır.

26) Aşağıdakilerden hangisi hareketli cisimlerin oluşturabileceği tehlikelere örnektir?

- A) Kar sularının eriyip barajları doldurması
- B) Sel sonucunda yerleşim yerlerinin sular altında kalması
- C) Yıl boyunca rüzgârlı olan yerlere rüzgâr türbini kurulması

27)



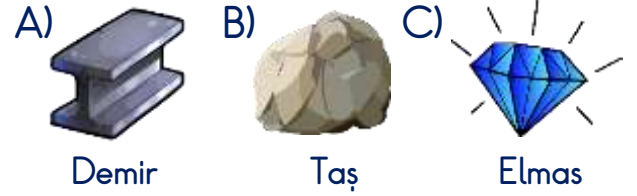
İlayda'nın okul eşyalarından hangisi hem yumuşak hem de esneklik?

- A) 
- B) 
- C) 

28)

Biliyor musunuz? Ben dünyadaki en sert maddeyim. Beni ancak benim türümden bir madde ile çizebilirsiniz.

Yukarıdaki konuşmayı hangi madde yapmıştır?



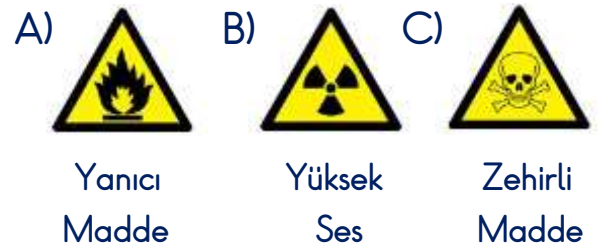
29) Bazı maddelere dokunmak, koklamak veya tatmak zarar verebilir.



Buna göre görseldeki madde için hangisi söylenemez?

- A) Tatmak tehlikelidir.
- B) Bakmak tehlikelidir.
- C) Koklamak tehlikelidir.

30) Aşağıdaki sembollerden hangisinin anlamı yanlış verilmiştir?



31)



Tuncay, Kayra, Melek ve Ceylin öğretmenin verdiği araştırma görevini grup çalışması yaparak hazırlayacaklardır.

Buna göre yukarıdaki çocukların, hangisine dikkat etmesi gerekmez?

- A) Ortak hareket etmek
- B) Sorumluluklarını yerine getirmek
- C) Bireysel başarı sağlamak

32) Okul kantininde meyve satılmasını isteyen Ayşe, bu isteğini dilekçe olarak yazmıştır.



Bu isteği için Ayşe'nin hangisini yapması doğru olmaz?

- A) Dilekçeyi okul idaresine iletmek
- B) Dilekçeyi okul servis şoförüne iletmek
- C) Dilekçeyi okulun dilek ve şikâyet kutusuna atmak

33) () Okul kaynakları sınırsızdır.

() Okulda en çok elektrik ve su kullanılır.

() Kaynakları israf etmek ülke ekonomisine katkı sağlar.

() Defter, kalem, silgi gibi araçlar da dikkatli kullanılmalıdır.

Yukarıdaki ifadelerden doğru olanların başına "D", yanlış olanların başına "Y" nasıl yazılmalıdır?

- | | | |
|--------|--------|--------|
| A) (Y) | B) (Y) | C) (D) |
| (Y) | (D) | (D) |
| (D) | (Y) | (Y) |
| (Y) | (D) | (D) |

34)

Elimdedir küreğim,
Hop hop eder yüreğim,
Ben yapmazsam eğer,
Olmaz evde ekmeğin.

Yukarıdaki bilmeceyi bize aşağıdaki mesleklerden hangisi sormuştur?



- 35) ▲ Duvar saati ■ Radyo
● Cep telefonu ◆ Tablet
◆ Bilgisayar

Yukarıdaki teknolojik araçlardan hangisi veya hangileri aile büyüklerimizin çocukluğunda yoktur?

- A) ▲ ve ■
B) ● ve ■
C) ●, ◆ ve ◆

- 36) Çiçeklerini çok seven Hayal tatile giderken çiçeklerini ne yapacağını kara kara düşünüyordu. Sonunda aklına güzel bir fikir geldi.



Komşuluk ilişkileri çok iyi olan Hayal, hangisini yapmış olabilir?

- A) Çiçeklerini de götürmüştür.
B) Çiçeklerini komşusuna emanet etmiştir.
C) Tatil için çiçeklerine kıymıştır.

- 37) “Bir yerin kuşbakışı görünümüne denir.”

Yukarıdaki cümlede boş bırakılan yere hangi sözcük gelmelidir?

- A) kroki B) harita C) yön

- 38) Aşağıdakilerden hangisi evdeki görev ve sorumluluklarımızdan biridir?

- A) Musluğu tamir etmek
B) Odamızı toparlamak
C) Çamaşır yıkamak

- 39) Aşağıdaki çocuklardan hangisi evdeki kaynakları tasarruflu kullanmaktadır?

- A)  Hava aydınlıkken lambaları açmam.
- B)  Diş fırçalarken musluktan akan suyu izlerim.
- C)  Odada ısıtıcı çalışırken camları açarım.

- 40) Atatürk'ün başarıları ile ilgili aşağıdakilerden hangisi söylenemez?



- A) Yapacağı işleri planlamıştır.
B) Yaptığı planları uygulamamıştır.
C) Yaptığı planlar başarısında etkili olmuştur.

Cevap Anahtarı

1-B 2-A 3-B 4-C 5-C 6-A 7-C 8-B 9-B 10-C 11-B 12-B 13-B 14-A 15-C 16-A 17-B
18-C 19-A 20-C 21-B 22-B 23-C 24-C 25-C 26-B 27-C 28-C 29-B 30-B 31-C
32-B 33-B 34-A 35-C 36-B 37-A 38-B 39-A 40-B