

Adı :
Soyadı :
Sınıfı :

Matematik-2

Geometrik Şekilleri Sınıflandırılım-1



Bilgi: Geometrik şekilleri köşe ve kenar sayılarına göre sınıflandırabiliriz.

Aşağıdaki geometrik şekillerin adlarını, köşe ve kenar sayılarını yazalım.





 Adı :
Köşe Sayısı :
Kenar Sayısı :

 Adı :
Köşe Sayısı :
Kenar Sayısı :

 Adı :
Köşe Sayısı :
Kenar Sayısı :

 Adı :
Köşe Sayısı :
Kenar Sayısı :

Aşağıdaki geometrik şekilleri köşe ve kenar sayılarına göre uygun kutucuklarla eşleştirelim.

3 Köşeli	4 Köşeli	Köşesiz	
			
3 Kenarlı	4 Kenarlı	Kenarsız	

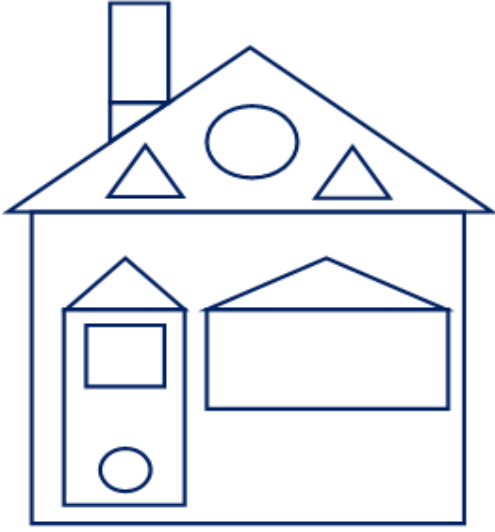
Adı :
Soyadı :
Sınıfı :

Matematik-2

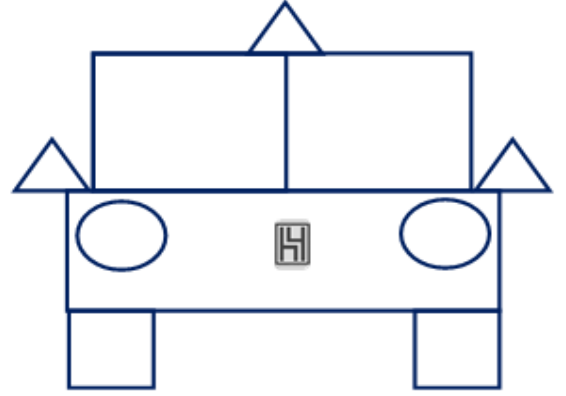
Geometrik Şekilleri Sınıflandırılım-2



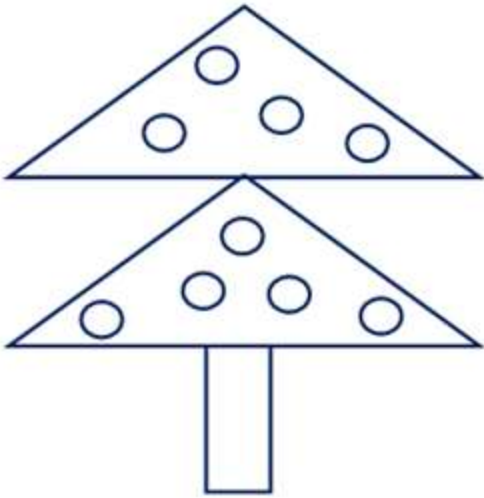
Aşağıdaki görsellerde bulunan geometrik şekil sayılarını yazalım. Geometrik şekilleri belirtilen renklere boyayalım.



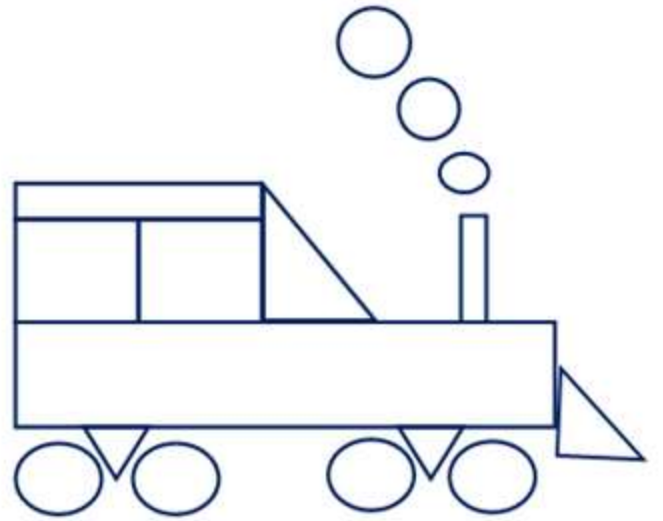
..... tane üçgen (kırmızı)
..... tane kare (mavi)
..... tane çember (sarı)
..... tane dikdörtgen (yeşil)



..... tane üçgen (kırmızı)
..... tane kare (siyah)
..... tane çember (sarı)
..... tane dikdörtgen (kırmızı)



..... tane üçgen (yeşil)
..... tane çember (kırmızı)
..... tane dikdörtgen (kahverengi)



..... tane üçgen (kırmızı)
..... tane kare (siyah)
..... tane çember (gri)
..... tane dikdörtgen (sarı)


Adı :
Soyadı :
Sınıfı :

Matematik-2

Geometrik Şekilleri Sınıflandırılım-3



Aynı renkteki noktaları birleştirerek geometrik şekiller oluşturalım. Şekilleri köşelerindeki renklere boyayalım. Boyadığımız geometrik şekillerin sayılarını yazalım.



Üçgen : Kare : Dikdörtgen : Çember :

Geometrik şekillerin köşe ve kenar sayılarını örnekteki gibi işaretleyelim.

Geometrik Şekil	Köşesiz	3 Köşeli	4 Köşeli	Kenarsız	3 Kenarlı	4 Kenarlı
			✓			✓
						
						
						