

Adı : .....  
Soyadı : .....  
Sınıfı : .....

## Matematik-2

Geometrik Yapılar Oluşturalım-1



**Bilgi:** Günlük hayatta birçok geometrik şekiller karşılarız. Evimizin çatısı üçgene, kapısı dikdörtgene, penceresi kareye, bisikletimizin tekerlekleri çembere benzer.



Günlük hayatta karşılaştığımız, geometrik şekillere benzeyen varlıkların resmini çizerek adını ve hangi geometrik şekle benzediğini örnekteki gibi yazalım.



Adı : Saat

Şekil: Çember



Adı :

Şekil:



Adı :

Şekil:



Adı :

Şekil:



Adı :

Şekil:



Adı :

Şekil:



Adı :

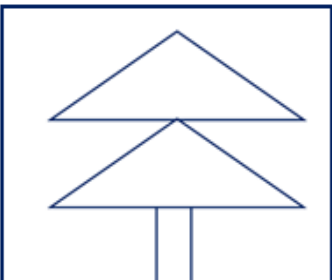
Şekil:



Adı :

Şekil:

Geometrik şekilleri kullanarak farklı yapılar oluşturalım. Oluşturduğumuz yapıdaki geometrik şekil sayısını örnekteki gibi belirtelim.



2 üçgen ve 1  
dikdörtgen



.....  
.....



.....  
.....



.....  
.....

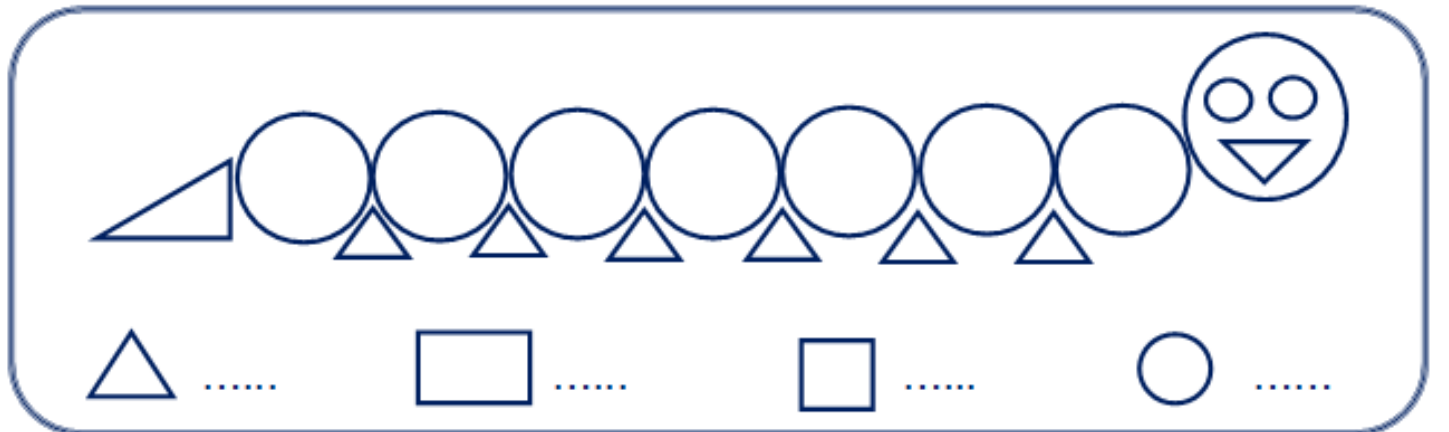
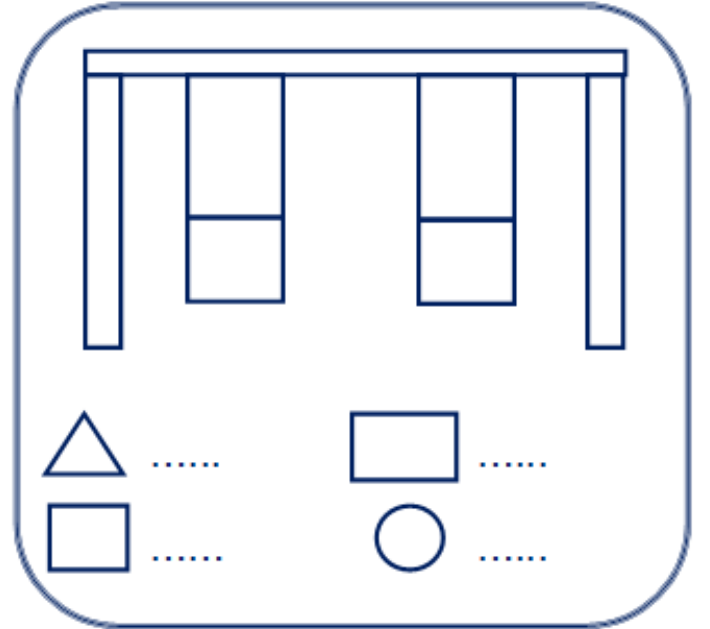
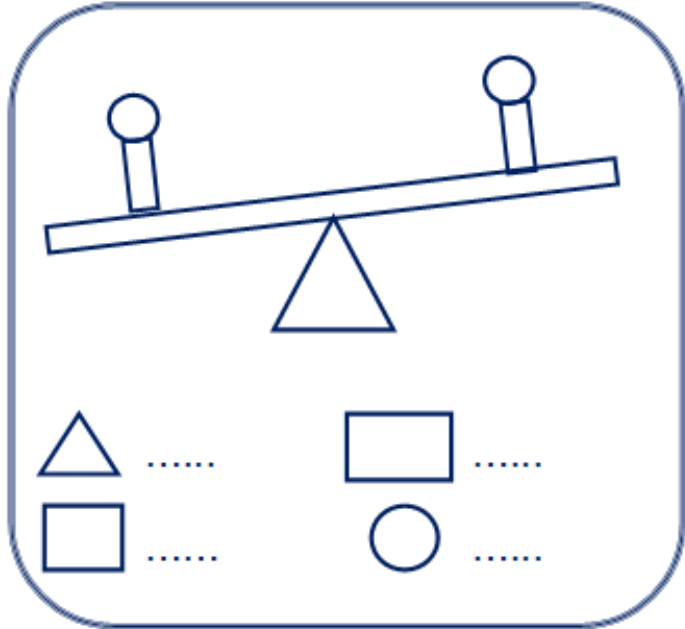
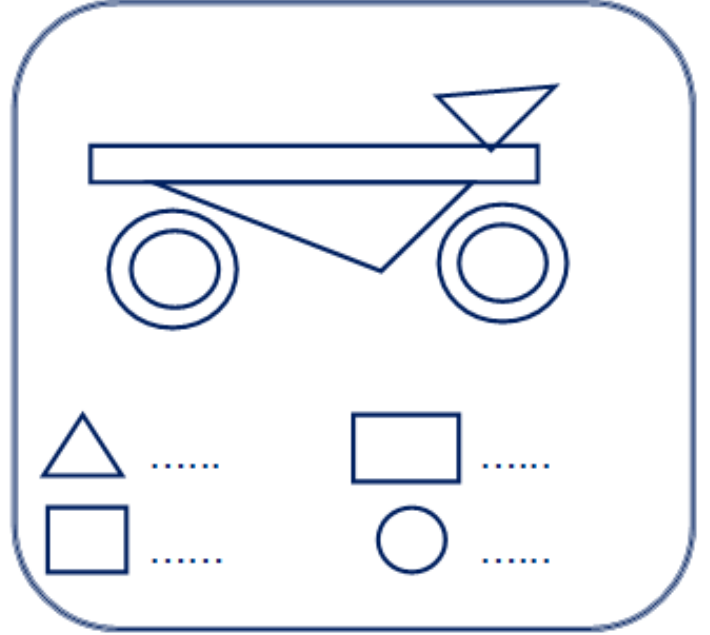
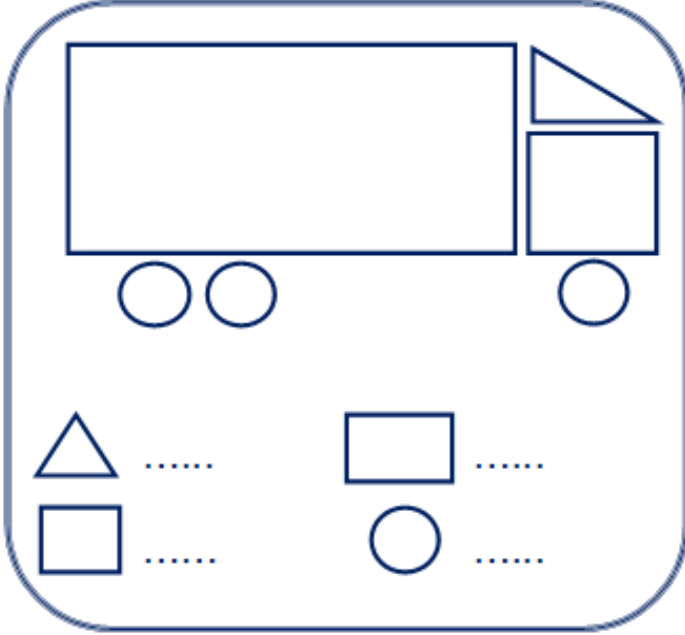
Adı : .....  
Soyadı : .....  
Sınıfı : .....

## Matematik-2

Geometrik Yapılar Oluşturalım-2



Aşağıdaki yapılarda kullanılan geometrik şekillerin sayılarını yazalım.



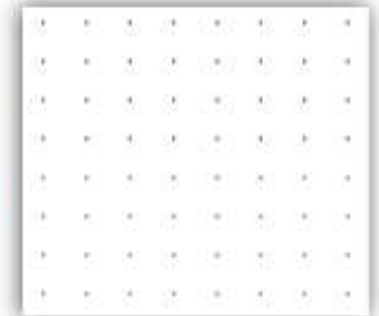
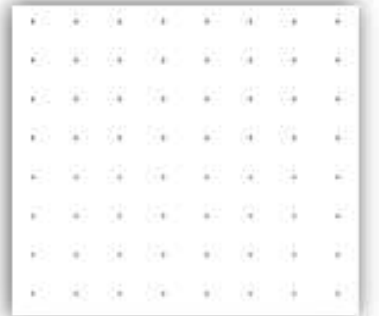



Adı : .....  
Soyadı : .....  
Sınıfı : .....

## Matematik-2

Geometrik Yapılar Oluşturalım-3



Aşağıdaki cisimlerin bir yüzünü kullanarak oluşturabileceğimiz şekilleri noktalı bölgeye çizelim.



Geometrik şekilleri kullanarak bir yapı oluşturup boyayalım.

