

GEOMETRİK ŞEKİLLER 1



1-)

Aşağıdaki verilen geometrik şekillerin adlarını yanına yazınız.

Eşit uzunlukta dört kenarı ve dört köşesi vardır.



.....

3 kenarı ve 3 köşesi olan şekildir.



.....

Köşesi ve kenarı yoktur.



.....

Birbirine eşit 2 uzun kenarı ve birbirine eşit 2 kısa kenarı vardır. 4 köşesi vardır.




.....

2-)



Aşağıdaki noktaları birleştirerek oluşan şekillerin isimlerini yazınız.



.....



.....

.....

3-)



Aşağıda verilen geometrik şekillerle isimlerini eşleştiriniz.



ÜÇGEN

KARE

ÇEMBER



DAİRE

DİKDÖRTGEN

4-)



Aşağıda verilen geometrik şekillerin hangisinin birbirine eşit 2 uzun kenarı ve 2 kısa kenarı vardır? Şeklin içini boyayarak gösteriniz.



İskender07 (İlkokul etkinlikleri)

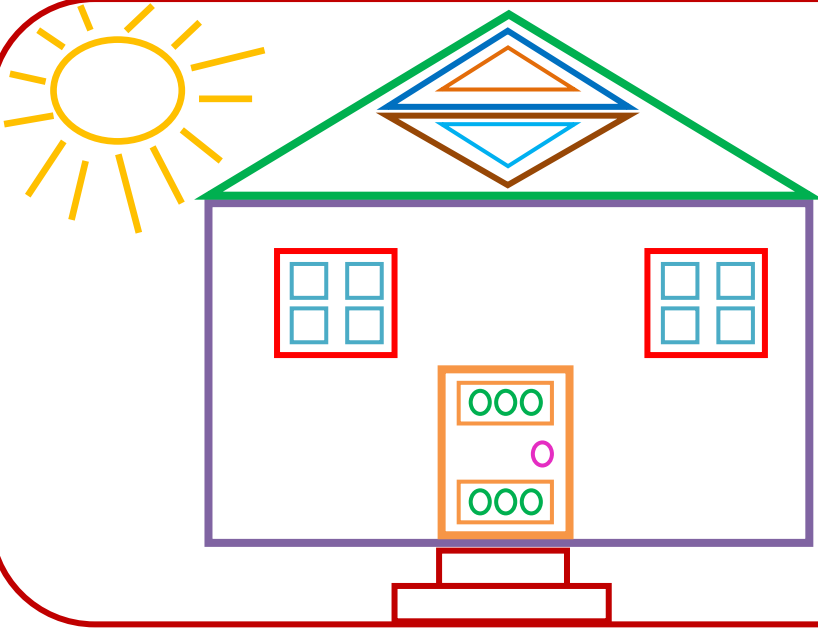
www.mebders.com

GEOMETRİK ŞEKİLLER 2

1-)



Aşağıdaki resmi inceleyerek yandaki soruları cevaplayınız.



SORULAR

1-) Yandaki resimde kaç tane çember var?

2-) Yandaki resimde kaç tane kare var?



3-) Yandaki resimde kaç tane üçgen var?

1-) Yandaki resimde kaç tane dikdörtgen var?


2-)



Aşağıda verilen şekli inceleyiniz. Hangi geometrik şekilden kaç tane var? Sayılarını şekillerin içine yazınız.



KARE



ÇEMBER



DİKDÖRTGEN



ÜÇGEN

İskender07

3-)



Aşağıda verilen kelimeleri uygun boşluklara yazınız.

üçgenin

yoktur

eşit

uzun

Karenin uzunlukta dört kenarı ve dört köşesi vardır.

Dikdörtgenin birbirine eşit 2 kenarı ve birbirine eşit 2 kısa kenarı vardır.

Çemberin köşesi ve kenarı

.....3 kenarı ve 3 köşesi olan şekildir.

İskender07 (İlkokul etkinlikleri)

www.mebders.com