



Ocak ayının ilk günlerinden biriymiş. Minik kar tanesi süzüle süzüle yeryüzüne inmiş. Bir evin bahçesine konmuş. Yanında onun gibi binlerce kar tanesi varmış. Merakla beklerken bir çocuk onunla birlikte bir avuç kar tanesini eline alıp eve girmiş. Kar tanesi ısınmaya, dolayısıyla erimeye başlamış ve çocuğun elinde tamamen suya dönüşmüş. Çocuk, elini çırparak kar tanesini salondaki sobanın üzerine bırakmış. Kar tanesi daha da ısındığını hissetmiş. Buharlaşarak odanın penceresinden çıkıp gökyüzüne yükselmeye başlamış. Gökyüzüne tekrar kavuştuğu için sevinirken yeryüzünden ayrıldığı için de hüzünlüymüş.

(İlk 5 soruyu metne göre cevaplayınız.)

1) Metindeki olay ne zaman yaşanmış?

- A) İlkbahar mevsiminde
- B) Ocak ayında
- C) Bir sabah

2) Hangisi metinde anlatılan olayın yaşandığı yerlerden biri değildir?

- A) Evin bahçesi
- B) Evin salonu
- C) Evin mutfağı

3) ▲ Minik kar tanesi

■ Çocuk

● Çocuğun annesi

Yukarıdakilerden hangileri metinde anlatılan olayın kahramanlarıdır?

A) ▲ ve ■

B) ■ ve ●

C) ▲, ■ ve ●

4) Metin ile ilgili verilen bilgilerden hangisi yanlıştır?






- A) Metnin türü düz yazıdır.
- B) Bilgilendirici bir metindir.
- C) Hikâye edici bir metindir.

5) Aşağıdakilerden hangisi metin için uygun bir başlık olamaz?







- A) Minik Kar Tanesi
- B) Kar Yağışının Etkileri
- C) Kar Tanesinin Yolculuğu

6) Hangi cümlede hayal ürünü bir ifade yer almaktadır?

- A) Arkadaşımı görünce sevindim.
B) Beraber oyun oynadık.
C) Sevinçten havalara uçtum.

- 7)  Yaz mevsimi gelmiş.
 Karınca yiyecek toplamış.
 Ağustos böceği saz çalmış.
 Karınca onu uyarmış.
 Ağustos böceği dinlememiş.

Yukarıdaki cümlelerden hangisinde veya hangilerinde hayal ürünü bir ifade yer almamaktadır?

- A) Yalnız 
B)  ve 
C) ,  ve 

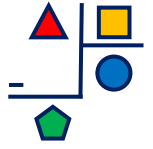
8) "Elif, Fatih ve Melek 21 şekeri eşit şekilde paylaşınca her birinin kaç şekeri olur?"



Yukarıdaki problemin çözümü için hangi işlem yapılmalıdır?

- A) Toplama işlemi
B) Çarpma işlemi
C) Bölme işlemi

9) Yandaki bölme işlemi ile ilgili verilen ifadelerden hangisi yanlıştır?



- A)  bölünendir.
B)  bölendir.
C)  kalandır.

10) Aşağıdaki bölme işlemlerinden hangisinin sonucu diğerlerinden farklıdır?

A) $42 \overline{)7}$ B) $35 \overline{)5}$ C) $28 \overline{)4}$

11) Aşağıdaki bölme işlemlerinden hangisinin kalanı sıfırdır?

A) $72 \overline{)6}$ B) $80 \overline{)6}$ C) $94 \overline{)4}$

- 12) () $24 \div 4 = 6$
() $45 \div 5 = 8$
() $65 \div 6 = 9$

Yukarıdaki bölme işlemlerinden doğru olanlara "D", yanlış olanlara "Y" nasıl yazılmalıdır?

- A) (D) B) (D) C) (Y)
(Y) (Y) (Y)
(D) (Y) (D)

13) “Çevremizdeki varlıkların renklerini ve biçimlerini duyumuzla algılarız. Bulduğumuz ortamda yetersizse varlıkları net”

Yukarıdaki paragrafta boş bırakılan yerlere sırası ile hangi kelimeler gelmelidir?

- A) görme - ışık - göremeyiz.
- B) koklama - hava - duyamayız.
- C) görme - hava - koklayamayız.

14) Aşağıdaki ifadelerden hangisi yanlıştır?

- A) Temel ışık kaynağımız güneştir.
- B) Işık cisimleri işitmemizi sağlar.
- C) Aydınlatması yetersiz ortamlarda kitap okumak gözlerimize zarar verebilir.

15) Gece vakti hangisini yaparken ışığa ihtiyaç duymayız?

- A) Ders çalışmak
- B) Şarkı söylemek
- C) Resim yapmak

16) Yandaki yapı, aşağıdaki varlıklardan hangisi için ışık yaymaktadır?



- A) 
- B) 
- C) 

17) Hangisi mevsiminde yetiştirilen ürünlerle ilgili yanlış bir ifadedir?




- A) Daha sağlıklı olurlar.
- B) Daha lezzetli olurlar.
- C) Daha pahalı olurlar.

18) Aşağıdakilerden hangisi diğerlerinden farklı bir mevsimde yetişir?

- A) 
- B) 
- C) 

19) Görsele göre Zeynep'in pazardan hangisini alması uygundur?



- A) 
- B) 
- C) 

20) Mevsiminde yediğimiz bir meyve için hangisi söylenemez?

- A) Besin değeri yüksektir.
- B) Vitamin yönünden zengindir.
- C) Kimyasal ilaç kullanılmıştır.

Cevap Kâğıdı

Öğrencinin;

Adı Soyadı: Sınıfı: No: Puanı:

| CEVAPLAR | |
|----------|-------|
| 1 | A B C |
| 2 | A B C |
| 3 | A B C |
| 4 | A B C |
| 5 | A B C |
| 6 | A B C |
| 7 | A B C |
| 8 | A B C |
| 9 | A B C |
| 10 | A B C |
| 11 | A B C |
| 12 | A B C |
| 13 | A B C |
| 14 | A B C |
| 15 | A B C |
| 16 | A B C |
| 17 | A B C |
| 18 | A B C |
| 19 | A B C |
| 20 | A B C |

Cevap Anahtarı

1-B 2-C 3-A 4-B 5-B 6-C 7-B 8-C 9-C 10-A 11-A 12-B 13-A 14-B 15-B 16-C
17-C 18-B 19-A 20-C

Sınava Ait Konu ve Kazanım Listesi

| Ders | Konu | Kazanım |
|---------------|------------------------------|---|
| Türkçe | Hayal Ürünü İfadeler | |
| Matematik | Doğal Sayılarla Bölme İşlemi | M.3.1.5.1. İki basamaklı doğal sayıları bir basamaklı doğal sayılara böler. |
| Fen Bilimleri | İşığın Görmedeki Rolü | F.3.5.1.1. Gözlemleri sonucunda görme olayının gerçekleşebilmesi için ışığın gerekli olduğu sonucunu çıkarır. |
| Hayat Bilgisi | Neyi Ne Zaman Yemeliyim | HB.3.3.3. Sağlığını korumak için mevsimlere özgü yiyeceklerle beslenir. |