




Adı Soyadı :


Numarası :

Konu: Yer, Yön ve Hareket

Aşağıdaki soruları görsellere göre yanıtlayınız.

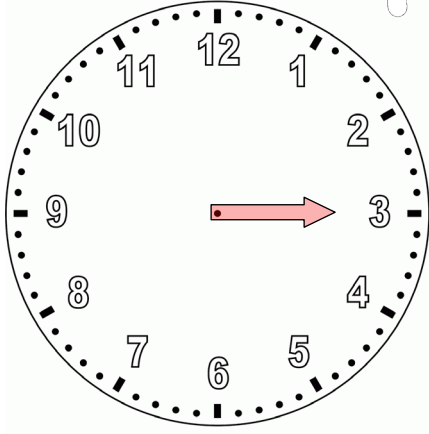


- 1- Ahmet saat yönünde 3 çeyrek tur dönerse karşısında hangi meyveyi görür?
.....
- 2- Ahmet saat yönünde çeyrek tur dönerse karşısında hangi meyveyi görür?
.....
- 3- Ahmet saat yönünün tersine çeyrek tur dönerse karşısında hangi meyveyi görür?
.....
- 4- Ahmet saat yönünün tersine yarım tur dönerse karşısında hangi meyveyi görür?
.....



- 1- Murat saat yönünde çeyrek tur dönerse karşısında hangi hayvanı görür?
.....
- 2- Murat saat yönünde 3 çeyrek tur dönerse karşısında hangi hayvanı görür?
.....
- 3- Murat saat yönünün tersine çeyrek tur dönerse karşısında hangi hayvanı görür?
.....
- 4- Murat saat yönünün tersine yarım tur dönerse karşısında hangi hayvanı görür?
.....

Aşağıdaki soruları görsellere göre yanıtlayınız.



1-Yelkovan saat yönünde çeyrek tur dönerse yelkovanın yönü hangi sayıyı gösterir?

.....

2-Yelkovan saat yönünde yarım tur dönerse yelkovanın yönü hangi sayıyı gösterir?

.....

3- Yelkovan saat yönünde 3 çeyrek tur dönerse yelkovanın yönü hangi sayıyı gösterir?

.....

4- Yelkovan saat yönünde tam tur dönerse yelkovanın yönü hangi sayıyı gösterir?

.....

1-Yelkovan saat yönünde çeyrek tur dönerse yelkovanın yönü hangi geometrik cismi gösterir?

.....

2-Yelkovan saat yönünde yarım tur dönerse yelkovanın yönü hangi geometrik cismi gösterir?

.....

3- Yelkovan saat yönünde 3 çeyrek tur dönerse yelkovanın yönü hangi geometrik cismi gösterir?

.....

4- Yelkovan saat yönünde tam tur dönerse yelkovanın yönü hangi geometrik cismi gösterir?

.....

