



Adı Soyadı :

Numarası :

Konu: Yer, Yön ve Hareket

Aşağıda verilen saatleri yönergeye göre örnekteki gibi ilerletelim.



Saat yönünde tam bir dönüş yapalım.



Saat yönünde yarım bir dönüş yapalım.



Saat yönünde 1 çeyrek dönüş yapalım.



Saat yönünde yarım bir dönüş yapalım.


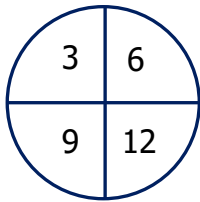


Saat yönünde 2 çeyrek dönüş yapalım.

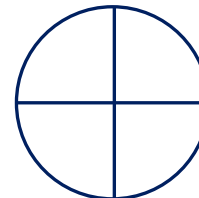
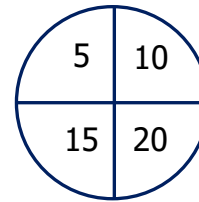


Saat yönünde tam bir dönüş yapalım.


Aşağıdaki sayı çemberini saat yönünde yarım bir dönüş yaparsak içindeki sayılar nereye gelir?



Aşağıdaki sayı çemberini saat yönünde 3 çeyrek dönüş yaparsak içindeki sayılar nereye gelir?



Aşağıda verilen görseli inceleyiniz. Yandaki yönergeye göre soruları yanıtlayınız.



1) Mert, saat yönünde yarım bir dönüş yaparsa hangi meyveyi görür?

.....

2) Mert, saat yönünde tam bir dönüş yaparsa hangi meyveyi görür?

.....

3) Mert, saat yönünde 1 çeyrek dönüş yaparsa hangi meyveyi görür?

.....

4) Mert, saat yönünde 3 çeyrek dönüş yaparsa hangi meyveyi görür?

.....

Aşağıdaki görselle ilgili verilen ifadelerden doğru olanı işaretleyiniz.




Aşağıdan yukarıya doğru hareket

Sağdan sola doğru hareket

Yukarıdan aşağıya doğru hareket

Soldan sağa doğru hareket

Aşağıdaki görselle ilgili verilen ifadelerden yanlış olanı işaretleyiniz



Emre'nin solunda Yusuf var.

Yusuf'un sol elinin altında mavi küp var.

Emre'nin sağında Ceren var.

Ceren'in solunda top var.