




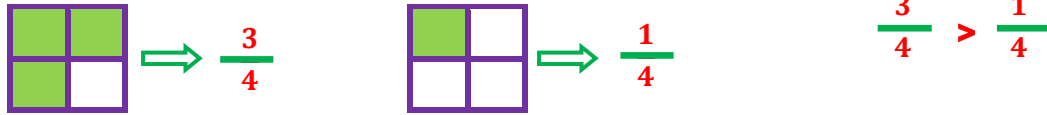
KESİRLERİ KARŞILAŞTIRMA VE SIRALAMA 1




Birim kesirleri karşılaştırırken veya sıralarken paydaya bakılır. Paydası küçük olan kesir değerlerinden daha büyüktür.



Paydaları eşit kesirler karşılaştırılırken kesirlerin paydalarına bakılır. Payı büyük olan kesir, değerlerinden daha büyüktür.



Bileşik kesirler ve tam sayılı kesirler, her zaman basit kesirlerden büyüktür.



- Aşağıda verilen noktalı yerlere "<", ">" veya "=" sembollerinden uygun olanı yazarak birim kesirleri karşılaştırınız.

$$\frac{1}{7} \dots \frac{1}{4}$$

$$\frac{1}{3} \dots \frac{1}{8}$$

$$\frac{1}{12} \dots \frac{1}{15}$$

$$\frac{1}{6} \dots \frac{1}{9}$$

$$\frac{1}{14} \dots \frac{1}{14}$$

$$\frac{1}{16} \dots \frac{1}{6}$$

$$\frac{1}{25} \dots \frac{1}{21}$$

$$\frac{1}{19} \dots \frac{1}{15}$$

$$\frac{1}{11} \dots \frac{1}{14}$$

$$\frac{1}{5} \dots \frac{1}{5}$$

- Aşağıda verilen noktalı yerlere "<", ">" veya "=" sembollerinden uygun olanı yazarak birim kesirleri karşılaştırınız.

$$\frac{5}{9} \dots \frac{3}{9}$$

$$\frac{3}{6} \dots \frac{5}{6}$$

$$\frac{8}{4} \dots \frac{3}{4}$$

$$\frac{3}{7} \dots \frac{10}{7}$$

$$1 \frac{2}{9} \dots \frac{5}{9}$$

$$\frac{8}{12} \dots 1 \frac{3}{12}$$

$$\frac{6}{11} \dots \frac{6}{11}$$

$$\frac{9}{8} \dots \frac{5}{8}$$

$$2 \frac{3}{6} \dots \frac{5}{6}$$

$$\frac{7}{15} \dots \frac{7}{15}$$



KESİRLERİ KARŞILAŞTIRMA VE SIRALAMA 2



- Aşağıda verilen kesirleri büyükten küçüğe doğru sıralayınız.

$$\frac{1}{7} \quad \frac{1}{3} \quad \frac{1}{5} \Rightarrow _ > _ > _$$

$$\frac{1}{6} \quad \frac{1}{9} \quad \frac{1}{2} \Rightarrow _ > _ > _$$

$$\frac{4}{8} \quad \frac{2}{8} \quad \frac{7}{8} \Rightarrow _ > _ > _$$

$$\frac{3}{8} \quad \frac{2}{8} \quad \frac{7}{8} \Rightarrow _ > _ > _$$

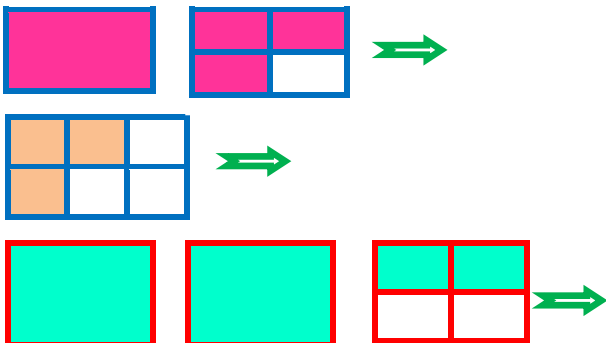
$$1\frac{3}{6} \quad \frac{5}{6} \quad 2\frac{7}{3} \Rightarrow _ > _ > _$$

$$\frac{3}{6} \quad 2\frac{8}{9} \quad 3\frac{1}{5} \Rightarrow _ > _ > _$$

$$1\frac{4}{6} \quad 1\frac{2}{6} \quad 1\frac{5}{6} \Rightarrow _ > _ > _$$

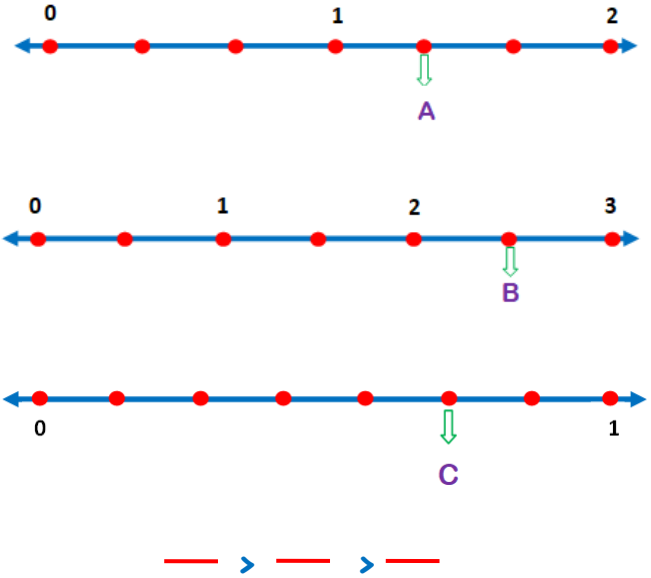
İskender07

- Aşağıdaki model ile verilen kesirleri küçükten büyüğe doğru sıralayınız.



$_ < _ < _$
İskender07 (İlkokul etkinlikleri)

- Aşağıda sayı doğrusunda verilen A, B, C harflerini büyükten küçüğe doğru sıralayınız. sıralayınız.



- Aşağıda verilen kesirleri küçükten büyüğe doğru sıralayınız.

$$\frac{1}{9} \quad \frac{1}{2} \quad \frac{1}{6} \Rightarrow _ < _ < _$$

$$\frac{1}{3} \quad \frac{1}{8} \quad \frac{1}{7} \Rightarrow _ < _ < _$$

$$\frac{4}{7} \quad \frac{2}{7} \quad \frac{6}{7} \Rightarrow _ < _ < _$$

$$\frac{9}{15} \quad \frac{14}{15} \quad \frac{10}{15} \Rightarrow _ < _ < _$$

$$1\frac{5}{8} \quad \frac{7}{8} \quad 1\frac{6}{8} \Rightarrow _ < _ < _$$

$$2\frac{6}{12} \quad \frac{11}{12} \quad 2\frac{5}{12} \Rightarrow _ < _ < _$$