

## KARTOPU

Kar iki gün aradan sonra tekrar yağmaya başladı. Bugün okul çıkışı bazı arkadaşlar bütün uyarılara rağmen gene sokakta kartopu oyununa daldılar. Bir adam:



– Yapmayın yaramazlar! Kartopları gözünüze gelebilir, diye bağıyordu.

Ancak, oyuna o kadar dalmışlardı ki; kimsenin aldıracağı yoktu. Tam o sırada karşı kaldırımında bir çığlık sesi yükseldi. Şapkası başından düşen yaşlı bir adam, sendeleyerek elini yüzüne kapattı. Yanındaki çocuk:

– Yardım edin! Kartopu adamın gözüne geldi; gözlüğü kırıldı, diye bağırdı. Yetişkin insanlar o yana doğru koştu. Kartopu oynayan çocuklar kaçarak olay yerinden uzaklaştılar.

**Not:** İlk 3 soruyu metne göre cevaplayınız.

1) Çocuklar **nerede** kartopu oynuyorlardı?

- A) Okulda
- B) Sokakta
- C) Parkta

2) Şapkası başından düşen yaşlı adam elini **niçin** yüzüne kapattı?

- A) Karda kayarak düştüğü için
- B) Şapkası yere düştüğü için
- C) Kartopunun gözüne gelerek gözlüğünü kırdığı için

3) Kartopu oynayan çocuklar olay yerinden **nasıl** uzaklaştılar?

- A) Kaçarak
- B) Koşarak
- C) Korkarak

4)



Balonların üzerinde yazan kelimelerin **hem eş hem de zıt anlamlısı** olanlar patlatılacaktır. Kaç tane balonun patlatılması gerekir?

- A) 2
- B) 3
- C) 4

Özel İsim	Cins İsim
★ Akdeniz	▲ İlkbahar
■ Murat	♥ Sarıkız
⚡ Öğretmen	➔ Okul

Yukarıdaki tabloda hangi sembollere ait kelimeler yer değiştirirse yapılan **yanlış düzeltilmiş** olur?

- A) ★ ve ♥ B) ▲ ve ⚡  
C) ♥ ve ⚡

6)



Vaay ( ) ne kadar güzel bir havuç ( ) Hemen onu yemeliyim ( )

Tavşanın cümlesinde ( ) olan yerlere **sırasıyla** hangi noktalama işareti gelmelidir?

- A) (!) (.) (?) B) (,) (!) (.)  
C) (,) (!) (?)

7) Aşağıdaki cümlelerin hangisinde yazım yanlışı **yoktur**?

- A) Hafta sonu traş olmaya gideceğim.  
B) Karnabahar yemeğini çok seviyorum.  
C) İkinci tenefüste beslenme yaptık.

8)



Yukarıdaki kelimelerle anamlı ve kurallı bir cümle oluşturmak istersek **sıralama** nasıl olmalıdır?

- A) 3-2-4-5-1 B) 3-2-1-4-5  
C) 2-4-5-3-1

9)



"Dikkatsiz sürücü kaza yaptı çünkü ....."

Yukarıdaki cümle hangi neden ifadesi ile tamamlanırsa cümle anlamlı **olmaz**?

- A) kırmızı ışıktaydı.  
B) arabayı çok hızlı kullanıyordu.  
C) trafik kurallarına uymuyordu.

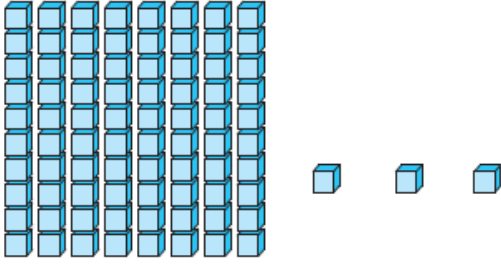
10) Aşağıdaki öğrencilerden hangisinin söylediği ifade **doğrudur**?

A) Şiirlerin her dizesi küçük harfle başlar.

B) Adreslerdeki her kelimenin ilk harfi büyük yazılır.

C) Kitap,gazete,dergi adlarının ilk harfi küçük yazılır.

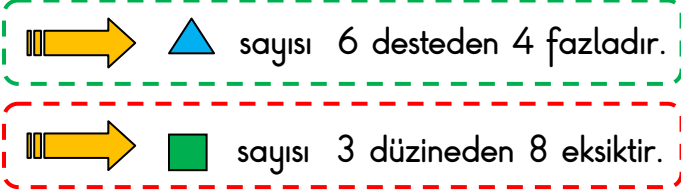
11)



Modelle gösterilen sayının birler basamağındaki rakamı **5 artırarak**, onlar basamağındaki rakamı ise **3 eksilterek** yeni bir sayı oluşturuluyor. Buna göre yeni sayı için aşağıdaki ifadelerden hangisi **yanlıştır**?

- A) Onlar basamağının basamak değeri 50'dir.  
 B) 5 onluk, 8 birlikten oluşur.  
 C) En yakın onluğu 50'dir.

12) ▲ ve ■ iki basamaklı sayılardır.



Buna göre  $\triangle - \blacksquare = ?$  işleminin sonucu kaçtır?

- A) 26      B) 36      C) 46

13)

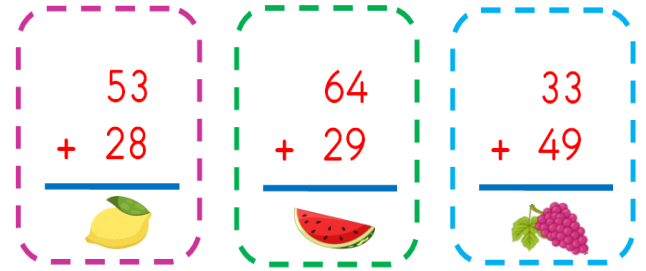
$$\text{🍏} + 27 = 39$$

$$\text{🍓} - 18 = 47$$

Yukarıda verilen işlemlere göre 🍏 ve 🍓 yerine yazılabilecek sayıların **toplamı** kaçtır?

- A) 41      B) 87      C) 77

14)



Yukarıdaki toplama işlemlerinin sonuçları **büyükten küçüğe** doğru sıralanırsa **en sonda** hangisi yer alır?

- A) 🍇      B) 🍋      C) 🍉

15)



Melih

Onluğa yuvarlandığında 70 sayısını veren **en büyük sayı** kadar cevizim var.



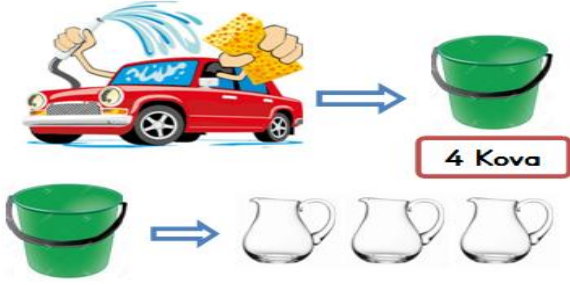
Hatice

Onluğa yuvarlandığında 30 sayısını veren **en küçük sayı** kadar cevizim var.

Melih'in cevizlerinin sayısı, Hatice'nin cevizlerinden **kaç fazladır**?

- A) 49      B) 40      C) 31

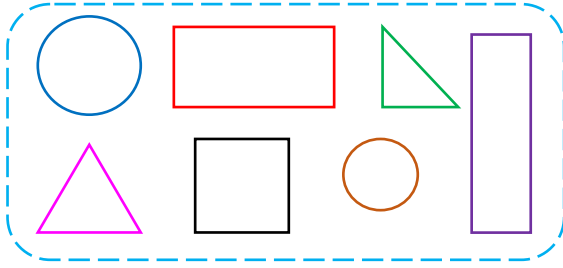
16)



Mehmet arabasını yıkamak için 4 kova su kullanıyor. 1 kova, 3 sürahi su ile dolmaktadır. Buna göre Mehmet arabayı yıkarken kaç sürahi su kullanmıştır?

- A) 15      B) 12      C) 9

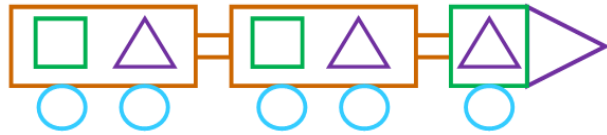
17)



Yukarıdaki şekillerle ilgili verilen ifadelerden hangisi yanlıştır?

- A) 4 kenarı olan 4 şekil vardır.  
B) 3 kenarlı 2 şekil vardır.  
C) Kenarı olmayan şekilden 2 tane vardır.

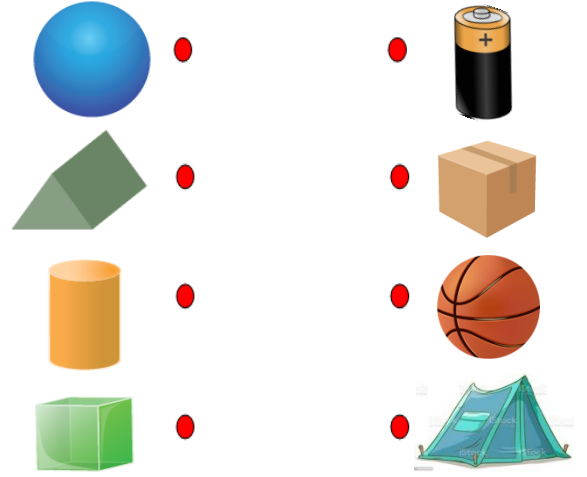
18)



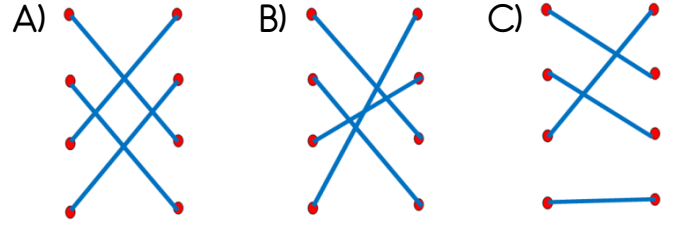
Yukarıdaki geometrik şekillerin oluşturduğu yapıdaki üçgen, çember, kare ve dikdörtgen sayısı hangi seçenekte doğru verilmiştir?

- A) 3 üçgen, 5 çember, 3 kare, 2 dikdörtgen  
B) 4 üçgen, 5 çember, 3 kare, 2 dikdörtgen  
C) 4 üçgen, 5 çember, 3 kare, 4 dikdörtgen

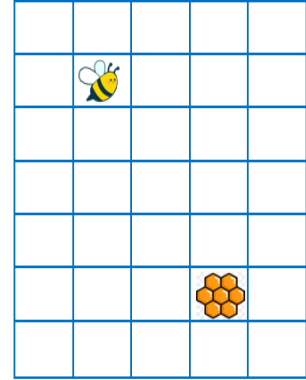
19)



Yukarıdaki geometrik cisimler ile bu cisimlere benzeyen nesnelere eşleştirilirse nasıl bir görüntü oluşur?



20)



Yukarıdaki kareli alanda, arı bulunduğu yerden hangi yönde hareket ederse bal peteğine ulaşabilir?

- A) 2 birim sağa, 4 birim yukarıya doğru  
B) 4 birim aşağıya, 2 birim sola doğru  
C) 2 birim sağa, 4 birim aşağıya doğru

21)





Mert, futbol oynamayı çok sevdiği halde uzun boylu olduğu için öğretmeni tarafından basketbola yönlendirilmiş ve çok başarılı olmuştur.


Yukarıda verilen bilgilere göre aşağıdaki ifadelerden hangisi **yanlıştır**?

- A) Mert'in ilgi alanları arasında futbol vardır.  
B) Mert'in fiziksel özelliklerinden biri de uzun boylu olmasıdır.  
C) Mert, basketboldan hoşlanmamaktadır.

22)

Arkadaşımın kalbini kırdığımda ondan .....

Arkadaşım bana boya kalemini verdiğinde ona .....

Arkadaşım yarışmayı kazandığında onu .....

Yukarıdaki cümlelerde sembollerle belirtilen yerlere gelmesi gereken ifade **hangi seçenekte verilmiştir**?



- A) teşekkür ederim      özür dilerim      rica ederim  
B) özür dilerim      teşekkür ederim      tebrik ederim  
C) özür dilerim      başarılar dilerim      özür dilerim

23) Kaynakları ve eşyaları özenli kullanan birisi aşağıdakilerden hangisini **yapmaz**?

- A) Soğuk havalarda pencereleri açar.  
B) Gereksiz yanan lambaları kapatır.  
C) Ellerini yıkarken suyu fazla açmaz.

24)

1 Kazanan tarafı tebrik etmeliyiz.

2 Sonucu kabullenmeliyiz.

3 Karşı tarafı üzmeden sevinmeliyiz.

4 Yenilen tarafın duygularını anlamalıyız.

Oyunu **kaybettiğimiz zaman** kaç numaralı davranışları sergilemeliyiz?

- A) 1 ve 2      B) 1 ve 3      C) 3 ve 4

25)

Önce isteklerimizi sonra ihtiyaçlarımızı karşılamalıyız.

Önce ihtiyaçlarımızı sonra isteklerimizi karşılamalıyız.

Bizim için ihtiyaç olan bir eşya başkası için istek olabilir.

Doğru ifadelerin başına "D" harfi, yanlış ifadelerin başına "Y" harfi yazılırsa **nasıl bir görüntü** oluşur?

- A) 

D
D
Y

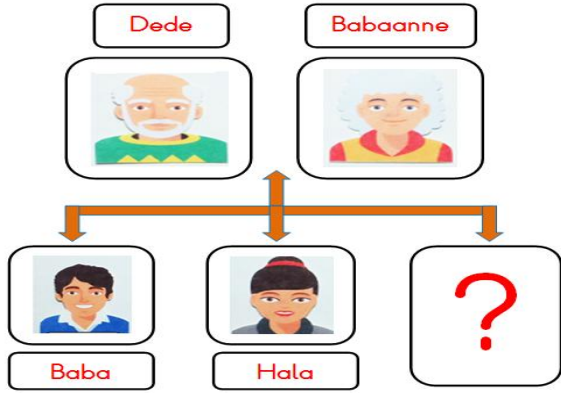
      B) 

Y
D
D

      C) 

Y
D
Y

26)



Soy ağacında " ? " olan bölüme hangisi gelmelidir?

- A) Amca B) Dayı C) Teyze

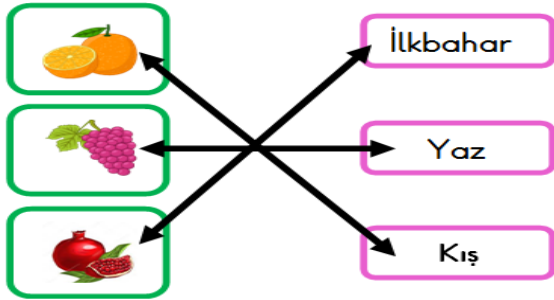
27)

- ★ Dengeli ve düzenli beslenmek
- ♥ Uyku ve dinlenmeye yeterince vakit ayırmak
- 😊 Kişisel bakıma ve temizliğe özen göstermek

Hangileri sağlıklı bir yaşam için uygulanmalıdır?

- A) ★ ♥ B) ♥ 😊 C) ★ ♥ 😊

28)



Yukarıdaki meyvelerden hangisi mevsimine göre yanlış eşleştirilmiştir?

- A) Portakal B) Nar C) Üzüm

29)

- ➔ Ağızımızda yemek varken konuşmamalıyız.
- ➔ Yemeğe herkesle birlikte oturmalıyız.
- ➔ Yemekte peçete kullanmalıyız.
- ➔ .....

Yukarıda verilen noktalı yere yemek yerken görgü kurallarına uygun olacak şekilde aşağıdakilerden hangisi yazılmalıdır?

- A) Yemek yerken ağızımızı açık tutmalıyız.  
B) Yemek yerken büyük lokmalar alarak hemen bitirmeliyiz.  
C) Başkasının tabağından yemek yememeliyiz.

30)



Doktor tarafından verilen tedavileri uygular, hastayı denetler.



Dişlerimizi ve ağızımızı kontrol ederek gerekli ise tedavi eder.



Hastaları muayene ve tedavi eder.

Sağlık çalışanlarının, meslekleri ve görevleri eşleştirilirse nasıl bir görüntü oluşur?

- A) B) C)

## Cevap Anahtarı

1)B 2)C 3)A 4)C 5)C 6)B 7)B 8)A 9)C 10)B  
11)C 12)B 13)C 14)B 15)A 16)B 17)A 18)C 19)A 20)C  
21)C 22)B 23)A 24)A 25)B 26)A 27)C 28)B 29)C 30)A