






Eğlenceli tren yolculuğunun ardından İzmir'deki Basmane Garı'nda trenden indik. Garın yakınında bulunan dünyaca ünlü İzmir Enternasyonal Fuarı o günlerde açıldı. Dedemle güne fuar alanını gezerek başladık. Önce hayvanat bahçesini gezdik. İzmirliilerin çok sevdiği Bahadır isimli fili gördük. Daha sonra aynaların olduğu bir bölüme girdik. Bu bölümdeki aynaların özelliği her birinin karşısındaki kişiyi farklı farklı göstermesiydi. Aynalardan birinde kendimi şişman, birinde zayıf, birinde uzun, bir diğesinde kısa olarak gördüm.

Fuar alanı gezimizi tamamladıktan sonra o gün hayatımda bir ilki daha yaşadım. Hayatımdaki ilk vapur yolculuğunu Konak'tan Karşıyaka'ya giderek yaptım.

Hasan YILDIRIM

(1-4. soruları metne göre cevaplayınız.)

- Aşağıdakilerden hangisi dünyaca ünlüymüş?
 - Basmane Garı
 - İzmir Enternasyonal Fuarı
 - Bahadır isimli fil
- Hangisi aynaların olduğu bölümdeki aynalardan birinin özelliği değildir?
 - Şişman göstermesi
 - Kısa göstermesi
 - Sinirli göstermesi
- Metnin görselinde bulunan varlıklardan hangisi ile ilgili metinde bir anlatım yoktur?
 - 
 - 
 - 
- Metnin türü ile ilgili verilen ifadelerden hangisi yanlıştır?
 - Metnin türü düz yazıdır.
 - Hikâye edici bir metindir.
 - Başlığı 'İzmir'in Kurtuluşu' olabilir.

- 5) ▲ Ayşe bugün bize geldi.
● Kardeşim Kerem şimdi uyudu.
■ Babam bana para verdi.
◆ Saat üçte film başlıyor.




Yukarıdaki cümlelerden hangisinde veya hangilerinde kelimeler alfabetik sıraya göre sıralanmıştır?

- A) Yalnız ▲
B) ● ve ■
C) ▲, ■ ve ◆

6)

zaman	büyük	barış
yaşlı	ev	yıl

Tabloda yer alan sözcüklerden hem eş, hem de zıt anlamı olanlar kırmızıya boyandığında tablonun görüntüsü nasıl olur?

- A) 
B) 
C) 

7) 'Yüz' sözcüğü hangi cümlede sayı anlamında kullanılmıştır?

- A) Denizde yüzmeye gitmişim.
B) Yüzüme kum taneleri gelmiş.
C) Yıkarken lavaboya yüzlerce kum tanesi döküldü.

8) "Şubat tatilinde ailece Ankara'ya gideceğiz."

Yukarıdaki cümle ile ilgili verilen ifadelerden hangisi yanlıştır?

- A) Tek başına anlamı olmayan bir kelime vardır.
B) Anlamli ve kurallı bir cümledir.
C) Büyük harf ve noktalama işaretleri doğru kullanılmıştır.

9) 🐦 Haber bildiren bir cümledir.
🐦 Hayal unsuru ifade vardır.

Yukarıda özellikleri verilen cümle hangisidir?

- A) Minik serçe ağaca kondu.
B) Açlıktan karnı zil çalıyordu.
C) Keşke yiyeceğim olsa, dedi.

10) (1) Annem beni doktora götürdü.
(2) Eczaneden ilaçlarımı aldık.
(3) Geçen gün çok hastaydım.
(4) Ayağa kalkacak hâlim yoktu.

Yukarıdaki cümleler oluş sırasına göre sıralandığında en başta ve en sonda hangileri yer alır?

- A) 3-2 B) 4-1 C) 3-4

- 11) Arda, aldığı bisiklet ve kaskın fiyatlarını en yakın onluğa yuvarlayarak toplamış ve sonucu 720 bulmuştur.



Buna göre bisiklet ve kaskın fiyatları hangileri olamaz?



- A) 599 124
B) 645 68
C) 674 36

12)

+	20	30
50	▲	■
60		

-	40	50
80	●	◆
70		

Yukarıdaki işlem tablolarına göre aşağıdaki işlemlerden hangisinin sonucu doğrudur?

- A) ▲ + ● = 120
B) ■ + ◆ = 110
C) ▲ - ◆ = 100

13)



Hasan Öğretmen, yukarıdaki rakamları kullanarak öğrencilerinden bazı sayılar elde etmelerini istemiş.

Kerem: Üç basamaklı rakamları farklı en küçük sayı buldum.

İlayda: İki basamaklı rakamları farklı en büyük çift sayı buldum.

Ceylin: Üç basamaklı rakamları farklı en büyük çift sayı buldum.

Buna göre Kerem, İlayda ve Ceylin'in buldukları sayıların toplamı kaçtır?

- A) 573 B) 671 C) 875

- 14) Ahmet amca bahçesindeki ağaçlardan 245 kg elma ve 328 kg armut toplamış, topladığı meyvelerden 450 kg satış yapmıştır.



Meyvelerin 47 kilogramı da çürüdüğüne göre Ahmet amcanın geriye kaç kg meyvesi kalmıştır?

- A) 76 B) 123 C) 218



(15 ve 16. Soruları grafiğe göre cevaplayınız.)

15) Hangisi grafikte yer alan verilerle oluşturulan çetele veya sıklık tablolarından biri değildir?

A)

Öğrenci	Sayfa Sayısı
Ömer	
Esil	
Musa	
Bejna	

B)

Öğrenci	Sayfa Sayısı
Ömer	5
Esil	15
Musa	10
Bejna	5

C)

Öğrenci	Sayfa Sayısı
Ömer	
Esil	
Musa	
Bejna	

16) Tabloda yer alan bilgilerden hangi sonuca ulaşamaz?

- A) Esil, Bejna'dan daha hızlı kitap okumaktadır.
 B) Ömer bir haftada 35 sayfa kitap okumaktadır.
 C) Musa 80 sayfalık bir kitabı 8 günde bitirir.

17) Hasan'a babası her gün 7 TL harçlık vermektedir.

Babası Hasan'a her gün 1 TL daha fazla para verirse Hasan'ın 3 haftada kaç lirası olur?

- A) 126 B) 147 C) 168

18) Bir çarpma işleminde çarpanlardan biri diğerinin 12 katına eşittir.

Verilen bilgiye göre bu çarpma işlemi aşağıdakilerden hangisidir?

- A) $6 \times 64 = 384$
 B) $7 \times 77 = 539$
 C) $8 \times 96 = 768$

19) Aşağıdaki bölme işlemlerinden hangisinin kalanı sıfırdır?

- A) $49 \overline{) 4}$ B) $65 \overline{) 5}$ C) $81 \overline{) 6}$




20) Bir bölme işleminde bölen 9, bölüm 12 ve kalan 5'tir.

Buna göre bu bölme işleminde bölünen sayı kaçtır?

- A) 69 B) 113 C) 168

- 21) ▲ Televizyonu 3-4 metre uzak-
tan seyretmeliyiz.
● Soğuktan korumak için bere ta-
kabiliriz.
■ Yiyecek artıklarına karşı düzenli
olarak temizlemeliyiz.

Duyu organlarımızın sağlığı ile il-
gili yukarıda verilen ifadelerden
hangisi doğru eşleştirilmiştir?

- A) ▲ ⇒ 
B) ● ⇒ 
C) ■ ⇒ 

- 22) Duran cisimleri hareket ettiremeyiz.
- | | |
|---|----------------------------|
| D | Y |
| Salıncak sal-
lanma hare-
keti yapar. | Uçak kalkışta
hızlanır. |
| D | Y |
| 1 | 2 |
| D | Y |
| 3 | 4 |

Yukarıdaki bulmacada 1. soruya
yanlış, 2. soruya doğru cevap ve-
ren Ezel hangi çıkışa ulaşır?

- A) 1 B) 2 C) 3

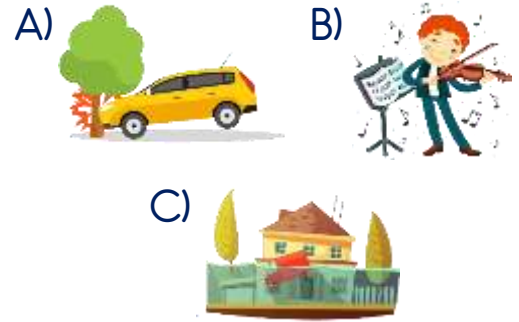
- 23) Görseldeki bisiklet ok
yönünde hareket et-
mektedir.



Buna göre aşağıdakilerden han-
gisi uygulanırsa bisiklet hızlanır?

- A) Önünden çekmek
B) Arkasından çekmek
C) Önünden itmek

- 24) Aşağıdaki görsellerden hangisi
hareketli cisimlerin sebep olabile-
ceği tehlikelere örnek değildir?





- 25) 1. Cam kırılğan bir maddedir.
2. Kolonyanın kokusu yoktur.
3. Aynanın yüzeyi pürüzsüzdür.
4. Sünger sert bir maddedir.


Yukarıdaki ifadelerden hangileri
doğrudur?

- A) 1-3 B) 2-3 C) 1-3-4

26) Aşağıdaki kişilerden hangisi aldığı güvenlik önlemi ile ilgili yanlış bir bilgi vermiştir?

A)  İnşaatта başımı korumak için baret takıyorum.

B)  Hijyen için maske ve eldiven takıyorum.

C)  Su geçirmediği için bu kıyafetleri giyiyorum.

27)



Hasan Öğretmen, öğrencilerinden verdiği örnekleri maddenin hâlleri ile eşleştirmelerini istemiş, eşleştirme sonunda sadece Deniz'in doğru cevap verdiğini görmüştür.

Buna göre hangi öğrencinin adı Deniz'dir?

A)  B)  C) 

28) Bazı katı maddeler küçük taneli katılardır. Her bir tanenin kendine özgü şekli vardır.

Aşağıdakilerden hangisi bu tür katı maddelere örnek değildir?

A) Şeker B) Kum C) Sünger

29) Işığın görmedeki rolü ile ilgili verilen ifadelerden hangisi yanlıştır?

A) Bir cismi görebilmemiz için cisim mutlaka ışık yaymalıdır.

B) Gereğinden fazla ışık kaynağı kullanmak gözümüze zarar verebilir.

C) Güneş'in zararlı ışınlarından korunmak için güneş gözlüğü kullanmalıyız.

30)



Yukarıdaki varlıklardan kaç tanesi doğal ışık kaynağıdır?

A) 2 B) 3 C) 4

- 31) ▲ Sevgi ■ Duyarsızlık
 ● Yardımlaşma ◆ Hoşgörü
 ◆ Kıskançlık ☆ Saygı

Yukarıdakilerden hangileri iyi bir komşuluk ilişkisi kurmamıza engel olur?

- A) ▲ ve ◆
 B) ◆ ve ■
 C) ◆ , ◆ ve ●



(32 ve 33. Soruyu krokiye göre cevaplayınız.)

32) Hangisi Eğitim Caddesi'nin kuzeyinde değildir?

- A) Kırtasiye B) Market C) Park

33) Hangisi kırtasiyeye göre güneyde, Kütüphane Sokak'a göre doğudadır?

- A) Kütüphane B) Park C) Market

34)



Evimizde herkesin bir sorumluluğu var. Evin iç işleri annemde, dış işleri babamda. Ben de yardımcı elemanım.

Verdiği bilgilere göre Ayşe annesine hangi konuda yardımcı olabilir?

- A) Bahçe temizliği
 B) Alışveriş yapmak
 C) Sofra hazırlığı

35)



● Yangın



● Zehirlenme

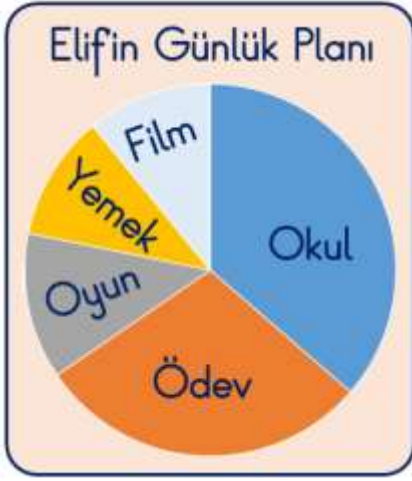


● Yaralanma

Yukarıdaki teknolojik araçlar ile yanlış kullanımı sonucunda sebep olabilecekleri olaylar hangi seçenekte doğru eşleştirilmiştir?

- A) B) C)

36)



Elifin günlük planına ait grafikten hangi bilgiye ulasılamaz?

- A) Zamanının çoğunu okulda geçirmektedir.
B) Kitap okumaya vakit ayırmamıştır.
C) Macera filmlerini sevmektedir.

37) Uyku Sinema Yemek
 Oyun Kıyafet Spor

Yukarıdakilerden kaç tanesi sosyal ihtiyaçlarımızdandır?

- A) 2 B) 3 C) 4

38) Kişisel bakımımızı yaparken hangisini yapmak doğru bir davranıştır?

- A) Su ve sabun kullanmamak
B) Kaynakları bilinçli kullanmak
C) Diş macununu bol sürmek

39)



Çocuklar! Mevsiminde tüketilen besinler nasıl olur?

Hasan Öğretmenin sorusunu hangi çocuk doğru cevaplamıştır?

A)



Bence daha sağlıklı olurlar öğretmenim.

B)



Bence besin değerleri daha düşük olur.

C)



Bence daha pahalı olurlar öğretmenim.

40) "Çölyak hastalığı olan kişilerin vücudu tahıl ürünlerine karşı alerji gösterebilir."

Yukarıda verilen bilgiye göre hangisi çölyak hastalığı olan birinin dikkatli tüketmesi gereken bir besin değildir?



Cevap Anahtarı

1-B 2-C 3-A 4-C 5-B 6-C 7-C 8-A 9-B 10-A 11-C 12-B 13-A 14-A 15-C 16-A 17-C
18-C 19-B 20-B 21-C 22-A 23-A 24-B 25-A 26-C 27-A 28-C 29-A 30-A 31-B
32-C 33-A 34-C 35-A 36-C 37-B 38-B 39-A 40-A