



AD VE EYLEM

Aşağıda verilen kelimelerden ad (isim) olanlara "ad" , eylem (iş , hareket , oluş bildiren kelime) olanlara "eylem" yazalım.

yüzmek

cevaplamak

ağaç

dolap

ayran

uyumak

konuşmak

bardak

sarılmak

kırmızı

defter

pişirmek

televizyon

balık

durmak

yapmak

gözlük

acıkmak

bilmek

gülmek

taşımak

koyun

defter

kaşık

ayakkabı

oturmak

ödemek

zürafa

sürmek

anahtar

yürümek

kamyon

**KORKAK TAVŞAN**

Adı üstünde korkak bir tavşan ormanın birinde yaşamış. Küçük bir tıkırtı korkutur, minik bir hareket ürktürmüş onu. Tir tir titremeye başlamış hemen. Bu nedenle evden dışarıya çıkamazmış. Bütün gün pencereden dışarıyı seyredermiş.

"Ne olurdu" dermiş "Dışarı bu kadar tehlikeli olmasa! Ben de dışarıya çıkabilsem, koşup oynayabilsem..." Canı çok sıkılıyormuş. Yaptığı hiçbir şeyden zevk alamıyormuş. Dışarıdan gelen minicik bir ses korkudan yerinden zıplamasına ürkekçe yatağının altına sığınmasına neden oluyormuş. İçi rahat bir şekilde yemek yiyemez, uyku uyuyamaz olmuş. Bazen diğer hayvanlar "bu kadar korkacak bir şey yok canım. Korkularını yenmen gerek." diyorlarmış. Tavşana göre böyle diyenler de korkuyormuş. Çünkü korku yenilmez bir düşman gibiymiş. Onu alt etmek mümkün değilmiş.

Çok sıcak bir günde tavşan çok susamış. Susuzluktan bayılacak gibi olmuş. Ne yapacağını bilememiş. Susuzluğunun geçmesini beklemiş ama nafiye. Giderek daha fazla susamış. Dereye gidip su içmeye karar vermiş. Önce bir iki tur atmış evin içinde cesaret edemiyormuş bir türlü... Sonra bütün cesaretini toplayarak birazda titreyerek dere kenarına gelmiş. O sırada dere kenarında kurbağalar varmış.

Tavşanı görür görmez kendilerini suya atmışlar. Tavşan bir kez daha korkmuş. Ama daha çabuk kendine gelmiş. Eğilip su içmeye başlamış. Rahatladığını düşünmüş. Sonra etrafına bakınmış şöyle düşünmüş: "Artık hiçbir şey beni korkutamaz. Ben çok cesurum. Gürültüden korkmadım üstelik başka hayvanları bile korkuttum." Kendiyle gurur duymuş. Zıplayarak dönerken sevinçten uçacak gibiymiş. Mutlulukla şöyle bağırmış: "Cesareti olan çıksın karşıma."



Aşağıdaki soruları metne uygun bir şekilde cevaplayınız.

1. Korkak tavşan niçin evden dışarı çıkamazmış ?

.....

2. Tavşanın korkudan zıplamasına nedeni neymiş ?

.....

3. Tavşana göre korku nasıl bir şeymiş ?

.....

4. Tavşan ne zaman susamış ?

.....

5. Tavşan dere kenarına nasıl gitmiş?

.....

6. Tavşan kendisiyle niçin gurur duymuş?

.....



TRAFİK KURALLARINA UYALIM



Aşağıda trafik kurallarına uyan çocukların isimlerinin ilk harflerini sırayla noktalı kutulara yazarak şifreyi çözelim.



Tuğçe

Trafik ışıklarının bulunduğu yerden karşıya geçerim.



Aykut

Babam arabayı kullanırken yanındaki koltukta yolculuk yaparım.



Elif

Serviste ayakta yolculuk yaparım.



Recep

Araç durmadan inmem.



Kübra

Karşıya geçmek için yaya üst ve alt geçitlerini kullanırım .



Kayra

Yolculuk sırasında emniyet kemerimi takarım .



Sinem

Yeşil ışığın yanmasını beklemeden karşıya geçmeye çalışırım .



Umut

Kaldırım ve yollarda futbol oynamam .



Rana

Sürücüle konuşarak dikkatini dağıtmam .



Lokman

Duran iki aracın arasından geçmem .



Asya

Karşıya geçmek için yaya geçidini kullanırım .



Karşıya geçerken önce sağa sonra sola bakıp koşarak geçerim .

... .. A F İ ...

... .. A L R İ



AMAN DİKKAT ! KAZA OLMASIN

☼ Aşağıdaki görsellerdeki tehlikeli durumlarda oluşabilecek sonuçları yazalım. Bu tür kazaların olmaması için neler yapılması gerektiğini yazalım.



.....
.....
.....
.....



.....
.....
.....
.....



.....
.....
.....
.....



.....
.....
.....
.....






.....
.....
.....
.....



SES KAYNAKLARI

☀ Aşağıdaki resimleri inceleyiniz. Doğal ses kaynaklarına "D", yapay ses kaynaklarına "Y" yazınız.

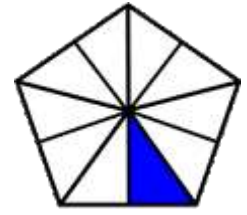
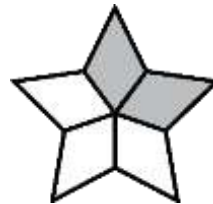

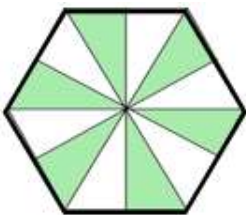
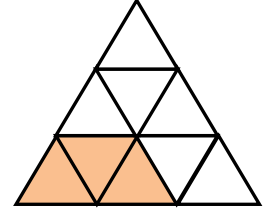
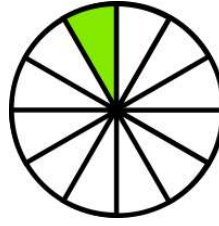
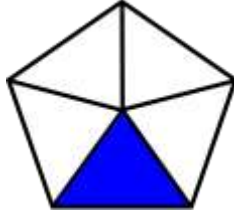
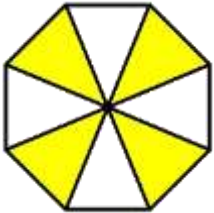
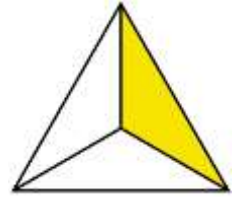
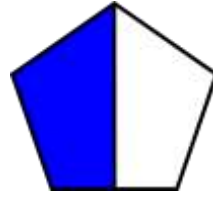
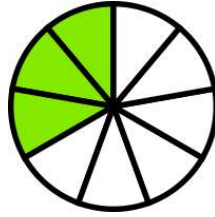

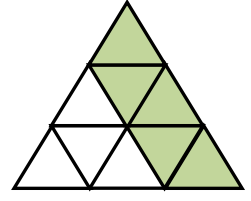
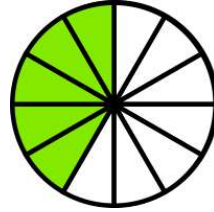
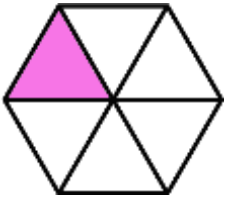
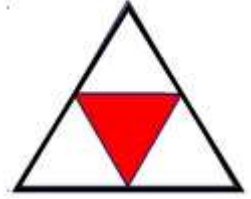
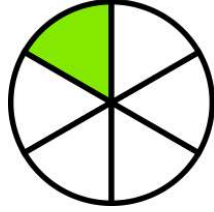




KESİRLER



Aşağıdaki şekillerden hangisi birim kesri ifade eder işaretleyelim.





KESİRLER



Aşağıdaki kesir sayılarından birim kesirleri işaretleyelim.

$$\frac{5}{10}$$



?

$$\frac{1}{2}$$

$$\frac{1}{6}$$

$$\frac{3}{3}$$

?



$$\frac{4}{8}$$

$$\frac{1}{9}$$



?

$$\frac{1}{15}$$

$$\frac{12}{20}$$

$$\frac{1}{3}$$

?



$$\frac{6}{12}$$

$$\frac{1}{17}$$

$$\frac{1}{20}$$

$$\frac{3}{9}$$

$$\frac{6}{6}$$

$$\frac{1}{4}$$



Aşağıdaki verilen kesir sayılarının birim kesirlerini yazalım.

$$\frac{5}{7} \rightarrow \frac{\dots}{\dots}$$

$$\frac{3}{4} \rightarrow \frac{\dots}{\dots}$$

$$\frac{6}{6} \rightarrow \frac{\dots}{\dots}$$

$$\frac{8}{12} \rightarrow \frac{\dots}{\dots}$$

$$\frac{4}{4} \rightarrow \frac{\dots}{\dots}$$

$$\frac{7}{9} \rightarrow \frac{\dots}{\dots}$$

$$\frac{2}{7} \rightarrow \frac{\dots}{\dots}$$

$$\frac{10}{15} \rightarrow \frac{\dots}{\dots}$$

$$\frac{5}{8} \rightarrow \frac{\dots}{\dots}$$

$$\frac{9}{16} \rightarrow \frac{\dots}{\dots}$$

$$\frac{10}{10} \rightarrow \frac{\dots}{\dots}$$

$$\frac{12}{30} \rightarrow \frac{\dots}{\dots}$$

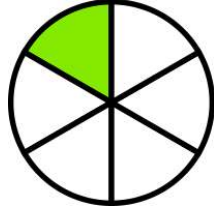


KESİRLER

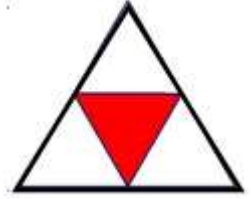


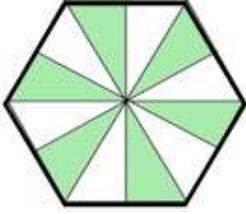
Aşağıdaki şekillerdeki boyalı alanları kesir sayısı şeklinde yazınız.



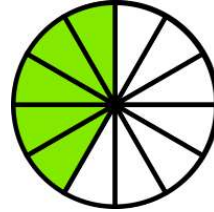
$$\frac{\dots}{\dots}$$


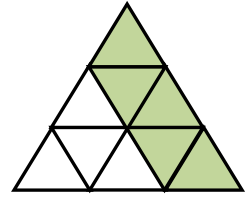
$$\frac{\dots}{\dots}$$



$$\frac{\dots}{\dots}$$


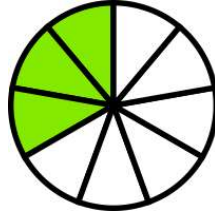
$$\frac{\dots}{\dots}$$


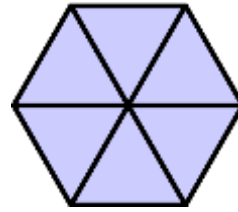
$$\frac{\dots}{\dots}$$

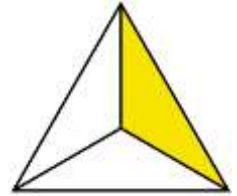

$$\frac{\dots}{\dots}$$


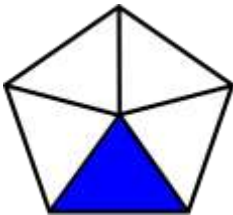
$$\frac{\dots}{\dots}$$


$$\frac{\dots}{\dots}$$


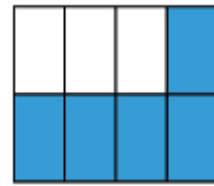
$$\frac{\dots}{\dots}$$


$$\frac{\dots}{\dots}$$


$$\frac{\dots}{\dots}$$


$$\frac{\dots}{\dots}$$


$$\frac{\dots}{\dots}$$


$$\frac{\dots}{\dots}$$


$$\frac{\dots}{\dots}$$


$$\frac{\dots}{\dots}$$



KESİRLER



Aşağıda sayı doğrularında verilen noktaların ifade ettiği kesir sayılarını yazınız.

