



Aşağıdaki metni anlayana kadar okuyalım.

Çocuktur benim adım,
Oyundur sanatım,
Uygun bir yer bulunca,
Hemen oyuna koşarım.



Oyun benim her şeyim,
Ekmeğim, aşım, suyum.
Eğer oyun yoksa,
O gün mutsuz olurum.

Hasan YILDIRIM



Aşağıdaki soruları metne göre cevaplayalım.



1 Çocuğun sanatı neymiş?



2 Çocuk uygun bir yer bulunca ne yaparmış?



3 Oyun olmadığı gün çocuk nasıl olurmuş?



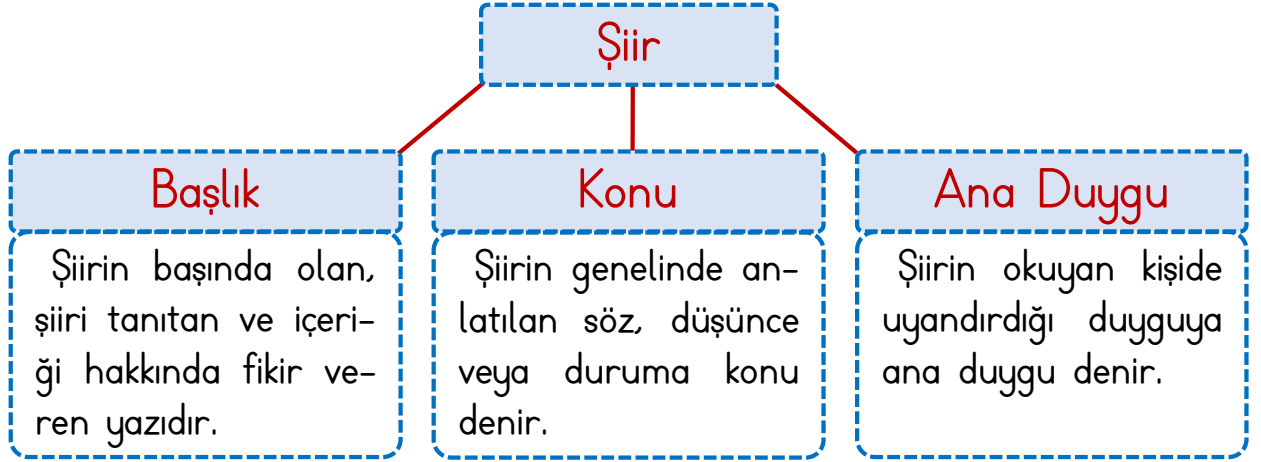
4 En sevdiğin oyun hangisidir?



5 Hiç oyun olmasaydı dünya sence nasıl olurdu?



ŞİİRDE BAŞLIK, KONU, ANA DUYGU



Aşağıdaki soruları I. sayfadaki şiire göre cevaplayalım.

Şiire farklı başlıklar bularak yazalım.

.....

Şiirin konusu nedir?

.....

Şiirin ana duygusu nedir?

.....



Aşağıdaki şiiri okuyarak şiire göre tabloyu dolduralım.

.....

Sanma bu bayrağı sıradan!
Toprakta binlerce yatan,
Vatan sevdalısı şehidimin,
Kanıdır onu sulayan.

Sanma bu bayrağı sıradan!
Herkes kalmaz atadan,
Baktıkça gurur duyarım,
Yadigârdır ecdadımdan.

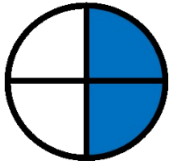
Hasan YILDIRIM

Başlık
.....
Konu
.....
Ana Duygu
.....



PAY VE PAYDA ARASINDAKİ İLİŞKİ

★ Verilen modellerin ifade ettiği kesirleri, pay ve paydası ile okunuşlarını örnekteki gibi yazalım.



$\frac{2}{4}$

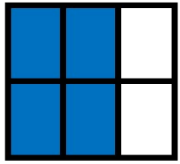
Pay
Kesir çizgisi
Payda

Dörtte iki

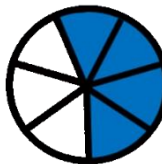
İki bölü dört



—



—



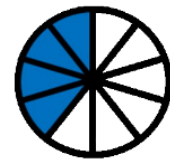
—




—



—



—



—



—



—



PAY VE PAYDA ARASINDAKİ İLİŞKİ



Verilen kesirlerin okunuşlarını örnekteki gibi yazalım.

$$\frac{3}{4}$$

$$\frac{2}{6}$$

$$\frac{4}{7}$$

$$\frac{6}{9}$$

$$\frac{1}{5}$$

Dörtte üç

$$\frac{3}{4}$$

$$\frac{4}{9}$$

$$\frac{7}{8}$$

$$\frac{2}{7}$$

$$\frac{5}{9}$$

$$\frac{2}{8}$$

$$\frac{7}{10}$$

$$\frac{9}{12}$$

$$\frac{8}{10}$$

$$\frac{6}{15}$$

$$\frac{6}{11}$$

$$\frac{15}{25}$$

$$\frac{35}{50}$$

$$\frac{45}{100}$$

$$\frac{88}{100}$$



Okunuşları verilen kesirleri örnekteki gibi yazalım.

Beşte üç

İki bölü on

Sekizde altı

Üç bölü yedi

On ikide beş

$$\frac{3}{5}$$

—

—

—

—

Altı bölü on

On üçte altı

Üç bölü kırk

Elli de on iki

Altı bölü on

—

—

—

—

—

Kırkta bir

Beş bölü on

Yüzde altmış

Bir bölü beş

Ellide kırk

—

—

—

—


—




SES KAYNAKLARI



Ses kaynaklarının türlerini örnekteki gibi yazalım.



Doğal ses k.



Doğal ses kaynaklarının başına 'D', yapay ses kaynaklarının başına 'Y' yazalım.

Matkap sesi

Dalga sesi

Ağustosböceği sesi

Motosiklet sesi

Şelale sesi

Yağmur sesi

Kuş civıltısı

İnsan sesi

Arı vızıltısı

Rüzgar sesi

Elektrik süpürgesi sesi

Çamaşır makinesi sesi

Şimşek sesi

Radyoda çalan müzik

Uçak sesi

Öksürme sesi



TRAFİK KURALLARI

★ Aşağıdaki ifadelerden doğru olanların başına 'D', yanlış olanların başına 'Y' yazalım.

- Trafik kurallarına uymak vatandaşlık görevidir.
- Küçük çocuklar araçların ön koltuğunda oturabilirler.
- Duran araçların önünden veya arkasından geçmemeliyiz.
- Toplu taşıma araçlarında yüksek sesle konuşabiliriz.
- Yolculuk esnasında şoförü rahatsız etmeliyiz.
- Güvenli bir yolculuk için emniyet kemeri takmalıyız.
- Kaldırım ve yollarda top oynamamalıyız.
- Kaldırımı olmayan yolun sağ tarafından yürümeliyiz.

DİKKATLİ OLALIM

★ Aşağıda verilen durumlarda yaşayabileceğimiz kazayı ve bu kazayı önlemek için bulduğumuz çözüm önerisini yazalım.

Tehlikeli Durum	Yaşanabilecek Kaza	Çözüm Önerim
Kesici aletin ortada bırakılması
Deterjanın bardağa kanması
Trafiğe açık bir yerde oynamak
Okul koridorunda koşmak



EĞLENCE ZAMANI

★ Aşağıdaki oyun haritasına en sevdiğimiz oyun ile ilgili istenen bilgileri dolduralım.

Kaç kişi ile oynanır?

.....

Nerelerde oynanır?

.....

Oyunun Adı

.....

Gerekli Malzemeler

.....
.....
.....

Oyun nasıl oynanır?

.....
.....
.....

★ Verilen sözcükleri bulmacada bularak boyayalım. Kalan harfleri sırası ile yazarak gizli sözcüğü bulalım.

ÇOCUK

MİSKET

OYUN

SEK SEK

PARK

KÖREBE

TOP

SOBE

S	E	K	S	E	K	Y
S	O	B	E	A	Ö	K
Ç	O	C	U	K	R	A
T	M	İ	S	K	E	T
O	Y	U	N	N	B	T
P	A	R	K	O	E	P

Gizli Sözcük



--	--	--	--	--	--	--	--