



## MEVSİMLER

İlkbahar pembe, ılık...

Kırmızı ve sıcak yaz.

Sonbahar serin, sarı...

Kışsa soğuk ve beyaz!

İlkbahar çiçek mevsimidir,

Yaz; kavun, karpuz ve deniz.

Sonbahar "yağmur" demektir.

Kış, kardan adam ve biz.

Aziz Sivasoğlu

Not: İlk 3 soruyu metne göre cevaplayınız.

1) Şiirin konusu hangisidir?

- A) Meyvelerin özellikleri
- B) Mevsimlerin özellikleri
- C) Renkler ve özellikleri



2) Şiirde, kaçınıcı dizenin hece sayısı en fazladır?

- A) 7.dize
- B) 6.dize
- C) 5.dize

3) Mevsimler şiiri ile ilgili aşağıdaki bilgilerden hangisi yanlıştır?

- A) Şiir 2 dize, 8 kıtadan oluşmuştur.
- B) Şiirin şairi Aziz Sivasoğlu'dur.
- C) Şiirin başlığı "Mevsimler"dir.

4) Aşağıdaki varlıklardan hangisinin adı ünlü harf ile başlayıp ünlü harf ile biter?



5)



Çalıştım



Dün geldi



Dolabın içindeki bardağı

Yukarıdaki sözcük gruplarından hangileri cümledir?

A) ve

B) ve

C) ve

6)



Anne, eldivenlerim .....

Elif, sözlerini hangisiyle tamamlarsa soru cümlesi kurmuş olur?

A) yok

B) kirlendi

C) nerede

7) Aşağıdaki cümlelerin hangisinde "kesme işareti" **yanlış** kullanılmıştır?


- A) Hamza İzmir'de doğmuş.  
B) Bu resmi Ege'imi yaptı?  
C) Akşam saat 21.30'da uyuyorum.


8) **Otobüs çok hızlı gidiyor.**


Yukarıdaki cümlede altı çizili sözcük hangi sorunun **yanıtıdır**?

- A) Ne? B) Kim?  
C) Nasıl?

9) Aşağıdaki öğrencilerden hangisinin söylediği ifade **yanlıştır**?

A)  Bir sayının 1 ile çarpımı kendisine eşittir.

B)  Her sayının kendisiyle çarpımı 1'e eşittir.

C)  Bir sayının 0 ile çarpımı 0'dır.

10) **"6 tane 3, 18 eder."**

Yukarıdaki ifade hangi çarpma işlemini ifade eder?

- A)  $6 \times 3$  B)  $3 \times 18$   
C)  $3 \times 8$

11)

|   |   |    |
|---|---|----|
| x | 4 | 5  |
| 2 | 8 | ★  |
| 3 | 😊 | 15 |

Yukarıdaki çarpma tablosuna göre

😊 + ★ işleminin sonucu kaçtır?

- A) 17 B) 22 C) 27

12)

$$8 \times 4 = A$$

$$3 \times 3 = B$$

Yukarıdaki çarpma işlemine göre A ve B yerine yazılması gereken sayıların **farkı** kaçtır?

- A) 23 B) 25 C) 41

13)  $5 \times 4$  işlemi ile **aynı sonucu veren** işlem aşağıdakilerden hangisidir?

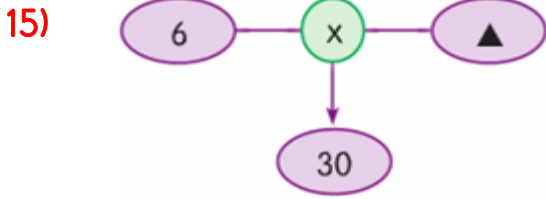
- A)  $2 \times 5$  B)  $2 \times 10$   
C)  $5 \times 6$

14)

$$4 \times 3 = \heartsuit \times 4$$

Yukarıda verilen işleme göre **♥** yerine hangi sayı gelmelidir?

- A) 2  
B) 3  
C) 4



Yukarıdaki işlemde **verilmeyen çarpan** kaçtır?

- A) 10                      B) 6                      C) 5



Yukarıdaki görsellerin vermek istediği mesaj **hangisidir?**

- A) Trafikte yardıma ihtiyaç duyanlara yardımcı olmalıyız.  
B) Yaşlanmak zordur.  
C) Ulaşım araçları hayatımızı kolaylaştırır.

17) Trafikte yardıma ihtiyaç duyanlarla ilgili ifadelerden hangisi **yanlıştır?**

- A) Araçlarda yaşlı, hamile ve hasta kişilere oturacak yer vermeliyiz.  
B) Yaşlı, hamile ve hastaların araca binmesine ve araçtan inmesine yardım etmeliyiz.  
C) Görme engellilerin karşıdan karşıya geçerken yardıma ihtiyacı yoktur.



Yukarıda acil durumlarda aranması gereken numaralar verilmiştir. Bunların telefon numaraları hangi seçenekte **doğru** olarak verilmiştir?

|    | <u>1</u> | <u>2</u> |
|----|----------|----------|
| A) | 112      | 155      |
| B) | 155      | 112      |
| C) | 122      | 155      |

19) Aile, kadın, çocuk, yaşlı ve engelli **sosyal destek hattına** ihtiyaç duyduğumuzda hangisini aramalıyız?

- A) 156                      B)122                      C)183

20)  Çevremizde yandaki resimde verilen durumla karşılaşırsak **hangi acil durum** numarasını aramalıyız?



## Cevap Anahtarı

1)B 2)C 3)A 4)C 5)A  
6)C 7)B 8)C 9)B 10)A  
11)B 12)A 13)B 14)B 15)C  
16)A 17)C 18)A 19)C 20)A