



Aşağıdaki metni anlayana kadar okuyalım.


UYKU

Annem sabah dedi bana,
Haydi yavrum kalk okula.
Hiç uyanmak istemedim,
Doynamadım ki uykuya.



Rüyamda peri olmuşum,
Gökyüzünde geziyorum,
Benden yardım isteyene,
Hemen uçup gidiyorum.

Kahvaltıda ballar olsa,
Bardağıma sütler dolsa,
Aklım yine de uykuda,
Keşke bugün tatil olsa.



Hasan YILDIRIM



Aşağıdaki soruları metne göre cevaplayalım.



Çocuğu sabah kim uyandırmış?



Çocuk niçin uyanmak istememiş?



Çocuk rüyasında ne olmuş?



Çocuk o günün ne olmasını istemiş?

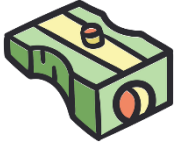


Sen olsaydın şiire hangi başlığı koyardın?



HECE BİLGİSİ

★ Görsellerdeki varlıkların isimlerini hecelerine ayırarak örnekteki gibi yazalım.



a-ça-cak



★ Aşağıdaki hecelerden anlamlı kelimeler oluşturalım.

ta

kı

sa

ma

ne

at

kar

kas

★ Kelimelerin harf ve hece sayılarını yazalım.

Kelime	Harf Sayısı	Hece Sayısı
salata		
eldiven		
matematik		
önemli		
gözlük		
ördek		
cetvel		



TOPLAMA İŞLEMİ PROBLEMLERİ



Aşağıdaki problemleri şekil çizip işlem yaparak çözelim.

Ceylin 8, Kayra 11 yaşındadır. Ceylin ile Kayra'nın yaşları toplamı kaçtır?

Şekil

İşlem

Kümeşte 6 tavuk, 14 civ-civ vardır. Kümeşte toplam kaç hayvan vardır?

Şekil

İşlem

Pazartesi günü 13, salı günü 5 sayfa kitap okuyan Hasan, iki günde kaç sayfa kitap okumuştur?

Şekil

İşlem

Fatih 8 yaşındadır. Ağabeyi Fatih'ten 5 yaş büyüktür. Buna göre Fatih'in ağabeyi kaç yaşındadır?

Şekil

İşlem

Miraç önce 11, sonra 9 sayfa okuyarak hikâye kitabını bitirmiştir. Buna göre kitap kaç sayfadır?

Şekil

İşlem



TOPLAMA İŞLEMİ PROBLEMLERİ



Aşağıdaki problemleri şekil çizip işlem yaparak çözelim.

Kümeşte 5 tavuk, tavuklardan 3 fazla da civciv vardır. Kümeşte toplam kaç hayvan vardır?

Şekil

İşlem

Arda'ya annesi 8 lira, babası 7 lira vermiştir. Arda'nın toplam kaç lirası olmuştur?

Şekil

İşlem

Celil 9 liraya kitap, 6 liraya kalem almıştır. Kitap ve kalem için Nihat satıcıya kaç lira ödemelidir?

Şekil

İşlem

Elif okuldan gelince 10, akşam ise 8 sayfa kitap okumuştur. Elif toplam kaç sayfa kitap okumuştur?

Şekil

İşlem

Melek 7 yaşındadır. Ablası Melek'ten 5 yaş daha büyüktür. İki kardeşin yaşları toplamı kaçtır?


Şekil

İşlem



GÜVENLİK KURALLARI

★ Aşağıdaki cümleleri okuyarak uygun görselle örnekteki gibi eşleştirelim.



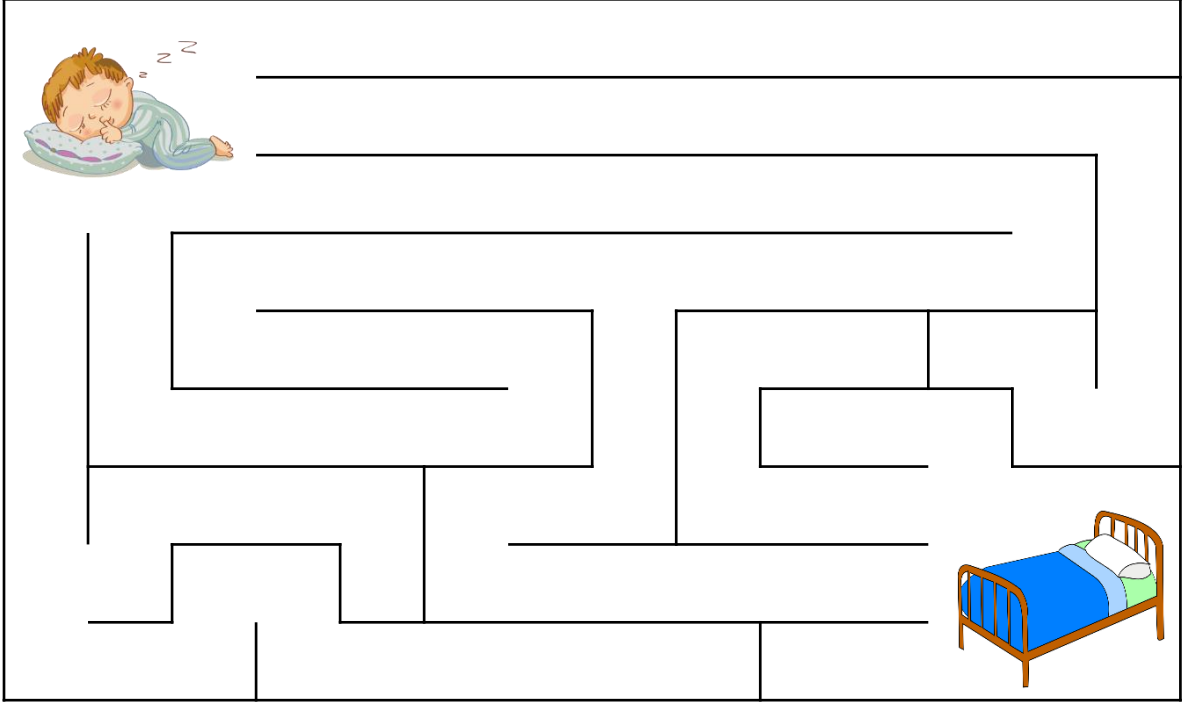
- 1 Islak zeminlerde dikkatli yürümemeliyiz.
- 2 Pencere ve balkonlardan aşağıya sarkmamalıyız.
- 3 Temizlik malzemelerine dokunmamalıyız.
- 4 Merdivenlerin sağından inip sağından çıkmalıyız.
- 5 Asansöre büyüklerimizle birlikte binmeliyiz.
- 6 Açık unutulmuş muslukları kapatmalıyız.



EĞLENCE ZAMANI



Uyuyan çocuğu yatağına götürelim.



Sana sihirli bir değnek verildiğini ve bu değneği üç defa kullanma hakkın olduğunu hayal et. Onunla neler yapardın? Hayallerimizi anlamlı ve kurallı cümlelerle yazalım.



.....

.....

.....

.....

.....

.....

.....

.....

.....

.....