



Saman Altından Su Yürütmek

Vakti zamanında bir ova köyündeki köylüler tarlalarını sulamak için ırmağın suyunu sıra ile kullanma kararı almışlar. Irmak civarındaki tarlalar, açılan su kanalları sayesinde sıra ile sulanıyormuş. Köyün açığözlerinden birisi, daha fazla su almak için tarlasına ayrı bir kanal kazmış. Kanalı gizlemek için de üzerine çalı ve saman örtmüştü. Bunu fark eden köylüler 'Saman altından su yürütüyor.' demişler. Bu söz o günden sonra gizli işler çevirenler için kullanılan bir deyim olarak dilimize yerleşmiş.

(İlk 4 soruyu metne göre cevaplayınız.)

- 1) Köylüler hangi konuda karar almışlar?
A) Tarlaları satma konusunda
B) Tarlaları sulama konusunda
C) Tarlaları işleme konusunda
- 2) Irmak civarındaki tarlalar hangisi ile sulanıyormuş?
A) Su kuyuları ile sulanıyormuş.
B) Su depoları ile sulanıyormuş.
C) Su kanalları ile sulanıyormuş.
- 3) Köyün açığözlerinden birisi, daha fazla su almak için ne yapmış?
A) Ayrı bir kanal açmış.
B) Kanalını genişletmiş.
C) Tarlasına kuyu kazmış.
- 4) Metin ile ilgili verilen ifadelerden hangisi yanlıştır?
A) Metnin türü düz yazıdır.
B) Bilgilendirici bir metindir.
C) Hikâye edici bir metindir.

5) Aşağıdakilerden hangisi deyim değildir?

- A) Kulak misafiri olmak
- B) Ağzını aramak
- C) Kitap okumak

6) Hangisi 'öfkelenmek, kızmak' anlamında bir deyimdir?

- A) Tepesi atmak
- B) Boş bulunmak
- C) Dara düşmek

7) "Annem bizim için çok çalıştı, adeta"

Yukarıdaki cümlede boş bırakılan yere hangi deyim gelmelidir?

- A) ipe un serdi.
- B) ağız kulaklarına vardı.
- C) saçını süpürge etti.

8) Aşağıdaki kesirlerden hangisinin payı paydasından küçüktür?

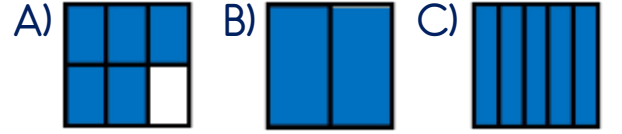
- A) $\frac{5}{3}$
- B) $\frac{4}{4}$
- C) $\frac{2}{6}$

9) Yandaki modele ait kesir aşağıdakilerden hangisidir?



- A) $\frac{7}{3}$
- B) $\frac{3}{7}$
- C) $\frac{7}{10}$

10) Aşağıdaki modellerden hangisine ait kesirde pay paydadandan küçüktür?



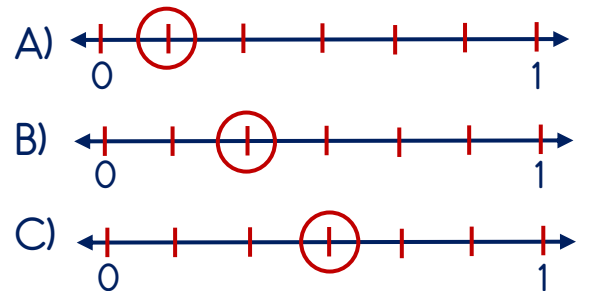

11)



Yukarıdaki sayı doğrusunda işaretli olan kesir hangisidir?

- A) $\frac{1}{4}$
- B) $\frac{3}{4}$
- C) $\frac{4}{5}$

12) Yandaki modele ait sayı doğrusu aşağıdakilerden hangisidir?



13) Hangisi sesin daha uzağa gitmesini sağlayan bir araç değildir?



14)



Görseldeki çocuklar, kuşun sesini en çok duyardan en az duyana doğru nasıl sıralanmalıdır?

- A) Kayra - İlayda - Eymen
B) İlayda - Eymen - Kayra
C) Kayra - Eymen - İlayda

15) Yandaki cihaz hangi amaçla kullanılır?



- A) Sesin şiddetini arttırmak için
B) Şiddetli sese karşı kulakları korumak için
C) Ses kaynağına yaklaşmak için

16) Hangisinde uzun süre duran biri, geçici işitme kaybı yaşayabilir?

- A) Tiyatro
B) Piknik alanı
C) Düğün salonu

17) Hangi durumu kesinlikle ailemize bildirmeliyiz?

- A) Tanımadığımız birinin bize şeker vermek istemesi
B) Sınıfta oynadığımız oyun
C) Derste öğrendiğimiz yeni bilgi

18) Yolda yalnız başına yürüyen Elif, birisinin kendini takip ettiğini fark edince hangisini yapmalıdır?

- A) Bir inşaata saklanmalı
B) Kalabalık yerlere gitmeli
C) Kendisini neden takip ettiğini sormalı

19) Tanımadığımız birinin bize sorduğu hangi soruya kesinlikle 'Hayır' demeliyiz?

- A) Buralarda market var mı?
B) Birlikte oyun oynayalım mı?
C) Bu mahallenin adı ne?

20) İstemediğimiz bir şeyi yapmamızı isteyen birine karşı hangisini yapmak yanlış olur?

- A) Bağırarak yardım istemek
B) Hemen oradan uzaklaşmak
C) İsteddiği şeyi yapmak

Cevap Kâğıdı

Öğrencinin;

Adı Soyadı: Sınıfı: No: Puanı:

CEVAPLAR	
1	A B C
2	A B C
3	A B C
4	A B C
5	A B C
6	A B C
7	A B C
8	A B C
9	A B C
10	A B C
11	A B C
12	A B C
13	A B C
14	A B C
15	A B C
16	A B C
17	A B C
18	A B C
19	A B C
20	A B C

Cevap Anahtarı

1-B 2-C 3-A 4-B 5-C 6-A 7-C 8-C 9-B 10-A 11-B 12-B 13-B 14-C 15-A 16-C
17-A 18-B 19-B 20-C

Sınava Ait Konu ve Kazanım Listesi

Ders	Konu	Kazanım
Türkçe	Deyimler	
Matematik	Payı Paydasından Küçük Kesir Elde Etme Saat ve Dakika	M.3.1.6.6. Payı paydasından küçük kesirler elde eder. M.3.3.5.1. Zamanı dakika ve saat cinsinden söyler, okur ve yazar.
Fen Bilimleri	Uzaklık ve Ses Şiddeti Arasındaki İlişki Şiddetli Sesin Zararları	F.3.5.4.2. Ses şiddeti ile uzaklık arasındaki ilişkiyi açıklar. F.3.5.4.3. Şiddetli seslerin işitme kaybına sebep olabileceğini ifade eder.
Hayat Bilgisi	Güvenliğim İçin Hayır Demeliyim	HB.3.4.5. Güvenliğini tehdit eden bir kişi olduğunda ne yapacağını ve kimlerden yardım isteyebileceğini açıklar.