

Mehmet'in babası, saz çalıp türkü söylerdi. Mehmet doğduğundan beri babası, onu türkülerle büyüttü. Babası söyledi, Mehmet oynadı. Minik elleri ve ayaklarıyla babasına eşlik etti. Oğlunun müziğe olan ilgisini gören babası, Mehmet'e küçük bir davul aldı. Artık babası saz çalarken o da yanında ritim tutuyor, babasına uyum sağlıyordu.

Mehmet'in müzik aleti sadece davul değildi. Kepçeler, kaşıklar, tencereler, tavalar... Evde ne bulursa değişik sesler çıkarmak için kullanıyordu.



Annesi, bu duruma biraz kırsa da çocuğunun gelişimi için müdahale etmiyordu. Mehmet'i uzaktan kontrol ediyor, kendisine ve çevresine zarar vereceğini anladığında engel oluyordu. Annesi ve babası, Mehmet'in müziğe olan merakını destekliyordu. Kim bilir, belki Mehmet de ileride iyi bir müzisyen olabilirdi.

Not: İlk 3 soruyu metne göre cevaplayınız.

1) Aşağıdaki müzik aletlerinden hangisi metinde yer **almaz**?

A)



B)



C)



2) Aşağıdakilerden hangisi metine uygun bir **başlıktır**?

- A) Mehmet'in Ailesi
- B) Müzisyen Mehmet
- C) Mehmet'in Sevdiği Türküler

3) Aşağıdakilerden hangisi metinle ilgili **yanlış** bir bilgidir?

- A) Annesi, Mehmet'in durumuna kızarak gelişimine müdahale ediyordu.
- B) Mehmet evdeki aletleri değişik sesler çıkarmak için kullanıyordu.
- C) Annesi ve babası, Mehmet'in müziğe olan merakını destekliyordu.

4)



Mert **tek başına** kullanıldığında anlamı **olmayan** kelimelerin yazılı olduğu balonları patlatacaktır. Kaç tane balon patlatması gerekmektedir?

- A) 4
- B) 3
- C) 2

5) Aşağıdaki tabelalarda satır sonuna sığmayan kelimelerden hangisi hecelerine **doğru** yerden ayrılmıştır?

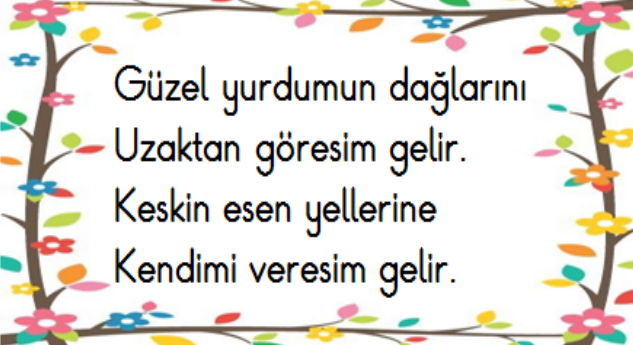


6) **I R Y B Ş A**



Ayla yukarıdaki harfleri kullanarak aşağıdaki kelimelerden hangisinin zıt anlamlısını **oluşturamaz**?

- A) Kuru B) İç
C) Savaş

7) 
Güzel yurdumun dağlarını
Uzaktan göresim gelir.
Keskin esen yellerine
Kendimi veresim gelir.

Yukarda verilen **şiirin konusu** nedir?

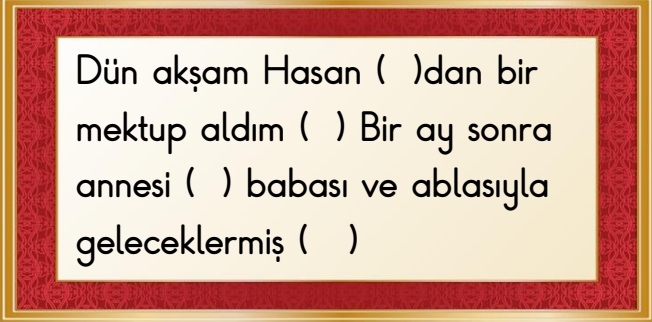
- A) Doğa sevgisi B) Dağ sevgisi
C) Yurt sevgisi

8) Pazar günü piknik yapmak için Atatürk Parkı'na gideceğim.



Ece'nin cümlesinde hangi sorunun cevabı **yoktur**?

- A)  B)  C) 

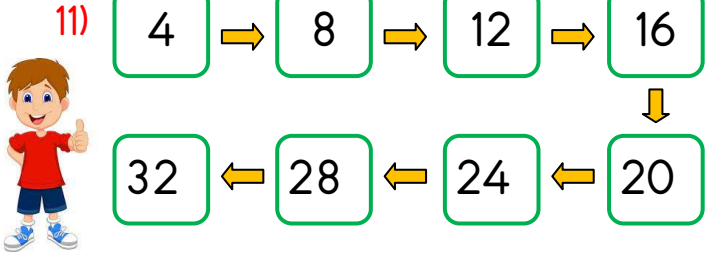
9) 
Dün akşam Hasan ()dan bir mektup aldım () Bir ay sonra annesi () babası ve ablasıyla geleceklermiş ()

Bu cümlelerde () ile gösterilen yerlere **sırasıyla** hangi noktalama işaretleri **gelmelidir**?

- A) (,) (.) (.) (.) B) (') (.) (,) (.)
C) (') (,) (,) (.)

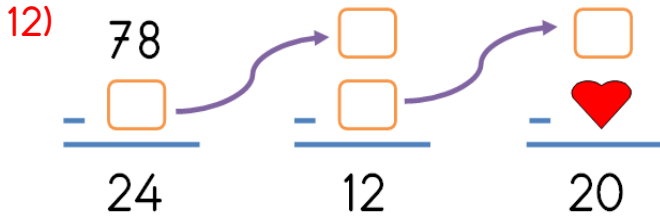
10) Aşağıdaki cümlelerin hangisinde yazım **yanlışı yoktur**?

- A) Gamze'nin çantası kayboldu.
B) Nazmi Usta Çatı'yı tamir etti.
C) Babam istanbula uçakla gidecek.



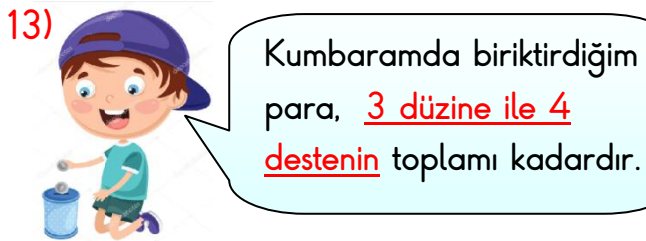
Arda yukarıdaki okların yönünü takip ederek ritmik sayma yapmıştır. Arda yukarıdaki verilen sayılardan hangilerini **hem üçer, hem de dörder ritmik** sayma yaparken söylemiştir?

- A) 12 - 18 B) 12 - 28
C) 12 - 24



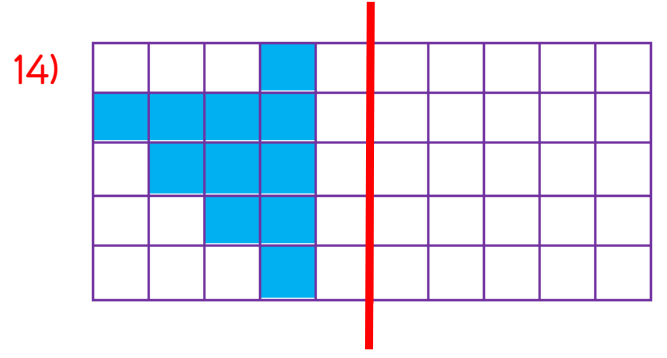
Yukarıda verilen çıkarma işleminde "♥" ile gösterilen yere hangi sayı gelmelidir?

- A) 22 B) 32 C) 44

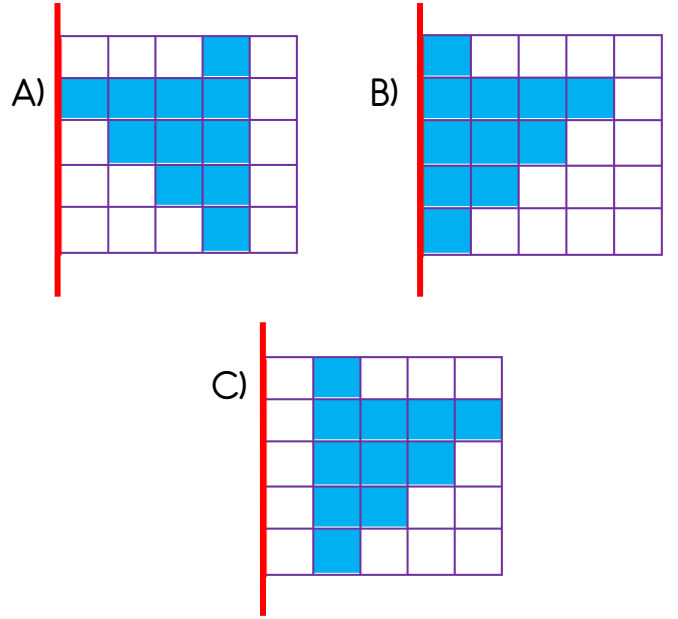


Buna göre Ege'nin kumbarasındaki paraların **en yakın onluğa yuvarlanmış** hali hangi seçenekte doğru olarak verilmiştir?

- A) 80 B) 70 C) 60



Yukarıdaki şeklin **kırmızı çizgiye göre simetriği** hangi seçenekte doğru olarak verilmiştir?



Yukarıda verilen geometrik örüntüdeki ilişkiye **benzer bir örüntü** aşağıdaki örüntülerin hangisinde vardır?



16)



Keloğlan'ın çiftliğinde 33 tane keçi vardır. Kuzuların sayısı ise keçilerin sayısından 6 eksiktir.

Keloğlan'ın çiftliğindeki keçi ve kuzuların toplam sayısı kaçtır?

- A) 58 B) 60 C) 72

17)



1

2


3

4

Yukarıdaki kapların ez az sıvı alandan en çok sıvı alana doğru sıralaması hangisidir?

- A) 2-1-3-4 B) 2-1-4-3
C) 3-4-1-2

18)



Yukarıda verilen çileklerin sayısını aşağıdaki hangi işlem ile bulamayız?

- A) $4 + 4 + 4 + 4 + 4$
B) 4×5
C) $5 + 5 + 5 + 5$

19)

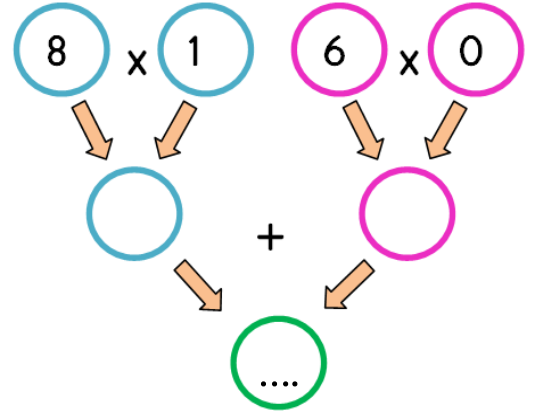
x	4	5
2	8	★
3	😊	♥

Yukarıda verilen çarpma tablosuna göre

😊 + ★ + ♥ işleminin sonucu kaçtır?

- A) 27 B) 30 C) 37

20)



Yukarıdaki işlem salkımında noktalı yere hangi sayı gelmelidir?

- A) 0
B) 8
C) 14

- 21) Bencillik Hoşgörü Alınganlık
Saygı Dürüstlük Güvensizlik

Yukarıdaki ifadelerden kaç tanesi arkadaşlık ilişkilerini **olumsuz etkileyen** davranışlardır?

- A) 2 B) 3 C) 4





PERŞEMBE	
1.Ders	Hayat Bilgisi
2.Ders	Türkçe
3.Ders	Türkçe
4.Ders	Matematik
5.Ders	Matematik
6.Ders	Görsel Sanatlar

Ders programına göre Ali'nin perşembe günü aşağıdakilerden hangisini çantasına koymasına gerek **yoktur**?

- A) Abaküs B) Sulu Boya C) Flüt

23) İlkokul 2.sınıfta okuyan bir öğrenci aşağıdaki işlerden hangisini **yapamaz**?

- A)  Kendi elbiselerimi ütüleyebilirim.
B)  Dağınık eşyalarımı toplayabilirim.
C)  Sofra hazırlarken yardımcı olabilirim.



Ece'nin arkadaşına gönderdiği mektubun arkasına yazdığı adreste, aşağıdaki bilgilerden hangisi **eksiktir**?

- A) Şehir adı B) Cadde adı
C) Bina adı



Yangınlarda, doğal afet sonucunda meydana gelen olaylarda yardım isteriz.

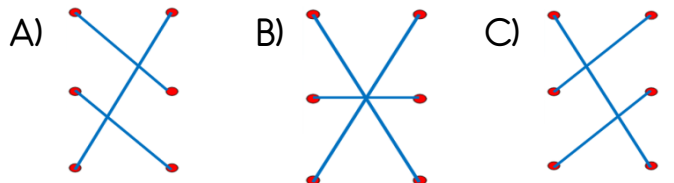


Can ve mal güvenliği hırsızlık ve huzur bozan olaylarda yardım isteriz.




Sağlığımızla ilgili acil bir durumda bizlere ilk müdahaleyi yaparlar.

Yukarıda verilen görsellerle açıklamaları doğru şekilde eşleştirildiğinde nasıl bir görüntü oluşur?



26)






Ali yaz mevsiminde plaja yüzmeye gidecektir. Yukarıda numaralandırılmış kıyafetlerden hangilerini seçerse daha uygun bir seçim yapmış olur?

- A) 2,5,6 B) 2,3,5 C) 5,6,1

27) Aşağıdakilerden hangisi okul servisinde uymamız gereken güvenlik kurallarından biri **değildir**?

- A) Araca biner binmez kemerimizi takmalıyız.
B) Servis hareket halindeyken ayakta durmamalıyız.
C) Servis hareket halindeyken şoförle konuşmalıyız.

28) Aşağıdaki ulaşım türleriyle ulaşım araçlarından hangisi **yanlış eşleştirilmiştir**?

- A)  ↔ Hava yolu
B)  ↔ Deniz yolu
C)  ↔ Kara yolu

29)

- ➔ Günde 9-10 saat uyumalıyız.
- ➔ Düzenli ve dengeli beslenmeliyiz.
- ➔ Spor yapmalıyız.
- ➔

Yukarıda verilen noktalı yere sağlıklı büyüme ve gelişime uygun olacak şekilde aşağıdakilerden hangisi **yazılmalıdır**?

- A) Kişisel bakımımıza ve temizliğimize önem vermeliyiz.
B) Sadece sevdiğimiz yiyecekleri yemeliyiz.
C) Dişlerimizi günde bir kere fırçalamalıyız.

30) Dengeli beslenmeyi hedefleyen bir öğrenci için uygun öğün listesi aşağıdakilerden hangisi **olmalıdır**?

- A) **Sabah:** Salam, sosis
Öğle: Hamburger, cips
Akşam: Makarna, ketçap, mayonez

- B) **Sabah:** Bal, yumurta, süt
Öğle: Ayrın, pilav, köfte
Akşam: Çorba, sebze yemeği, salata

- C) **Sabah:** Gofret, çikolata, bisküvi
Öğle: Gazoz, tost, jelibon
Akşam: Patlamış mısır, kremalı pasta

Cevap Anahtarı

1)C 2)B 3)A 4)A 5)C 6)B 7)C 8)C 9)B 10)A
11)C 12)A 13)A 14)C 15)B 16)B 17)B 18)A 19)C 20)B
21)B 22)C 23)A 24)C 25)B 26)A 27)C 28)A 29)A 30)B