

1)

Emniyet •	• Mükâfat
Hasret •	• Konuk
Nefes •	• Güvenlik
Ödül •	• Özlem

Tablodaki sözcükler, eş anlamlılarıyla eşleştirildiğinde hangi sözcükler açıkta kalır?

- A) Nefes - Mükâfat
B) Ödül - Konuk
C) Hasret - Mükâfat
D) Nefes - Konuk

2) Aşağıdaki cümlelerin hangisinde soru işareti **yanlış** kullanılmıştır?

- A) Ödevini zamanında yaptın mı?
B) Akşam oldu mu tavuklar kümese girer?
C) Ozan havlusunu havuzda mı unutmuş?
D) Gaye bu soruyu mu cevaplayamadı?

3) I - Türk Dil Kurumu'nda
II- 10'uncu
III- 17 Şubat'ta
IV- İngilizler'in

Yukarıdaki kelimelerin hangilerinde kesme işareti **yanlış** kullanılmıştır?

- A) I – III
B) I - IV
C) II – IV
D) III - IV

4) Erdem, ince ağaca bir kova su dökmüş. Kova-
yı götürünceye kadar kolu kopmuş. Biraz din-
lendikten sonra boş kovayı babasına vermiş.

Yukarıdaki parçada numaralandırılmış kelimelerden hangisi mecaz anlamda kullanılmıştır?

- A) 4 B) 2 C) 3 D) 1

5) Aşağıdaki kelimelerden hangisi aldığı bir ek ile yeni bir anlam kazanmamıştır ?

- A) musluk B) şekerlik
C) odunluk D) yazlık

6)

YANLIŞ	DOĞRU
bisküit	bisküvi
dinozor	dinazor
eşortman	eşofman
kaysı	kayısı

Yukarıda kelimelerin yanlış ve doğru yazılışıyla ilgili bir yanlışlık yapılmıştır. Bu yanlışlık hangi kelimelerin yer değiştirmesiyle düzelir ?

- A) dinozor - dinazor
B) kaysı - kayısı
C) eşortman - eşofman
D) bisküit - bisküvi

- 7) "Patlamak" sözcüğü aşağıdaki cümlelerin hangisinde "çok sıkılmak" anlamında kullanılmıştır?
- A) Pazar günü seyirci patlaması bekliyoruz.
B) Bahçedeki ağaçların tomurcukları patlamış.
C) Deniz , beni odada tek başıma bırakınca patladım.
D) Babam, anneme kızamayınca bize patladı.

- 8) Çocuklar küçük yaşlardayken, her türlü bilgiyle ve beceriyle şekil vermeye elverişlidirler. Yıllar geçip büyümeye başladıklarında eğitilmeleri de zorlaşır. Olgun bir birey kolay kolay eğitilmez.

Yukarıda açıklaması verilen atasözü aşağıdakilerden hangisidir?

- A) Ağaç yaprağı ile güzeldir.
B) İşleyen demir pas tutmaz.
C) Ağaç yaş iken eğilir.
D) Bakarsan bağ bakmazsan dağ olur.

- 9) Aşağıdaki cümlelerin hangisinde **ikileme** kullanılmıştır?

- A) Babam çok yorulduğu için eve erken gelmiş.
B) Babam az çok tamir işlerinden anlar.
C) Kuşun yemliğinde az yem kalmış.
D) Sen bunları kimden duydun?

- 10) Aşağıdaki cümlelerin hangisinde **benzetme** yapılmıştır?

- A) Benim saçlarım ablamınkinden uzun.
B) Taner, yorgun olduğu için bizimle gelemedi.
C) Yere düşünce dizim kanadı.
D) Sinem , Gaye gibi güzel şarkı söyler.

- 11) Poşetteki cevizlerin önce $\frac{3}{14}$ 'ünü , sonra $\frac{5}{14}$ 'ünü yedik.

Yukarıdaki ifadeye göre poşette ne kadar ceviz kalmıştır ?

- A) $\frac{8}{14}$ B) $\frac{6}{0}$
C) $\frac{5}{14}$ D) $\frac{6}{14}$

- 12) Yandaki işleme göre $A+B+C$ işleminin sonucu kaçtır?

$$\begin{array}{r} A B C \\ A B C \\ A B C \\ + A B C \\ \hline 1 8 6 8 \end{array}$$

- A) 17 B) 18
C) 15 D) 20

- 13) Yandaki bölme işleminde kalan bilinmemektedir. Buna göre bölünen **en fazla** kaç olabilir ?

$$\begin{array}{r} \dots\dots | 15 \\ - \quad \quad | 37 \\ \hline \end{array}$$

- A) 555 B) 569
C) 570 D) 565

- 14) $80 - 24 \neq 4 \times 7$

Aşağıdakilerden hangisi yapılırsa yukarıdaki matematiksel ifadelerde eşitlik sağlanmış olur?

- A) $(80 - 24) \div 3 = 4 \times 7$
B) $80 - 24 = (4 \times 7) \times 2$
C) $(80 - 24) - 20 = 4 \times 7$
D) $80 - 24 = (4 \times 7) + 25$

- 15) Arda, bilyelerinin $\frac{3}{8}$ 'ünü arkadaşına vermiş. Arda 17 tane daha bilye verseydi bilyelerinin yarısını vermiş olurdu.

Yukarıdaki ifadeye göre bilyeleri vermeden önce Arda'nın kaç tane bilyesi vardı?

- A) 140 B) 68 C) 136 D) 128

- 16) Bir çiçekçi, 432 tane çiçeği her birinde bir düzine çiçek olacak demetler halinde satacak.

Çiçekçi, demetlerin tanesini 48 liraya satacağına göre bu satıştan kaç lira elde eder?

- A) 1628 B) 1718
C) 1618 D) 1728

17) Yandaki çıkarma işleminde eksilen çıkanın 5 katı olduğuna göre , eksilen kaçtır?

$$\begin{array}{r} \color{red}{\bullet} \\ - \color{blue}{\blacksquare} \\ \hline 96 \end{array}$$

- A) 120 B) 24
C) 130 D) 124

18)

$$\begin{array}{l} 46 \times 100 = 4600 \\ 4600 \div 2 = 2300 \end{array}$$

Yukarıda kısa yoldan yapıış şekli verilen işlem aşağıdakilerden hangisidir?

- A) 46×5 B) 46×25
C) 46×50 D) 23×50

19) Yandaki saatin gösterdiği zamanın 5 çeyrek saat öncesinde saat kaç olur?



- A) 09.55 B) 09. 00
C) 09.05 D) 08.55

20) 1 yıl 4 ay = $\color{blue}{\blacksquare}$ gün
9 ay 4 hafta = $\color{red}{\bullet}$ gün

Yukarıdaki ifadelere $\color{blue}{\blacksquare}$ - $\color{red}{\bullet}$ işleminin sonucu kaçtır

- A) 187 B) 217
C) 197 D) 167

21) Aşağıdakilerden hangisi motorlu bir uçakla uçuş olayını gerçekleştirmiştir?

- A) Hazarfen Ahmet Çelebi
- B) Alexander Graham Bell
- C) Thomas Edison
- D) Wright Kardeşler

22) Aşağıdakilerden hangisi yandaki teknolojik ürünün faydalarından biri **değildir**?



- A) Araştırma ödevlerimizi yapmamızda yardımcı olur.
- B) Uzun süre kullanırsak arkadaşlık bağlarımız zayıflar.
- C) İletişim kurmamızı sağlar.
- D) Yeni bilgiler öğrenmemizi sağlar.

23)



I II III IV

Yukarıdaki telefonları geçmişten günümüze doğru sıraladığımızda sıralama nasıl olur?

- A) IV – II – I – III
- B) IV – I – II – III
- C) IV – III – II – I
- D) II – IV – I – III

24) ■ Bilgiye daha çabuk ulaşıyoruz.

- ◆ Sağlık alanında yeni tedavi şekilleri geliştirilmiştir.
- ▲ Hava kirliliği nedeniyle rahat nefes alıp veremiyoruz.
- Ulaşım daha konforlu ve hızlı yapılmaktadır.

Yukarıdakilerden hangisi teknolojik gelişmelerin olumlu etkilerinden **değildir**?

- A) ▲ B) ◆ C) ● D) ■

25) Aşağıdakilerden hangisi deprem sonrasında yapılacaklardandır?

- A) Devrilebilecek eşyaları duvara sabitlemeliyiz.
- B) Acil durum planı hazırlanmalı.
- C) Önceden belirlenen toplanma yerine gitmeliyiz.
- D) Sağlam bir eşyanın yanına çömelip kapanmalıyız.

26) ● Sel

- ◆ Deprem
- Fırtına
- △ Heyelan

Doğal bitki örtüsünü koruma ve çevreyi ağaçlandırma önlemi yukarıdaki doğal afetlerden hangileri için alınabilir?

- A) ◆ △ B) □ △
- C) ● △ D) ● ◆

27) Aşağıdakilerden hangisi bir yağış türü **değildir**?

- A) Dolu B) Kar
C) Yağmur D) Sis

28) I – Krokide gerçek uzunluklar belli bir oranda küçültülür.

II – Krokide önemli noktalar çizilir.

III – Bir adresi tarif etmek amacıyla çizilebilir.

IV – Bir mahallenin krokisi çizilemez.

Kroki için yukarıdakilerden hangileri doğrudur?

- A) I - III B) II - III
C) I - IV D) II - IV

29)



Bu savaş Milli Mücadele'nin son savaşıdır. Yunan ordusunun ağır bir yenilgisiyle sonuçlanmıştır.

Yukarıda ifade edilen savaş aşağıdakilerden hangisidir?

- A) Çanakkale Savaşı
B) Başkomutanlık Meydan Muharebesi
C) Sakarya Savaşı
D) 1. İnönü Savaşı

30)



Dedem , çocukluğunda arkadaşlarıyla en çok **aşık** oyununu oynarlarmış. Aşık , keçi ve koyun gibi hayvanların ön dizlerinde bulunan eklem kemiğiymiş. Ellerindeki aşıkla daire içerisindeki aşıkları vurarak çıkarmaya çalışırlarmış.

Yukarıda bahsedilen oyun günümüzde oynanan hangi oyuna benzemektedir ?

- A) Yakan top
B) Saklambaç
C) Bilye oyunu
D) Yağ satarım bal satarım

- 31) Şeker
 Bakır
 Limonata

Yukarıdaki maddelerden karışım olanlara "K", saf madde olanlara "S" yazarsak aşağıdakilerden hangisi doğru olur?

- A)

S
K
K

 B)

S
S
S

 C)




S
S
K

 D)

K
K
S

- 32) Su ısıtılırsa
 Su soğutulursa
 Buz ısıtılırsa

Yukarıdaki cümlelerde noktalı yerlere aşağıdakilerden hangisi yazılmalıdır?

- A)  buharlaşır  erir  donar
 B) buharlaşır donar erir
 C) erir donar buharlaşır
 D) erir buharlaşır donar

- 33)

hava – toprak – ışık – ses – taş
elektrik – ısı – tuz – elma - kalem

Ercan, yukarıdaki madde sayısı kadar ceviz yediğini söylüyor. Buna göre Ercan kaç tane ceviz yemiştir?

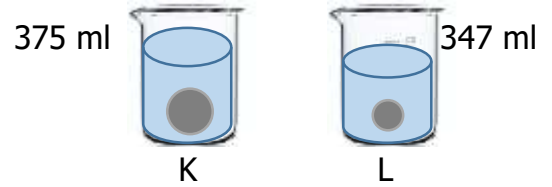
- A) 6 B) 4 C) 7 D) 5

- 34) I – Belirli bir şekilleri yoktur.
 II – Uçucudur.
 III – Akışkandır.

Yukarıdakilerden hangisi veya hangileri sıvı ve gazların ortak özellikleridir?

- A) I - III B) I
 C) I – II D) I – II - III

- 35) İçerisinde 250 mL su bulunan kaplara K ve L cisimleri bırakılıyor.



Buna göre K ve L cisimlerinin hacimleri ile ilgili hangisi **yanlıştır**?

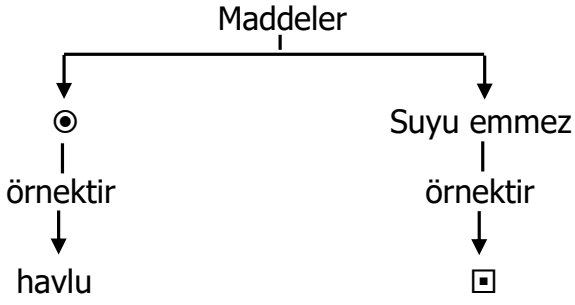
- A) K'nin hacmi fazladır.
 B) L'nin hacmi 97 mL'dir.
 C) K'nin hacmi suyun hacminden azdır.
 D) Bir kaptaki suyun hacmi K ve L'nin toplam hacminden azdır.

- 36) İçü su dolu bir kabın kütlesi 3250 g gelmektedir. Boş kap tartıldığında ise 435 g gelmiştir.

Yukarıdaki ifadeye göre suyun net kütlesi kaç gramdır?

- A) 2820 g B) 2920 g
 C) 2925 g D) 2815 g

37)



Yukarıdaki şemada "⊙" ve "□" sembolleri yerine sırayla hangi ifadeler yazılabilir?

- | ⊙ | □ |
|---------------|-----------|
| A) Suyu emer | kağıt |
| B) Suyu emmez | şemsiye |
| C) Suyu emer | yağmurluk |
| D) Suyu emer | sünger |

38) ◇ Hızlanma

⊙ Durma

□ Yavaşlama

△Yön değiştime

Hareketli bir cisme hareketinin tam tersi yönde bir kuvvet uygulandığında **ilk olarak** yukarıdakilerden hangisi gözlemlenir?

- | | |
|------|------|
| A) □ | B) ◇ |
| C) △ | D) ⊙ |

39)



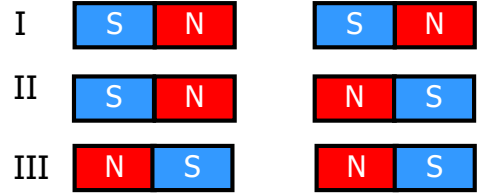
Vücudumuzun yaklaşık $\frac{3}{4}$ 'ü

..... .

Yukarıdaki ifadede noktalı yere aşağıdakilerden hangisi yazılmalıdır?

- A) proteindir
- B) sudur
- C) vitamindir
- D) yağdır

40)



Yukarıda verilen mıknatıs çiftlerinden hangileri birbirini çeker?

- | | |
|-------------|-----------------|
| A) I - II | B) I - III |
| C) II - III | D) I - II - III |

CEVAP ANAHTARI

TÜRKÇE	MATEMATİK	SOSYAL BİL.	FEN BİLİM.
1) D	11) D	21) D	31) C
2) B	12) A	22) B	32) B
3) B	13) B	23) A	33) A
4) C	14) B	24) A	34) A
5) A	15) C	25) C	35) D
6) A	16) D	26) C	36) D
7) C	17) A	27) D	37) C
8) C	18) C	28) B	38) A
9) B	19) D	29) B	39) B
10) D	20) A	30) C	40) B