


BÖLME İŞLEMİNİ KAVRAYALIM


1. Etkinlik : Aşağıdaki soruları cevaplayalım. Noktalı yerleri dolduralım.

a.) 10 elmayı 2 çocuğa eşit sayıda paylaşalım. Her çocuğun kaç elması olur?




Her çocuğun elması oldu.

b.) 9 kalem 3 çocuğe eşit sayıda paylaşalım. Her çocuğun kaç kalem olur?



Her çocuğun kalem oldu.

c.) 20 cevizi 4 çocuğe eşit sayıda paylaşalım. Her çocuğun kaç cevizi olur?




Her çocuğun cevizi oldu.

d.) 25 bilyeyi 5 çocuğe eşit sayıda paylaşalım. Her çocuğun kaç bilyesi olur?



Her çocuğun bilyesi oldu.

e.) 18 bilyeyi 3 çocuğe eşit sayıda paylaşalım. Her çocuğun kaç kalem olur?



Her çocuğun bilyesi oldu.