

## BÖLME İŞLEMİNİ KAVRAYALIM

1. Etkinlik : Verilen çıkarma işlemlerini tamamlayıp, bölme işlemi olarak gösterelim.

a.)

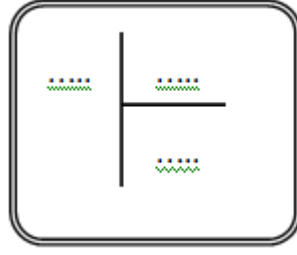
$15 - 5 =$

$.... - 5 = ....$

$.... - 5 = ....$



.... işlem yaptık.



b.)

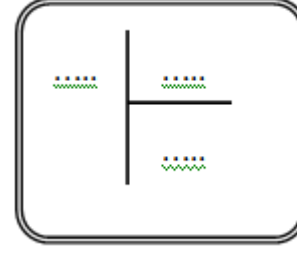
$12 - 4 = ....$

$.... - 4 = ....$

$.... - 4 = ....$



.... işlem yaptık.



c.)

$20 - 5 = ....$

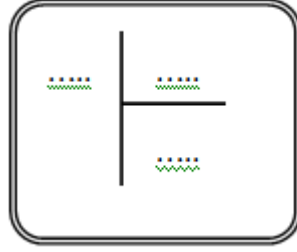
$.... - 5 = ....$

$.... - 5 = ....$

$.... - 5 = ....$



.... işlem yaptık.



ç.)

$14 - 2 = ....$

$.... - 2 = ....$

$.... - 2 = ....$

$.... - 2 = ....$

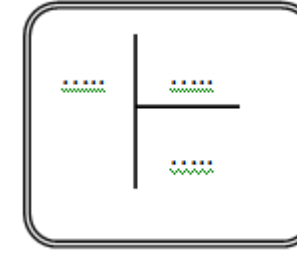
$.... - 2 = ....$

$.... - 2 = ....$

$.... - 2 = ....$



.... işlem yaptık.



c.)

$18 - 3 = ....$

$.... - 3 = ....$

$.... - 3 = ....$

$.... - 3 = ....$

$.... - 3 = ....$

$.... - 3 = ....$



.... işlem yaptık.

