



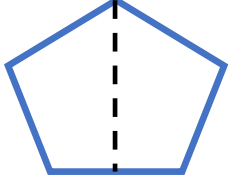
# BÜTÜN - YARIM



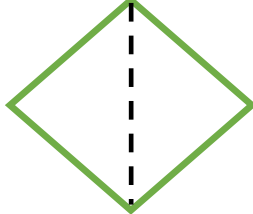
**Bütün:** Bir varlığın kendisine **bütün** denir.

**Yarım:** Bütünün iki eş parçasından her birine **yarım** denir.


1-) Aşağıda verilen şekillerin istenen parçalarını boyayalım.



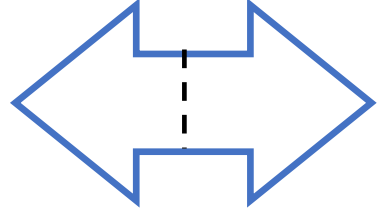
yarım




bütün




yarım



bütün



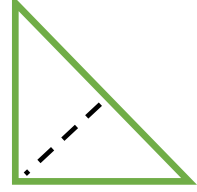
bütün



yarım




bütün



yarım


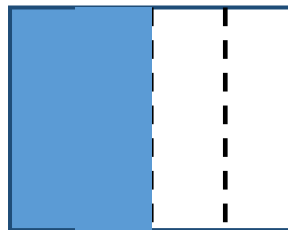


2-) Aşağıda verilmiş olan nesnelere bakarak **bütün** , **yarım** şeklinde eşleştirin.



yarım

bütün

3-) Aşağıdaki şekillerin boyanan kadarını bütün, yarım, şeklinde ismini altına yazınız.



.....

.....

.....


.....




## BÜTÜN - YARIM 2



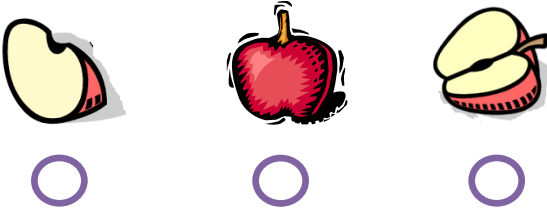
1-) Aşağıdaki şekillerin **yarısını** boyayalım.



2-) Aşağıda verilen nesnelere **yarısını çizip** boyayalım.



3-) Aşağıdakilerden hangisi **yarımı gösterir** işaretleyiniz?



4-) Aşağıdakilerden hangisi **bütünü** gösterir işaretleyiniz?



6-) Yarım olan varlıkların altlarındaki kutucuğu **yeşile**, bütün olan varlıkların altlarındaki kutucuğu **kırmızıya** boyayalım.

