
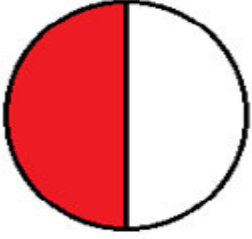




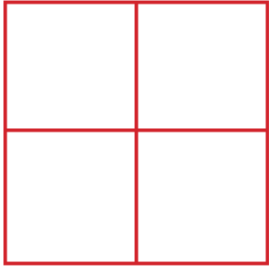
BÜTÜN - YARIM 3




1-) Aşağıda verilen şekillerin boyalı kısımlarının **bütün** veya **yarım** olduklarını yazınız.



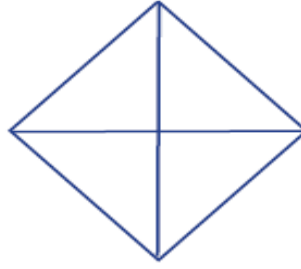
2-) Aşağıda verilen altında belirtilen kadarını boyayınız.



YARIM



BÜTÜN



YARIM



BÜTÜN

3-) Aşağıda verilmiş olan nesnelere bakarak **bütün** , **yarım** şeklinde eşleştirin.



yarım

bütün

4-) Aşağıda verilen birbirine eş olan **yarım** şekilleri eşleştiriniz.





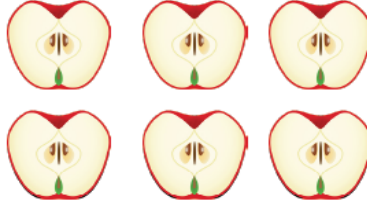
BÜTÜN - YARIM 4



Arkadaşlar merhaba, ben Kral Şakir Bir bütünde 2 yarım vardır. Buna göre aşağıda verilen yarımaları gruplayarak kaç bütün oluşturduğunu şekillerin altına yazınız.




..... yarım ekmek
..... bütün ekmektir.




..... yarım elma
..... bütün elmadır.



..... yarım portakal
..... bütün portakaldır.




..... yarım kivi
..... bütün kividir.




..... yarım armut
..... bütün armuttur.




..... yarım portakal
..... bütün portakaldır.



..... yarım nar
..... bütün nardır.



..... yarım domates
..... bütün domatestir




..... yarım karpuz
..... bütün karpuzdur.



..... yarım kivi
..... bütün kividir.



..... yarım pizza
..... bütün pizzadır



..... yarım simit
..... bütün simittir.